



Staff Selection Commission
(Government Of India)

REGISTRATION NUMBER : KVCLASSES

EXAM DATE : 28-March-2018

EXAM NAME : SSC Examination

TOTAL MARKS : 200

CANDIDATE NAME : KVCLASSES

EXAM START TIME : 10:00:00

EXAM DURATION : 01:00 Hrs

TOTAL NO OF QUESTIONS : 100

QID : 1 - In the following question, some part of the sentence may have errors. Find out which part of the sentence has an error and select the appropriate option. If a sentence is free from error, select 'No Error'.

The 26th of January was chosen (1)/ to commemorate the Purna Swaraj, (2)/ declaration for the complete independence, of 1930. (3)/ No error (4)

Options:

- 1) 1
- 2) 2
- 3) 3
- 4) 4

Correct Answer: 3

Candidate Answer: 3

QID : 2 - In the following question, some part of the sentence may have errors. Find out which part of the sentence has an error and select the appropriate option. If a sentence is free from error, select 'No Error'.

A Creole language is a (1)/ stable natural language develop from (2)/ a mixture of different languages. (3)/ No error (4)

Options:

- 1) 1
- 2) 2
- 3) 3
- 4) 4

Correct Answer: 2

Candidate Answer: 2

QID : 3 - In the following question, the sentence given with blank to be filled in with an appropriate word. Select the correct alternative out of the four and indicate it by selecting the appropriate option.

She was discharged _____ the hospital after treatment.

Options:

- 1) from
- 2) of
- 3) with
- 4) as

Correct Answer: from

Candidate Answer: from

QID : 4 - In the following question, the sentence given with blank to be filled in with an appropriate word. Select the correct alternative out of the four and indicate it by selecting the appropriate option.

The mechanic _____ the car according to his own liking.

Options:

- 1) tweaking
- 2) is tweaked
- 3) will tweak
- 4) have tweaked

Correct Answer: will tweak

Candidate Answer: will tweak

QID : 5 - In the following question, out of the given four alternatives, select the one which best expresses the meaning of the given word.

Dour

Options:

- 1) Cheery
- 2) Pleasant
- 3) Morose
- 4) Approachable

Correct Answer: Morose

Candidate Answer: Morose

QID : 6 - In the following question, out of the given four alternatives, select the one which best expresses the meaning of the given word.

Scrumptious

Options:

- 1) Stale
- 2) Crushable
- 3) Devotedness
- 4) Tasty

Correct Answer: Tasty

Candidate Answer: Tasty

QID : 7 - In the following question, out of the given four alternatives, select the one which is opposite in meaning of the given word.

Exquisite

Options:

- 1) Elaborate
- 2) Consummate
- 3) Sensitive
- 4) Rough

Correct Answer: Rough

Candidate Answer: Consummate

QID : 8 - In the following question, out of the given four alternatives, select the one which is opposite in meaning of the given word.

Dogmatic

Options:

- 1) Flexible
- 2) Arrogant
- 3) Formal
- 4) Stubborn

Correct Answer: Flexible

Candidate Answer: Flexible

QID : 9 - Rearrange the parts of the sentence in correct order.

A serious critic

P : meaning of a work of art

Q : has to comprehend the particular

R : content, unique structure, and the special

Options:

- 1) QRP
- 2) RQP
- 3) PQR
- 4) QPR

Correct Answer: QRP

Candidate Answer: QRP

QID : 10 - A sentence has been given in Active/Passive Voice. Out of the four given alternatives, select the one which best expresses the same sentence in Passive/Active Voice.

The boss made the assistant work late.

Options:

- 1) The assistant was made to work late by the boss.
- 2) The assistant is being urged to work late.
- 3) The assistant was make to work late by the boss.
- 4) The assistant is working late due to the boss.

Correct Answer: The assistant was made to work late by the boss.

Candidate Answer: The assistant was made to work late by the boss.

QID : 11 - A sentence has been given in Direct/Indirect Speech. Out of the four given alternatives, select the one which best expresses the same sentence in Indirect/Direct Speech.

Sneha said, "I am buying a gaming console today."

Options:

- 1) Sneha said that she is buying a gaming console today.
- 2) Sneha says she was buying a gaming console that day.
- 3) Sneha say that she is buying a gaming console today.
- 4) Sneha said that she was buying a gaming console that day.

Correct Answer: Sneha said that she was buying a gaming console that day.

Candidate Answer: Sneha said that she was buying a gaming console that day.

QID : 12 - In the following question, a word has been written in four different ways out of which only one is correctly spelt. Select the correctly spelt word.

Options:

- 1) Handkurchief
- 2) Handkerchief
- 3) Handkerchef
- 4) Handkurchef

Correct Answer: Handkerchief

Candidate Answer: Handkerchief

QID : 13 - In the following passage, some of the words have been left out. Read the passage carefully and select the correct answer for the given blank out of the four alternatives.

It is this fact which makes it _____ necessary that our interests shall be broad and pure if our thoughts are to be of this type. It is _____ enough that we have the strength to drive from our minds a wrong or impure thought which seeks _____. To stand guard as a policeman over our thoughts to see that no unworthy one enters, requires _____ much time and energy. Our interests must be of such a nature as to lead us away from the field of unworthy thoughts _____ we are to be free from their tyranny.

which makes it _____ necessary that our interests

Options:

- 1) vital
- 2) vitality
- 3) vitally
- 4) vitalism

Correct Answer: vitally

Candidate Answer: vital

QID : 14 - In the following passage, some of the words have been left out. Read the passage carefully and select the correct answer for the given blank out of the four alternatives.

It is this fact which makes it _____ necessary that our interests shall be broad and pure if our thoughts are to be of this type. It is _____ enough that we have the strength to drive from our minds a wrong or impure thought which seeks _____. To stand guard as a policeman over our thoughts to see that no unworthy one enters, requires _____ much time and energy. Our interests must be of such a nature as to lead us away from the field of unworthy thoughts _____ we are to be free from their tyranny.

It is _____ enough that we have

Options:

- 1) not
- 2) no
- 3) nor
- 4) neither

Correct Answer: not

Candidate Answer: neither

QID : 15 - In the following passage, some of the words have been left out. Read the passage carefully and select the correct answer for the given blank out of the four alternatives.

It is this fact which makes it _____ necessary that our interests shall be broad and pure if our thoughts are to be of this type. It is _____ enough that we have the strength to drive from our minds a wrong or impure thought which seeks _____. To stand guard as a policeman over our thoughts to see that no unworthy one enters, requires _____ much time and energy. Our interests must be of such a nature as to lead us away from the field of unworthy thoughts _____ we are to be free from their tyranny.

which seeks _____. To stand guard

Options:

- 1) entrance
- 2) enter
- 3) entering
- 4) enters

Correct Answer: entrance

Candidate Answer: entrance

QID : 16 - In the following passage, some of the words have been left out. Read the passage carefully and select the correct answer for the given blank out of the four alternatives.

It is this fact which makes it _____ necessary that our interests shall be broad and pure if our thoughts are to be of this type. It is _____ enough that we have the strength to drive from our minds a wrong or impure thought which seeks _____. To stand guard as a policeman over our thoughts to see that no unworthy one enters, requires _____ much time and energy. Our interests must be of such a nature as to lead us away from the field of unworthy thoughts _____ we are to be free from their tyranny.

enters, requires _____ much time and energy.

Options:

- 1) to
- 2) very
- 3) of
- 4) too

Correct Answer: too

Candidate Answer: too

QID : 17 - In the following passage, some of the words have been left out. Read the passage carefully and select the correct answer for the given blank out of the four alternatives.

It is this fact which makes it _____ necessary that our interests shall be broad and pure if our thoughts are to be of this type. It is _____ enough that we have the strength to drive from our minds a wrong or impure thought which seeks _____. To stand guard as a policeman over our thoughts to see that no unworthy one enters, requires _____ much time and energy. Our interests must be of such a nature as to lead us away from the field of unworthy thoughts _____ we are to be free from their tyranny.

unworthy thoughts _____ we are to be

Options:

- 1) if
- 2) when
- 3) why
- 4) then

Correct Answer: if

Candidate Answer: then

QID : 18 - In the following question, out of the four alternatives, select the alternative which best expresses the meaning of the idiom/phrase.

A shot in the arm

Options:

- 1) Get hit by something.
- 2) Lose physical strength.
- 3) Lose motivation to do a task.
- 4) An encouraging stimulus.

Correct Answer: An encouraging stimulus.

Candidate Answer: An encouraging stimulus.

QID : 19 - In the following question, out of the four alternatives, select the alternative which best expresses the meaning of the idiom/phrase.

Your number is up

Options:

- 1) When you win by betting on your lucky number
- 2) Be the chosen one from a large group.
- 3) Win a lottery or a lucky draw.
- 4) The time has come when someone is doomed to suffer a disaster.

Correct Answer: The time has come when someone is doomed to suffer a disaster.

Candidate Answer: The time has come when someone is doomed to suffer a disaster.

QID : 20 - In the following question, out of the four alternatives, select the alternative which is the best substitute of the words/sentence.

The study and classification of speech sounds

Options:

- 1) Twang
- 2) Resonance
- 3) Oratory
- 4) Phonetics

Correct Answer: Phonetics

Candidate Answer: Phonetics

QID : 21 - In the following question, out of the four alternatives, select the alternative which is the best substitute of the words/sentence.

Feeling or expressing pensive sadness

Options:

- 1) Mirthful
- 2) Exultant
- 3) Apathetic
- 4) Melancholic

Correct Answer: Melancholic

Candidate Answer: Melancholic

QID : 22 - In the following question, out of the four alternatives, select the alternative which will improve the bracketed part of the sentence. In case no improvement is needed, select "no improvement".

You might be **(to incline)** to put the blame on infrastructure and officials, which is understandable.

Options:

- 1) inclined
- 2) incline
- 3) inclines
- 4) no improvement

Correct Answer: inclined

Candidate Answer: inclined

QID : 23 - In the following question, out of the four alternatives, select the alternative which will improve the bracketed part of the sentence. In case no improvement is needed, select "no improvement".

LPG quickly **(gain)** popularity as it was easy to use and did not tarnish vessels.

Options:

- 1) gaining
- 2) will gain
- 3) gained
- 4) no improvement

Correct Answer: gained

Candidate Answer: gained

QID : 24 - The question below consists of a set of labelled sentences. Out of the four options given, select the most logical order of the sentences to form a coherent paragraph.

So we did get

A-to read a whole lot

B-this day onwards

C-on how we can save the sparrow from

Options:

- 1) ABC
- 2) CBA
- 3) ACB
- 4) CAB

Correct Answer: ACB

Candidate Answer: ACB

QID : 25 - In the following question, four words are given out of which one word is correctly spelt. Select the correctly spelt word.

Options:

- 1) frenatically
- 2) freneticaly
- 3) frenetically
- 4) frenaticaly

Correct Answer: frenetically

Candidate Answer: frenatically

QID : 26 - In the following question, select the related word pair from the given alternatives.

Wine : Grapes :: ? : ?

निम्नलिखित प्रश्न में दिए गए विकल्पों में से संबंधित शब्द युग्म को चुनिए।

मदिरा : अंगूर :: ? : ?

Options:

- 1) Curd : Milk
दही : दूध
- 2) Thread : Cloth
धागा : कपड़ा
- 3) Wood : Table
लकड़ी : मेज़
- 4) Chair : Sit
कुर्सी : बैठना

Correct Answer: Curd : Milk

दही : दूध

Candidate Answer: Curd : Milk

दही : दूध

QID : 27 - In the following question, select the related number from the given alternatives.

36 : 9 :: 49 : ?

निम्नलिखित प्रश्न में दिए गए विकल्पों में से संबंधित संख्या को चुनिए।

36 : 9 :: 49 : ?

Options:

- 1) 24
- 2) 13
- 3) 32
- 4) 15

Correct Answer: 13

Candidate Answer: 13

QID : 28 - In the following question, select the related letter/letters from the given alternatives.

GHJ : JKM :: NOQ : ?

निम्नलिखित प्रश्न में दिए गए विकल्पों में से संबंधित अक्षर/अक्षरों को चुनिए।

GHJ : JKM :: NOQ : ?

QID : 33 - In the following question, select the missing number from the given series.

1, 2, 6, 42, ?

निम्नलिखित प्रश्न में दिए गए विकल्पों में से लुप्त अंक ज्ञात कीजिए।

1, 2, 6, 42, ?

Options:

- 1) 1696
- 2) 1036
- 3) 1806
- 4) 984

Correct Answer: 1806

Candidate Answer: 1806

QID : 34 - A series is given with one term missing. Select the correct alternative from the given ones that will complete the series.

L, O, Q, T, V, ?

एक अनुक्रम दिया गया है, जिसमें से एक पद लुप्त है। दिए गए विकल्पों में से वह सही विकल्प चुनिए, जो अनुक्रम को पूरा करे।

L, O, Q, T, V, ?

Options:

- 1) X
- 2) W
- 3) Y
- 4) Z

Correct Answer: Y

Candidate Answer: Y

QID : 35 - 'R + S' means 'R is mother of S', 'R - S' means 'R is wife of S', 'R × S' means 'R is son of S' and 'R ÷ S' means 'R is father of S'. Which of the following represents K as the grandson of T?

'R + S' का अर्थ है कि 'R, S की माता है', 'R - S' का अर्थ है कि 'R, S की पत्नी है', 'R × S' का अर्थ है कि 'R, S का पुत्र है' तथा 'R ÷ S' का अर्थ है कि 'R, S का पिता है'। निम्नलिखित में से कौन सा K को T का पौत्र दर्शाता है?

Options:

- 1) $K + T \times J \times R$
- 2) $J + K \times L \times T$
- 3) $R + T - S \div K$
- 4) $K + L \times R \div T$

Correct Answer: $J + K \times L \times T$

Candidate Answer: $J + K \times L \times T$

QID : 36 - From the given alternatives, select the word which **CANNOT** be formed using the letters of the given word.

Recalcitrant

दिए गए विकल्पों में से वह शब्द चुनिए जो दिए गए शब्द के अक्षरों का प्रयोग करके नहीं बनाया जा सकता है।

Recalcitrant

Options:

- 1) Can
- 2) Rent
- 3) Recall
- 4) Calcite

Correct Answer: Recall

Candidate Answer: Recall

QID : 37 - In a certain code language, "FRANK" is written as "GQBML". How is "MARCO" written in that code language?

एक विशिष्ट कोड भाषा में, "FRANK" को "GQBML" लिखा जाता है। इस कोड भाषा में "MARCO" को किस प्रकार लिखा जाएगा?

Options:

- 1) NYTPB
- 2) MZSCQ
- 3) NZSBP
- 4) NQPBT

Correct Answer: NZSBP

Candidate Answer: NZSBP

QID : 38 - In a certain code language, 'x' represents '+', '=' represents 'x', '!' represents '÷' and '!' represents '!'. Find out the answer to the following question.

$20 + 16 \times 6 \div 10 - 4 = ?$

किसी निश्चित कोड भाषा में 'x', '+' को प्रदर्शित करता है, '=' को प्रदर्शित करता है, '!' को प्रदर्शित करता है और '!' को प्रदर्शित करता है। निम्नलिखित प्रश्न का उत्तर ज्ञात करें।

$20 + 16 \times 6 \div 10 - 4 = ?$

Options:

- 1) 13
- 2) 12
- 3) 30
- 4) 19

Correct Answer: 19

Candidate Answer: 19

QID : 39 - The following equation is incorrect. Which two signs should be interchanged to correct the equation?

$$13 \times 8 + 25 - 6 \div 10 = 20$$

निम्नलिखित समीकरण गलत है। इस समीकरण को सही करने के लिए किन दो चिन्हों को आपस में अदला-बदली करना चाहिए?

$$13 \times 8 + 25 - 6 \div 10 = 20$$

Options:

- 1) \div and -
 \div और -
- 2) \times and -
 \times और -
- 3) + and \div
+ और \div
- 4) - and +
- और +

Correct Answer: \times and -

\times और -

Candidate Answer: \times and -

\times और -

QID : 40 - If $30\%3 = 100$, $70\%14 = 50$ and $20\%8 = 25$, then find the value of $50\%5 = ?$

यदि $30\%3 = 100$, $70\%14 = 50$ और $20\%8 = 25$, तो $50\%5$ का मान ज्ञात करें।

Options:

- 1) 110
- 2) 30
- 3) 100
- 4) 20

Correct Answer: 100

Candidate Answer: 100

QID : 41 - Which of the following terms follows the trend of the given list?

CBABABAB, BACBABAB, BABACBAB, BABABACB, BCABABAB, _____.

निम्नलिखित में से कौन सा पद दी गयी सूची के क्रम के अनुसार है?

CBABABAB, BACBABAB, BABACBAB, BABABACB, BCABABAB, _____.

Options:

- 1) BABABCAB
- 2) CBABABAB
- 3) BACBABAB
- 4) BABCABAB

Correct Answer: BABCABAB

Candidate Answer: BABCABAB

QID : 42 - Two football players A and B from opposing teams start from the same corner. A runs 35 m East, then 15 m South, turns to his right and runs 60 m. Meanwhile B runs 20 m North, then 25 m West, turns left and runs 20 m. What is the position of B with respect to A?

विरोधी दल के दो फुटबाल खिलाड़ी A और B एक ही कोने से खेलना शुरू करते हैं। A पूर्व की तरफ 35 मी. और फिर दक्षिण की तरफ 15 मी. दौड़ता है, उसके बाद दाहिनी ओर मुड़ जाता है और आगे 60 मी. दौड़ता है। इस बीच B उत्तर की तरफ 20 मी. और फिर पश्चिम की तरफ 25 मी. दौड़ता है, अपने बाएं मुड़ता है और आगे 20 मी. दौड़ता है। A के संबंध में B की स्थिति क्या है?

Options:

- 1) 15 m North
15 मी. उत्तर
- 2) 5 m North
5 मी. उत्तर
- 3) 15 m South
15 मी. दक्षिण
- 4) 5 m South
5 मी. दक्षिण

Correct Answer: 15 m North

15 मी. उत्तर

Candidate Answer: 15 m North

15 मी. उत्तर

QID : 43 - In the question two statements are given, followed by two conclusions, I and II. You have to consider the statements to be true even if it seems to be at variance from commonly known facts. You have to decide which of the given conclusions, if any, follows from the given statements.

Statement I: All sticks are canes

Statement II: Some wands are sticks

Conclusion I: Some canes are wands

Conclusion II: No wands are canes

प्रश्न में दो कथन दिये गये हैं जिसके आगे दो निष्कर्ष I और II निकाले गये हैं। आपको मानना है कि दोनों कथन सत्य है चाहे वह सामान्यतः ज्ञात तथ्यों से भिन्न प्रतीत होते हों। आपको निर्णय करना है की दिए गए निष्कर्षों में से कौन-सा/कौन-से निश्चित रूप से कथन द्वारा सही निकाला जा सकता है/सकते हैं, यदि कोई हो।

कथन I: सभी स्टिक्स केन्स होती हैं

कथन II: कुछ वांड्स स्टिक्स होते हैं

निष्कर्ष I: कुछ केन्स वांड्स होते हैं

निष्कर्ष II: कोई भी वांड्स केन्स नहीं होते हैं

Options:

1) Only conclusion I follows

केवल निष्कर्ष I सही है

2) Only conclusion II follows

केवल निष्कर्ष II सही है

3) Both conclusions I and II follow

दोनों निष्कर्ष I और II सही है

4) Neither conclusion I nor conclusion II follows

ना तो निष्कर्ष I सही है ना ही निष्कर्ष II

Correct Answer: Only conclusion I follows

केवल निष्कर्ष I सही है

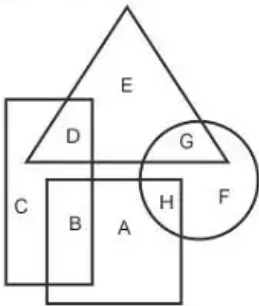
Candidate Answer: Only conclusion I follows

केवल निष्कर्ष I सही है

QID : 44 -

In the following figure, rectangle represents Authors, circle represents Art critics, triangle represents Tattooists and square represents Joggers. Which set of letters represents Joggers who are either Art critics or Authors?

निम्नलिखित आकृति में, आयत लेखकों को प्रदर्शित करता है, वृत्त कला समीक्षकों को प्रदर्शित करता है, त्रिभुज टैटू कलाकारों को प्रदर्शित करता है और वर्ग जॉगर्स को प्रदर्शित करता है। अक्षरों का कौन सा समूह उन जॉगर्स को प्रदर्शित करता है जो या तो कला समीक्षक हैं या लेखक हैं?



Options:

1) BAH

2) CBA

3) AHF

4) BH

Correct Answer: BH

Candidate Answer: BH

QID : 45 - A series is given with one term missing. Select the correct alternative from the given ones that will complete the series.

FNG, KSL, PXQ, UCV, ?

एक अनुक्रम दिया गया है, जिसमें से एक पद लुप्त है। दिए गए विकल्पों में से वह सही विकल्प चुनिए, जो अनुक्रम को पूरा करे।

FNG, KSL, PXQ, UCV, ?

Options:

- 1) YIB
- 2) ZHA
- 3) AIB
- 4) BJC

Correct Answer: ZHA

Candidate Answer: ZHA

QID : 46 - In the following question, select the missing number from the given series.

9, 11, 14, 18, 23, ?

निम्नलिखित प्रश्न में दिए गए विकल्पों में से लुप्त अंक ज्ञात कीजिए।

9, 11, 14, 18, 23, ?

Options:

- 1) 31
- 2) 27
- 3) 29
- 4) 33

Correct Answer: 29

Candidate Answer: 29

QID : 47 - In the following question, four groups of three numbers are given. In each group the second and third number are related to the first number by a Logic/Rule/Relation. Three are similar on basis of same Logic/Rule/Relation. Select the odd one out from the given alternatives.

नीचे दिए गए प्रश्न में, तीन संख्याओं के चार समूह दिए गए हैं। प्रत्येक समूह में दूसरी तथा तीसरी संख्या पहली संख्या से किसी एक तर्क/नियम से सम्बंधित है। तीन उसी एक तर्क/नियम के आधार पर समान हैं। दिए गए विकल्पों में से भिन्न को चुनिए।

Options:

- 1) (8, 17, 33)
- 2) (3, 7, 12)
- 3) (9, 19, 37)
- 4) (15, 31, 61)

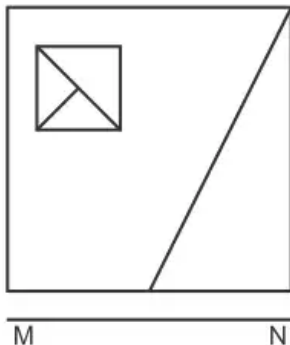
Correct Answer: (3, 7, 12)

Candidate Answer: (3, 7, 12)

QID : 48 -

If a mirror is placed on the line MN, then which of the answer figures is the right image of the given figure?

यदि एक दर्पण को MN रेखा पर रखा जाए तो दी गयी उत्तर आकृतियों में से कौन-सी आकृति प्रश्न आकृति का सही प्रतिबिम्ब होगी?



Options:

1)



2)



3)



4)



Correct Answer:



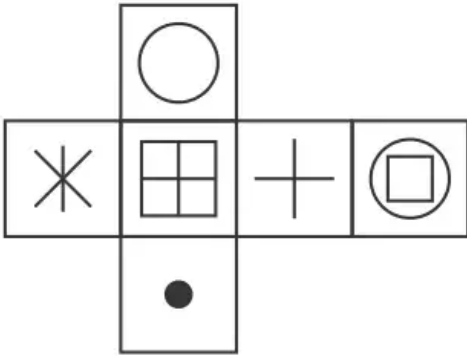
Candidate Answer:



QID : 49 -

Which of the following cube in the answer figure cannot be made based on the unfolded cube in the question figure?

निम्नलिखित उत्तर आकृति में से कौन सा घन दिए गए प्रश्न आकृति में से खुले घन से बनाया नहीं जा सकता?

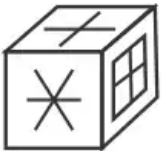


Options:

1)



2)



3)



4)



Correct Answer:



Candidate Answer:



QID : 50 -

A word is represented by only one set of numbers as given in any one of the alternatives. The sets of numbers given in the alternatives are represented by two classes of alphabets as shown in the given two matrices. The columns and rows of Matrix-I are numbered from 0 to 4 and that of Matrix-II are numbered from 5 to 9. A letter from these matrices can be represented first by its row and next by its column, for example 'F' can be represented by 13, 21 etc and 'Y' can be represented by 97, 98 etc. Similarly, you have to identify the set for the word 'TONE'.

एक शब्द केवल एक संख्या-समूह द्वारा दर्शाया गया है, जैसा कि विकल्पों में से किसी एक में दिया गया है। विकल्पों में दिए गए संख्या-समूह अक्षरों के दो वर्गों द्वारा दर्शाए गए हैं, जैसा कि दिए गए दो आव्यूहों में है। आव्यूह-I के स्तम्भ और पंक्ति की संख्या 0 से 4 और आव्यूह-II की 5 से 9 है। इन आव्यूहों से एक अक्षर को पहले उसकी पंक्ति और बाद में स्तम्भ संख्या द्वारा दर्शाया जा सकता है। उदाहरण के लिए 'F' को 13, 21 आदि द्वारा दर्शाया जा सकता है तथा 'Y' को 97, 98 आदि द्वारा दर्शाया जा सकता है। इसी तरह से आपको प्रश्न में दिए शब्द 'TONE' के लिए समूह को पहचानना है।

Matrix I आव्यूह - I					
	0	1	2	3	4
0	K	C	E	B	H
1	B	G	C	F	C
2	D	F	G	D	F
3	M	L	D	H	E
4	G	J	A	L	M

Matrix II आव्यूह - II					
	5	6	7	8	9
5	Q	S	U	X	Q
6	R	X	R	T	W
7	V	P	V	O	P
8	R	W	T	P	T
9	N	R	Y	Y	T

Options:

- 1) 34,75,23,75
- 2) 30,59,43,98
- 3) 14,75,23,69
- 4) 68,78,95,34

Correct Answer: 68,78,95,34

Candidate Answer: 68,78,95,34

QID : 51 -

If the value of $\sqrt{3} = 1.732$, then calculate the value of $\sqrt{243} - \frac{1}{2}\sqrt{108} - \sqrt{147}$.

यदि $\sqrt{3} = 1.732$ है, तो $\sqrt{243} - \frac{1}{2}\sqrt{108} - \sqrt{147}$ का मान ज्ञात कीजिये।

Options:

- 1) 1.732
- 2) -1.464
- 3) 3.464
- 4) -1.732

Correct Answer: -1.732

Candidate Answer: -1.732

QID : 52 - Find the difference between place value and face value of 7 in 589573212.

589573212 में 7 के स्थानीय मान और प्रत्यक्ष मान के बीच का अंतर ज्ञात करें।

Options:

- 1) 693
- 2) 6993
- 3) 69993
- 4) 699993

Correct Answer: 69993

Candidate Answer: 69993

QID : 53 -

If $\sqrt{1 + \frac{y}{16}} = \frac{7}{4}$, then find the value of $5y-15$.

यदि $\sqrt{1 + \frac{y}{16}} = \frac{7}{4}$ है, तो $5y-15$ का मान ज्ञात कीजिये।

Options:

- 1) 110
- 2) 130
- 3) 150
- 4) 160

Correct Answer: 150

Candidate Answer: 150

QID : 54 -

If $x^2 + \frac{1}{x^2} = 6$, then find the value of $\frac{2x(x-1)}{x^3 - x^2 - x + 1}$.

यदि $x^2 + \frac{1}{x^2} = 6$ है, तो $\frac{2x(x-1)}{x^3 - x^2 - x + 1}$ का मान ज्ञात कीजिये।

Options:

- 1) 0
- 2) 1
- 3) 2
- 4) 3

Correct Answer: 1

Candidate Answer: 1

QID : 55 - Calculate the distance (in cm) of the chord from the centre of the circle, if the chord of length 48 cm is drawn in the circle of radius 25 cm.

वृत्त के केंद्र से जीवा की दूरी (सेंटीमीटर में) ज्ञात कीजिये, यदि जीवा की लम्बाई वृत्त में 48 सेंटीमीटर है और वृत्त की त्रिज्या 25 सेंटीमीटर की है।

Options:

- 1) 7
- 2) 14
- 3) 49
- 4) 56

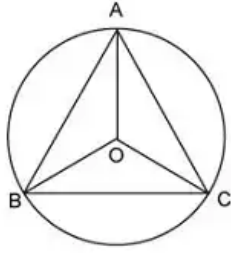
Correct Answer: 7

Candidate Answer: 7

QID : 56 -

If the angle subtended by the radius of the circle and the vertex B of the triangle ABC is 40° . Then calculate the value of $\angle BAC$.

यदि कोण को वृत्त के त्रिज्या के आधार पर वर्गीकृत किया गया है और शीर्ष B पर त्रिभुज ABC का कोण 40° है। $\angle BAC$ का मान ज्ञात कीजिये।



Options:

1) 35°

2) 45°

3) 50°

4) 65°

Correct Answer: 50°

Candidate Answer: 50°

QID : 57 - Weights of two friends A and B are in the ratio of 7 : 8. A's weight increases by 10% and the total weight of A and B increase by 20%. What is the percentage increase in the B's weight?

दो मित्रों A तथा B के भार 7 : 8 के अनुपात में है। A का भार 10% से बढ़ता है एवं A तथा B दोनों का कुल भार 20% बढ़ता है। B के भार में कितने प्रतिशत की वृद्धि हुई है?

Options:

1) 28.75

2) 11.55

3) 32.85

4) 24.25

Correct Answer: 28.75

Candidate Answer: 28.75

QID : 58 - The income of X, Y and Z are in the ratio of 3 : 4 : 2 and their expenses in the ratio of 5 : 5 : 2. If X saves Rs 3000 out of an income of Rs 18000, then what will be the saving (in Rs) of Y?

X, Y तथा Z की आय 3 : 4 : 2 के अनुपात में हैं तथा उनका व्यय 5 : 5 : 2 के अनुपात में है। यदि X, 18000 रु की आय में से 3000 रु बचाता है, तो Y की बचत (रु में) क्या होगी?

Options:

1) 4500

2) 9000

3) 6000

4) 7500

Correct Answer: 9000

Candidate Answer: 9000

QID : 59 - P and Q are two alloys which are prepared by mixing tin and lead in the ratio of 12 : 5 and 4 : 3 respectively. If equal quantities of alloys are melted to form a third alloy R, then what is the ratio of tin and lead in alloy R?

P तथा Q दो मिश्रधातु हैं जोकि टिन तथा सीसा को क्रमशः 12 : 5 तथा 4 : 3 के अनुपात में मिलाकर बनाए गए हैं। यदि मिश्रधातुओं की बराबर मात्राओं को पिघलाकर, एक नया मिश्रधातु R बनाया गया है, तो मिश्रधातु R में टिन तथा सीसा का अनुपात क्या है?

Options:

1) 84 : 65

2) 57 : 35

3) 76 : 43

4) 78 : 47

Correct Answer: 76 : 43

Candidate Answer: 76 : 43

QID : 60 - What will be the average of the first 5 positive even numbers divisible by 9?

प्रथम 5 धनात्मक सम संख्याएँ जोकि 9 से विभाज्य हैं, का औसत क्या होगा?

Options:

- 1) 50
- 2) 54
- 3) 48
- 4) 62

Correct Answer: 54

Candidate Answer: 54

QID : 61 - The simple interest on a sum for 20 years is $\frac{5}{4}$ of the principal. What is the per annum rate (in percentage) of interest?

एक राशि पर 20 वर्षों का साधारण ब्याज मूलधन का $\frac{5}{4}$ है। वार्षिक ब्याज दर (प्रतिशत में) क्या है?

Options:

- 1) 6.25
- 2) 12.5
- 3) 2.5
- 4) 5

Correct Answer: 6.25

Candidate Answer: 6.25

QID : 62 - If Mohan purchase 13 articles for Rs 12 and sells all the articles at the rate of 12 articles for Rs 13, then what will be the profit percentage?

यदि मोहन 12 रु में 13 वस्तुएँ खरीदता है तथा सभी वस्तुएँ, 13 रु में 12 वस्तुएँ की दर से बेच देता है, तो उसका लाभ प्रतिशत क्या होगा?

Options:

- 1) 19.47
- 2) 17.36
- 3) 11.11
- 4) 12.5

Correct Answer: 17.36

Candidate Answer: 17.36

QID : 63 - A tyre is sold at three successive discounts of 20%, 30% and 20%. What is the net discount (in percentage)?

एक पहिया 20%, 30% तथा 20% की तीन क्रमिक छूटों पर बेचा गया है। निवल (नेट) छूट (प्रतिशत में) क्या है?

Options:

- 1) 62.8
- 2) 59.6
- 3) 55.2
- 4) 51.4

Correct Answer: 55.2

Candidate Answer: 55.2

QID : 64 -

What is the value of $\frac{\sqrt{36} + \sqrt[3]{729}}{\sqrt{81} \times \sqrt[3]{64}}$?

$\frac{\sqrt{36} + \sqrt[3]{729}}{\sqrt{81} \times \sqrt[3]{64}}$ का मान क्या है?

Options:

- 1) $\frac{5}{12}$
- 2) $\frac{5}{9}$
- 3) $\frac{4}{9}$
- 4) $\frac{4}{15}$

Correct Answer: $\frac{5}{12}$

Candidate Answer: $\frac{5}{12}$

QID : 65 - Robin can do a work alone in 9 days. Amit can do the same work alone in 6 days. Both of them finish the work together and they get a total Rs 2500. What is the share (in Rs) of Robin?

रोबिन एक कार्य को अकेला 9 दिन में कर सकता है। अमित उसी कार्य को अकेला 6 दिन में कर सकता है। दोनों एक साथ मिलकर कार्य को पूरा करते हैं तथा उन्हें कुल 2500 रु मिलते हैं। रोबिन का हिस्सा (रु में) क्या है?

Options:

1) 1700

2) 1200

3) 1500

4) 1000

Correct Answer: 1000

Candidate Answer: 1000

QID : 66 - A boat covers 63 km upstream in 9 hours and covers the same distance downstream in 7 hours . What is the speed (in km/ hr) of the boat in still water?

एक नाव धारा के प्रतिकूल 63 कि.मी., 9 घंटे में तय करती है तथा समान दूरी धारा के अनुकूल 7 घंटे में तय करती है। स्थिर जल में नाव की गति (कि.मी./घंटा में) क्या है?

Options:

1) 8.7

2) 8.5

3) 7

4) 8

Correct Answer: 8

Candidate Answer: 8

QID : 67 -

The line graph shows the Sales per employee of a certain company. Study the diagram and answer the following questions.

यह रेखा ग्राफ एक विशिष्ट कंपनी के प्रति कर्मचारी बिक्री को दर्शाता है। इस आरेख का अध्ययन करें और निम्नलिखित प्रश्नों के उत्तर दें।



In which year were the Sales per employee greater than that of the previous year?

किस वर्ष में पिछले वर्ष की तुलना में प्रति कर्मचारी अधिक बिक्री हुई थी?

Options:

1) 2014

2) 2015

3) 2017

4) 2016

Correct Answer: 2016

Candidate Answer: 2016

QID : 68 -

The line graph shows the Sales per employee of a certain company. Study the diagram and answer the following questions.

यह रेखा ग्राफ एक विशिष्ट कंपनी के प्रति कर्मचारी बिक्री को दर्शाता है। इस आरेख का अध्ययन करें और निम्नलिखित प्रश्नों के उत्तर दें।



What was the difference in the Sales per employee (in Rs lakhs) between the years 2011 and 2015?

वर्ष 2011 और 2015 के बीच प्रति कर्मचारी बिक्री (लाख रुपये में) में कितना अंतर था?

Options:

- 1) 15
- 2) 10
- 3) 20
- 4) 5

Correct Answer: 20

Candidate Answer: 20

QID : 69 -

The line graph shows the Sales per employee of a certain company. Study the diagram and answer the following questions.

यह रेखा ग्राफ एक विशिष्ट कंपनी के प्रति कर्मचारी बिक्री को दर्शाता है। इस आरेख का अध्ययन करें और निम्नलिखित प्रश्नों के उत्तर दें।



The Sales per employee in 2012 were greater than that in 2015 by _____.

2015 की तुलना में 2012 में प्रति कर्मचारी बिक्री _____ से अधिक थी।

Options:

- 1) 16.7%
- 2) 20%
- 3) 40%
- 4) 28.5%

Correct Answer: 40%

Candidate Answer: 40%

QID : 70 -

The line graph shows the Sales per employee of a certain company. Study the diagram and answer the following questions.

यह रेखा ग्राफ एक विशिष्ट कंपनी के प्रति कर्मचारी बिक्री को दर्शाता है। इस आरेख का अध्ययन करें और निम्नलिखित प्रश्नों के उत्तर दें।



If the number of employees of the company was 80 in the year 2015 then what was the sales (in Rs crore) of the company in the year 2015?

अगर वर्ष 2015 में कंपनी के कर्मचारियों की संख्या 80 थी, तो वर्ष 2015 में हुई कंपनी की बिक्री (करोड़ रुपये में) कितनी थी?

Options:

- 1) 30
- 2) 40
- 3) 20
- 4) 50

Correct Answer: 40

Candidate Answer: 40

QID : 71 - The lengths of the two diagonals of a rhombus are 5 cm and 12 cm. Find its area (in cm^2).

एक समचतुर्भुज के दो विकर्णों की लंबाई 5 सेंटीमीटर और 12 सेंटीमीटर है। इसका क्षेत्रफल (वर्ग सेंटीमीटर में) ज्ञात करें।

Options:

- 1) 30
- 2) 15
- 3) 60
- 4) 45

Correct Answer: 30

Candidate Answer: 30

QID : 72 - What is the sum of the measures of all the interior angles of a regular polygon of 9 sides?

9 भुजाओं वाले एक नियमित बहुभुज के सभी आंतरिक कोणों के मापों का योग क्या होगा?

Options:

- 1) 1260
- 2) 1440
- 3) 1800
- 4) 2340

Correct Answer: 1260

Candidate Answer: 1260

QID : 73 - The surface area of a sphere is 1386 cm^2 . Find its diameter (in cm).

एक गोले के सतह का क्षेत्रफल 1386 वर्ग सेंटीमीटर है। इसका व्यास (सेंटीमीटर में) ज्ञात करें।

Options:

1) 10.5

2) 42

3) 21

4) 31.5

Correct Answer: 21

Candidate Answer: 21

QID : 74 - ΔPQR is right angled at Q. If $m\angle R = 60^\circ$, then find the value of $(\sec P - 1/\sqrt{3})$.

ΔPQR में Q पर समकोण है। यदि $m\angle R = 60^\circ$ है, तो $(\sec P - 1/\sqrt{3})$ का मान ज्ञात करें।

Options:

1) $(\sqrt{6}-6)/3\sqrt{3}$

2) $(1-3\sqrt{2})/3$

3) $1/\sqrt{3}$

4) $2/\sqrt{3}$

Correct Answer: $1/\sqrt{3}$

Candidate Answer: $1/\sqrt{3}$

QID : 75 - ΔPQR is right angled at Q. If $\operatorname{cosec} P = 25/24$, then what is the value of $\cot R$?

ΔPQR में Q पर समकोण है। यदि $\operatorname{cosec} P = 25/24$ है, तो $\cot R$ का मान क्या है?

Options:

1) $25/7$

2) $24/25$

3) $7/24$

4) $24/7$

Correct Answer: $24/7$

Candidate Answer: $24/7$

QID : 76 - National Income refers to _____.

राष्ट्रीय आय _____ को संदर्भित करता है।

Options:

1) money value of goods and services produced in a country during a year

एक वर्ष के दौरान देश में उत्पादित वस्तुओं और सेवाओं का धन मूल्य

2) money value of stocks and shares of a country during a year

एक वर्ष के दौरान किसी देश के स्टॉक और शेयरों का धन मूल्य

3) money value of capital goods produced by a country during a year

एक वर्ष के दौरान किसी देश द्वारा उत्पादित पूंजीगत वस्तुओं का धन मूल्य

4) money value of consumer goods produced by a country during a year

एक वर्ष के दौरान किसी देश द्वारा उत्पादित उपभोक्ता वस्तुओं का धन मूल्य

Correct Answer: money value of goods and services produced in a country during a year

एक वर्ष के दौरान देश में उत्पादित वस्तुओं और सेवाओं का धन मूल्य

Candidate Answer: money value of goods and services produced in a country during a year

एक वर्ष के दौरान देश में उत्पादित वस्तुओं और सेवाओं का धन मूल्य

QID : 77 - State Land Reform is under which part of the Constitution?

राज्य भूमि सुधार संविधान के किस भाग के अंतर्गत है?

Options:

1) 7th Schedule

7वीं अनुसूची

2) 8th schedule

8वीं अनुसूची

3) 9th Schedule

9वीं अनुसूची

4) 10th schedule

10वीं अनुसूची

Correct Answer: 9th Schedule

9वीं अनुसूची

Candidate Answer: 9th Schedule

9वीं अनुसूची

QID : 78 - The remains of the resistant rocks found in the river eroded plain or peneplain are called _____.

नदी अपरदित मैदान अथवा सम्राय मैदान (Peneplain) में यत्र-तत्र पाये जान वाले प्रतिरोधी चट्टानों के अवशेष को कहा जाता है _____।

Options:

1) Monadnock

मोनेडनॉक

2) Jukenberg

जुकैनबर्ग

3) Hum

हम्म

4) No option is correct.

कोई विकल्प सही नहीं है।

Correct Answer: Monadnock

मोनेडनॉक

Candidate Answer: Monadnock

मोनेडनॉक

QID : 79 - Which of the following rivers does not make an estuary?

निम्नलिखित में कौन-सी नदी एशुअरी नहीं बनाती है?

Options:

1) Narmada

नर्मदा

2) Tapi

तापी

3) Mandovi

मांडवी

4) Mahanadi

महानदी

Correct Answer: Mahanadi

महानदी

Candidate Answer: Mahanadi

महानदी

QID : 80 - Which ruler of Bengal had relations with China?

बंगाल के किस शासक ने चीन के साथ संबंध स्थापित किया था?

Options:

1) Ghiyasuddin Azamshah

गयासुद्दीन आजमशाह

2) Sikandar Shah

सिकंदर शाह

3) Nusrat Shah

नुसरत शाह

4) Hussein Shah

हुसैन शाह

Correct Answer: Ghiyasuddin Azamshah

गयासुद्दीन आजमशाह

Candidate Answer: [NOT ANSWERED]

QID : 81 - When was the Arya Samaj divided on principles?

सिद्धांतों को लेकर आर्य समाज का विभाजन कब हुआ?

Options:

1) 1893

2) 1895

3) 1903

4) 1913

Correct Answer: 1893

Candidate Answer: [NOT ANSWERED]

QID : 82 - Ustad Mansur was a famous painter of which Mughal ruler's regime?

उस्ताद मंसूर किस मुगल शासक के शासन काल के प्रसिद्धि चित्रकार थे?

Options:

1) Akbar

अकबर

2) Jahangir

जहांगीर

3) Shah Jahan

शाहजहाँ

4) Aurangzeb

औरंगजेब

Correct Answer: Jahangir

जहांगीर

Candidate Answer: [NOT ANSWERED]

QID : 83 - Which country on 23 October 2017 signed the Paris agreement on climate change, leaving the United States and Syria as the only two countries holding out to sign this global climate pact?

किस देश ने जलवायु परितर्वन से संबंधित पेरिस समझौते पर 23 अक्टूबर, 2017 को हस्ताक्षर कर दिया है, अब संयुक्त राज्य अमेरिका और सीरिया ही ऐसे दो राष्ट्र हैं जिन्होंने इस वैश्विक जलवायु संधि पर हस्ताक्षर नहीं किया है?

Options:

1) Nicaragua

निकारागुआ

2) Colombia

कोलम्बिया

3) Peru

पेरू

4) Uganda

युगाण्डा

Correct Answer: Nicaragua

निकारागुआ

Candidate Answer: [NOT ANSWERED]

QID : 84 - Which singer was in January 2018, chosen for the 5th Edition of Yash Chopra Memorial Award 2018 for her outstanding contribution to the Hindi film industry?

किस गायिका को हिंदी फिल्म उद्योग में उत्कृष्ट योगदान के लिए जनवरी 2018 में यश चोपड़ा स्मृति पुरस्कार-2018 के लिए चयनित किया गया है?

Options:

1) Alka Yagnik

अलका याज्ञनिक

2) Asha Bhosle

आशा भोसले

3) Sunidhi Chauhan

सुनिधि चौहान

4) kavita Krishnamurthy

कविता कृष्णमूर्ति

Correct Answer: Asha Bhosle

आशा भोसले

Candidate Answer: [NOT ANSWERED]

QID : 85 - Where is the tomb of Mughal Emperor Jahangir in Pakistan?

पाकिस्तान में मुगल सम्राट जहांगीर का मकबरा कहाँ है?

Options:

1) Islamabad

इस्लामाबाद

2) Hyderabad

हैदराबाद

3) Lahore

लाहौर

4) Karachi

कराची

Correct Answer: Lahore

लाहौर

Candidate Answer: [NOT ANSWERED]

QID : 86 - What is the number of groups and periods in the modern periodic table?

आधुनिक आवर्त सारणी में समूहों तथा आवर्तों की संख्या कितनी है?

Options:

1) 18, 7

2) 18, 8

3) 16, 7

4) 16, 8

Correct Answer: 18, 7

Candidate Answer: 18, 7

QID : 87 - Which among the following is an example of mixture?

निम्नलिखित में से कौन सा मिश्रण का एक उदाहरण है?

Options:

- 1) Milk
दूध
- 2) Gasoline
गैसोलिन
- 3) Liquefied petroleum gas
द्रवित पेट्रोलियम गैस
- 4) All options are correct.
सभी विकल्प सही हैं।

Correct Answer: All options are correct.
सभी विकल्प सही हैं।

Candidate Answer: All options are correct.
सभी विकल्प सही हैं।

QID : 88 - Which Schedule of Indian Constitution was added by the 74th Constitutional Amendment Act?

74 वें संविधान संशोधन अधिनियम के द्वारा भारतीय संविधान में कौन सी अनुसूची शामिल की गई थी?

Options:

- 1) Ninth Schedule
नौवीं अनुसूची
- 2) Tenth Schedule
दसवीं अनुसूची
- 3) Eleventh Schedule
ग्यारहवीं अनुसूची
- 4) Twelfth Schedule
बारहवीं अनुसूची

Correct Answer: Twelfth Schedule
बारहवीं अनुसूची

Candidate Answer: [NOT ANSWERED]

QID : 89 - Which among the following comes under the elements of Basic Structure of Indian Constitution?

- I. Supremacy of Constitution
- II. Free and Fair Election
- III. Judicial Review

निम्नलिखित में से कौन से भारतीय संविधान के मूल संरचना के तत्वों के अंतर्गत आते हैं?

- I. संविधान की सर्वोच्चता
- II. निःशुल्क तथा निष्पक्ष चुनाव
- III. न्यायिक समीक्षा

Options:

- 1) Only I
केवल I
- 2) Only II
केवल II
- 3) Both I and II
I तथा II दोनों
- 4) All I, II and III
I, II तथा III सभी

Correct Answer: All I, II and III
I, II तथा III सभी

Candidate Answer: All I, II and III
I, II तथा III सभी

QID : 90 - The plasma of the blood contains which among the following constituents?

- I. Proteins
- II. Salts
- III. Hormones

रक्त के प्लाज्मा में निम्नलिखित में से कौन से घटक होते हैं?

- I. प्रोटीन
- II. नमक
- III. हॉर्मोन

Options:

- 1) Only I and II
केवल I तथा II
- 2) Only I and III
केवल I तथा III
- 3) Only II and III
केवल II तथा III
- 4) All I, II and III
I, II तथा III सभी

Correct Answer: All I, II and III

I, II तथा III सभी

Candidate Answer: All I, II and III

I, II तथा III सभी

QID : 91 - What is the basis of first level of classification among plants?

पौधों में प्रथम स्तर के वर्गीकरण का आधार क्या है?

Options:

1) Differentiated plant body

पौधों का विभेदित शरीर

2) Specialised tissues

विशिष्ट ऊतक

3) Ability to bear seeds

बीजधारण की क्षमता

4) No option is correct.

कोई विकल्प सही नहीं है।

Correct Answer: Differentiated plant body

पौधों का विभेदित शरीर

Candidate Answer: Specialised tissues

विशिष्ट ऊतक

QID : 92 - On 5 September 2017, who launched an online quiz competition named 'Prakriti Khoj'?

5 सितम्बर 2017 को, 'प्रकृति खोज' नामक एक ऑनलाइन प्रश्नोत्तरी प्रतियोगिता का लोकार्पण किसने किया?

Options:

1) Health Ministry

स्वास्थ्य मंत्रालय

2) Commerce Ministry

वाणिज्य मंत्रालय

3) Environment Ministry

पर्यावरण मंत्रालय

4) Home Ministry

गृह मंत्रालय

Correct Answer: Environment Ministry

पर्यावरण मंत्रालय

Candidate Answer: Environment Ministry

पर्यावरण मंत्रालय

QID : 93 - Researchers at the University of Illinois have discovered new form of matter called Excitonium which was coined by _____ in the 1960's.

यूनिवर्सिटी ऑफ़ इलिनॉय के शोधकर्ताओं ने एक्साइटोनियम कहलाने वाले पदार्थ के नए प्रकार की खोज की हैं जो _____ द्वारा 1960 के दशक में रखा गया था।

Options:

1) Bertrand Halperin

बर्ट्रैंड हैलप्परिन

2) Eugene Wigner

यूजीन वीगनेर

3) Paul Dirac

पॉल डिराक

4) Felix Bloch

फेलिक्स ब्लॉच

Correct Answer: Bertrand Halperin

बर्ट्रैंड हैलप्परिन

Candidate Answer: [NOT ANSWERED]

QID : 94 - On 24 October 2017, the Government of India announced a massive of _____ package to boost economy.

24 अक्टूबर 2017 को, भारतीय सरकार ने अर्थव्यवस्था को बढ़ावा देने के लिए एक विशाल _____ के पैकेज की घोषणा की।

Options:

1) Rs 7 lakh crore

7 लाख करोड़ रु

2) Rs 9 lakh crore

9 लाख करोड़ रु

3) Rs 15 lakh crore

15 लाख करोड़ रु

4) Rs 5 lakh crore

5 लाख करोड़ रु

Correct Answer: Rs 9 lakh crore

9 लाख करोड़ रु

Candidate Answer: [NOT ANSWERED]

QID : 95 - On 22 November 2017, cabinet approved expansion of which mission for a Pan India coverage in all the 640 districts of the country?

22 नवम्बर 2017 को, कैबिनेट ने देश के सभी 640 जिलों में एक पैन इंडिया कवरेज के लिए किस मिशन का विस्तार करने की मंजूरी दी?

Options:

- 1) Make in India
मेक इन इंडिया
- 2) Swatchh Bharat
स्वच्छ भारत
- 3) Beti Bachao Beti padhao
बेटी बचाओ बेटी पढ़ाओ
- 4) Skill India
कौशल भारत

Correct Answer: Beti Bachao Beti padhao
बेटी बचाओ बेटी पढ़ाओ

Candidate Answer: [NOT ANSWERED]

QID : 96 - A body is initially moving with a velocity of 5 m/s. It undergoes an acceleration of 2 m/s^2 for 4 seconds. Find the displacement (in m) of this body in these 4 seconds.

किसी वस्तु का प्रारंभिक वेग 5 मीटर/सेकंड है। यह 4 सेकंड में 2 मीटर/सेकंड^2 से त्वरित होती है। 4 सेकंड में वस्तु में कितना विस्थापन (मीटर में) होगा?

Options:

- 1) 4
- 2) 72
- 3) 36
- 4) 8

Correct Answer: 36

Candidate Answer: 36

QID : 97 - If the velocity of a body is halved its kinetic energy _____.

यदि किसी वस्तु का वेग आधा कर दिया जाए तो उसकी गतिज ऊर्जा ____ हो जाती है।

Options:

- 1) become 4 times
4 गुना हो जाती है
- 2) becomes $1/4^{\text{th}}$
 $1/4$ हो जाती है
- 3) is also doubled
दुगुनी हो जाती है
- 4) becomes half
आधी हो जाती है

Correct Answer: becomes $1/4^{\text{th}}$
 $1/4$ हो जाती है

Candidate Answer: becomes $1/4^{\text{th}}$
 $1/4$ हो जाती है

QID : 98 - Plants utilise _____ from the atmosphere for photosynthesis.

पौधे प्रकाश संश्लेषण के लिए वायुमंडल से ____ का उपयोग करते हैं।

Options:

- 1) oxygen
ऑक्सीजन
- 2) nitrogen
नाइट्रोजन
- 3) carbon dioxide
कार्बनडाईऑक्साइड
- 4) hydrogen
हाइड्रोजन

Correct Answer: carbon dioxide
कार्बनडाईऑक्साइड

Candidate Answer: carbon dioxide
कार्बनडाईऑक्साइड

QID : 99 - Which of the statements given below are correct?

- A) Russia hosted the Golf 2017 Players Championship.
- B) Elina Svitolina won the Tennis 2017 Italian Open Women's Singles.
- C) Henri Kontinen and John Peers won the Tennis 2017 ATP World Tour Finals Men's Doubles.

निम्नलिखित में से कौन सा कथन सत्य है?

- A) रूस ने गोल्फ 2017 प्लेयर्स चैम्पियनशिप की मेजबानी की।
- B) एलीना स्विटोलिना ने टेनिस 2017 इटालियन ओपन वूमैस सिंगल्स जीता।
- C) हैनरी कॉटिनेन और जॉन पीयर्स ने टेनिस 2017 एटीपी वर्ल्ड टूर फाइनल्स मेन्स डबल्स जीता।

Options:

- 1) Only A
केवल A
- 2) Only B
केवल B
- 3) Both A and B
A और B दोनों
- 4) Both A and C
A और C दोनों

Correct Answer: Both A and C
A और C दोनों

Candidate Answer: [NOT ANSWERED]

QID : 100 - In Microsoft Excel, left arrow key stroke leads to _____ cell movement on spreadsheet.

माइक्रोसॉफ्ट एक्सेल में, बाईं ओर के तीर के निशान वाली कुंजी को दबाकर स्प्रेडशीट में ____ जाया जा सकता है।

Options:

- 1) One cell up
एक सेल ऊपर
- 2) One cell down
एक सेल नीचे
- 3) One cell Left
एक सेल बाएं
- 4) One cell right
एक सेल दायें

Correct Answer: One cell Left
एक सेल बाएं

Candidate Answer: One cell Left
एक सेल बाएं