



**Staff Selection Commission**  
(Government Of India)

**REGISTRATION NUMBER : KVCLASSES**

**EXAM DATE : 27-March-2018**

**EXAM NAME : SSC Examination**

**TOTAL MARKS : 200**

**CANDIDATE NAME : KVCLASSES**

**EXAM START TIME : 10:00:00**

**EXAM DURATION : 01:00 Hrs**

**TOTAL NO OF QUESTIONS : 100**

**QID : 1** - In the following question, some part of the sentence may have errors. Find out which part of the sentence has an error and select the appropriate option. If a sentence is free from error, select 'No Error'.

We are what our thoughts (1)/ have made us; (2)/ so took care about what you think. (3)/ No error (4)

**Options:**

- 1) 1
- 2) 2
- 3) 3
- 4) 4

**Correct Answer:** 3

**Candidate Answer:** [ NOT ANSWERED ]

**QID : 2** - In the following question, some part of the sentence may have errors. Find out which part of the sentence has an error and select the appropriate option. If a sentence is free from error, select 'No Error'.

One hesitate to offer an interpretation of (1)/ such an oracular pronouncement as (2)/ the reader may have his own understanding of it. (3)/ No error (4)

**Options:**

- 1) 1
- 2) 2
- 3) 3
- 4) 4

**Correct Answer:** 1

**Candidate Answer:** 1

**QID : 3** - In the following question, the sentence given with blank to be filled in with an appropriate word. Select the correct alternative out of the four and indicate it by selecting the appropriate option.

He is \_\_\_\_\_ to Meera for his actions.

**Options:**

- 1) accountable
- 2) careful
- 3) faithful
- 4) liable

**Correct Answer:** accountable

**Candidate Answer:** faithful

**QID : 4** - In the following question, the sentence given with blank to be filled in with an appropriate word. Select the correct alternative out of the four and indicate it by selecting the appropriate option.

With her \_\_\_\_\_ the gate, you cannot ignore the issue any further.

**Options:**

- 1) at
- 2) nearby
- 3) into
- 4) towards

**Correct Answer:** at

**Candidate Answer:** at

**QID : 5** - In the following question, out of the given four alternatives, select the one which best expresses the meaning of the given word.

**Penchant**

**Options:**

- 1) Indifference
- 2) Revulsion
- 3) Disgust
- 4) Fondness

**Correct Answer:** Fondness

**Candidate Answer:** Revulsion

**QID : 6** - In the following question, out of the given four alternatives, select the one which best expresses the meaning of the given word.

**Hearsay**

**Options:**

- 1) Realise
- 2) Testimony
- 3) Buzz
- 4) Declare

**Correct Answer:** Buzz

**Candidate Answer:** Realise

**QID : 7** - In the following question, out of the given four alternatives, select the one which is opposite in meaning of the given word.

**Orthodox**

**Options:**

- 1) Routine
- 2) Unconventional
- 3) Formal
- 4) Correct

**Correct Answer:** Unconventional

**Candidate Answer:** Unconventional

**QID : 8** - In the following question, out of the given four alternatives, select the one which is opposite in meaning of the given word.

**Bigot**

**Options:**

- 1) Intolerant
- 2) Extremist
- 3) Racist
- 4) Liberal

**Correct Answer:** Liberal

**Candidate Answer:** [ NOT ANSWERED ]

**QID : 9** - Rearrange the parts of the sentence in correct order.

**Echolocating bats**

**P** : emit sounds in patterns that

**Q** : and constant-frequency (CF) signals

**R** : contain both frequency modulated (FM)

**Options:**

- 1) RPQ
- 2) PRQ
- 3) RQP
- 4) QRP

**Correct Answer:** PRQ

**Candidate Answer:** PRQ

**QID : 10** - A sentence has been given in Active/Passive Voice. Out of the four given alternatives, select the one which best expresses the same sentence in Passive/Active Voice.

**She dislikes my hobby.**

**Options:**

- 1) My hobby is disliked by her.
- 2) My hobby was disliked by her.
- 3) Disliked by her was my hobby.
- 4) My hobby will be disliked by her.

**Correct Answer:** My hobby is disliked by her.

**Candidate Answer:** My hobby will be disliked by her.

**QID : 11** - A sentence has been given in Direct/Indirect Speech. Out of the four given alternatives, select the one which best expresses the same sentence in Indirect/Direct Speech.

**She said to me, "I like your smartphone ."**

**Options:**

- 1) She told me that she liked my smartphone.
- 2) She liked my smartphone.
- 3) She said that she like my smartphone.
- 4) My smartphone was liked by her.

**Correct Answer:** She told me that she liked my smartphone.

**Candidate Answer:** She told me that she liked my smartphone.

**QID : 12** - In the following question, a word has been written in four different ways out of which only one is correctly spelt. Select the correctly spelt word.

**Options:**

- 1) Gorrilla
- 2) Guerrilla
- 3) Geurial
- 4) Guirilaa

**Correct Answer:** Guerrilla

**Candidate Answer:** Guirilaa

**QID : 13 - In the following passage, some of the words have been left out. Read the passage carefully and select the correct answer for the given blank out of the four alternatives.**

Many persons of good education unconsciously circumscribe themselves \_\_\_\_\_ a small vocabulary. They have a knowledge of hundreds of desirable words which they do not put \_\_\_\_\_ practical use in their speech or writing. Many, too, are conscious \_\_\_\_\_ a poverty of language, which engenders in them a sense of timidity and self-\_\_\_\_\_. The method used for building a large vocabulary has \_\_\_\_\_ been confined to the study of single words.

**circumscribe themselves \_\_\_\_\_ a small vocabulary.**

**Options:**

- 1) without
- 2) within
- 3) withheld
- 4) withdrew

**Correct Answer:** within

**Candidate Answer:** without

**QID : 14 - In the following passage, some of the words have been left out. Read the passage carefully and select the correct answer for the given blank out of the four alternatives.**

Many persons of good education unconsciously circumscribe themselves \_\_\_\_\_ a small vocabulary. They have a knowledge of hundreds of desirable words which they do not put \_\_\_\_\_ practical use in their speech or writing. Many, too, are conscious \_\_\_\_\_ a poverty of language, which engenders in them a sense of timidity and self-\_\_\_\_\_. The method used for building a large vocabulary has \_\_\_\_\_ been confined to the study of single words.

**do not put \_\_\_\_\_ practical use in their**

**Options:**

- 1) inside
- 2) inner
- 3) onto
- 4) into

**Correct Answer:** into

**Candidate Answer:** inside

**QID : 15 - In the following passage, some of the words have been left out. Read the passage carefully and select the correct answer for the given blank out of the four alternatives.**

Many persons of good education unconsciously circumscribe themselves \_\_\_\_\_ a small vocabulary. They have a knowledge of hundreds of desirable words which they do not put \_\_\_\_\_ practical use in their speech or writing. Many, too, are conscious \_\_\_\_\_ a poverty of language, which engenders in them a sense of timidity and self-\_\_\_\_\_. The method used for building a large vocabulary has \_\_\_\_\_ been confined to the study of single words.

**too, are conscious \_\_\_\_\_ a poverty of language,**

**Options:**

- 1) for
- 2) as
- 3) of
- 4) form

**Correct Answer:** of

**Candidate Answer:** for

**QID : 16 - In the following passage, some of the words have been left out. Read the passage carefully and select the correct answer for the given blank out of the four alternatives.**

Many persons of good education unconsciously circumscribe themselves \_\_\_\_\_ a small vocabulary. They have a knowledge of hundreds of desirable words which they do not put \_\_\_\_\_ practical use in their speech or writing. Many, too, are conscious \_\_\_\_\_ a poverty of language, which engenders in them a sense of timidity and self-\_\_\_\_\_. The method used for building a large vocabulary has \_\_\_\_\_ been confined to the study of single words.

**timidity and self-\_\_\_\_\_. The method used**

**Options:**

- 1) depreciate
- 2) depreciated
- 3) depreciates
- 4) depreciation

**Correct Answer:** depreciation

**Candidate Answer:** depreciation

**QID : 17 - In the following passage, some of the words have been left out. Read the passage carefully and select the correct answer for the given blank out of the four alternatives.**

Many persons of good education unconsciously circumscribe themselves \_\_\_\_\_ a small vocabulary. They have a knowledge of hundreds of desirable words which they do not put \_\_\_\_\_ practical use in their speech or writing. Many, too, are conscious \_\_\_\_\_ a poverty of language, which engenders in them a sense of timidity and self-\_\_\_\_\_. The method used for building a large vocabulary has \_\_\_\_\_ been confined to the study of single words.

**large vocabulary has \_\_\_\_\_ been confined**

**Options:**

- 1) usual
- 2) usuals
- 3) usually
- 4) usualness

**Correct Answer:** usually

**Candidate Answer:** usual

**QID : 18 - In the following question, out of the four alternatives, select the alternative which best expresses the meaning of the idiom/phrase.**

**Tongue in cheek**

**Options:**

- 1) In an ironic or insincere way.
- 2) Being practical.
- 3) Stop yourself from saying something hurtful.
- 4) Be gutsy and speak the unpleasant truth.

**Correct Answer:** In an ironic or insincere way.

**Candidate Answer:** In an ironic or insincere way.

**QID : 19 - In the following question, out of the four alternatives, select the alternative which best expresses the meaning of the idiom/phrase.**

**Pedal to the metal**

**Options:**

- 1) Build something big by yourself.
- 2) Add more protection to an already strong shield.
- 3) To drive very fast.
- 4) Push a person to perform to its extreme.

**Correct Answer:** To drive very fast.

**Candidate Answer:** Push a person to perform to its extreme.

**QID : 20 - In the following question, out of the four alternatives, select the alternative which is the best substitute of the words/sentence.**

**Writing or drawings scribbled, scratched, or sprayed illicitly on a wall or other surface in a public place**

**Options:**

- 1) Splotch
- 2) Smudge
- 3) Graffiti
- 4) Streak

**Correct Answer:** Graffiti

**Candidate Answer:** Graffiti

**QID : 21 - In the following question, out of the four alternatives, select the alternative which is the best substitute of the words/sentence.**

**A person or thing that brings bad luck**

**Options:**

- 1) Felicitous
- 2) Adventitious
- 3) Jinx
- 4) Providential

**Correct Answer:** Jinx

**Candidate Answer:** Adventitious

**QID : 22 - In the following question, out of the four alternatives, select the alternative which will improve the bracketed part of the sentence. In case no improvement is needed, select "no improvement".**

He had had a short illness, there (**had been**) a brief time of acute suffering, then all was over.

**Options:**

- 1) have been
- 2) have being
- 3) had being
- 4) no improvement

**Correct Answer:** no improvement

**Candidate Answer:** have being

**QID : 23 - In the following question, out of the four alternatives, select the alternative which will improve the bracketed part of the sentence. In case no improvement is needed, select "no improvement".**

I cook almost every day, but even the thought of producing that quantum of food (**daunt**) for me.

**Options:**

- 1) is daunting
- 2) was daunted
- 3) has daunting
- 4) no improvement

**Correct Answer:** is daunting

**Candidate Answer:** has daunting

**QID : 24** - The question below consists of a set of labelled sentences. Out of the four options given, select the most logical order of the sentences to form a coherent paragraph.

**It was winter, and on**

**A-**cup of coffee was what

**B-**that cold day a hot

**C-**I needed desperately

**Options:**

- 1) ACB
- 2) ABC
- 3) CBA
- 4) BAC

**Correct Answer:** BAC

**Candidate Answer:** CBA

**QID : 25** - In the following question, four words are given out of which one word is correctly spelt. Select the correctly spelt word.

**Options:**

- 1) indisposition
- 2) indesposition
- 3) indispossession
- 4) indespossession

**Correct Answer:** indisposition

**Candidate Answer:** indispossession

**QID : 26** - In the following question, select the related word pair from the given alternatives.

**Tuesday : Wednesday :: ? : ?**

निम्नलिखित प्रश्न में दिए गए विकल्पों में से संबंधित शब्द युग्म को चुनिए।

**मंगलवार : बुधवार :: ? : ?**

**Options:**

- 1) Sunday : Monday  
रविवार : सोमवार
- 2) Thursday : Saturday  
बुधवार : शनिवार
- 3) Monday : Saturday  
सोमवार : शनिवार
- 4) Friday : Sunday  
शुक्रवार : रविवार

**Correct Answer:** Sunday : Monday

रविवार : सोमवार

**Candidate Answer:** Sunday : Monday

रविवार : सोमवार

**QID : 27** - In the following question, select the related number from the given alternatives.

**596 : 965 :: 453 : ?**

निम्नलिखित प्रश्न में दिए गए विकल्पों में से संबंधित संख्या को चुनिए।

**596 : 965 :: 453 : ?**

**Options:**

- 1) 362
- 2) 378
- 3) 534
- 4) 452

**Correct Answer:** 534

**Candidate Answer:** [ NOT ANSWERED ]

**QID : 28** - In the following question, select the related letter pair from the given alternatives.

**ZEM : XCK :: ? : ?**

निम्नलिखित प्रश्न में दिए गए विकल्पों में से संबंधित अक्षर युग्म को चुनिए।

**ZEM : XCK :: ? : ?**

**Options:**

- 1) SRV : RPT
- 2) RUX : PSV
- 3) KNT : JLR
- 4) NRT : LPS

**Correct Answer:** RUX : PSV

**Candidate Answer:** RUX : PSV

**QID : 29** - In the following question, select the odd word pair from the given alternatives.

निम्नलिखित प्रश्न में दिए गए विकल्पों में से विषम शब्द युग्म को चुनिए।

**Options:**

- 1) Mother – Sister  
माता – बहन
- 2) Father – Son  
पिता – पुत्र
- 3) Son – Daughter  
पुत्र – पुत्री
- 4) Friend – Sister  
मित्र – बहन

**Correct Answer:** Friend – Sister

मित्र – बहन

**Candidate Answer:** Friend – Sister

मित्र – बहन

**QID : 30** - In the following question, four number pairs are given. The number on left side of (-) is related to the number on the right side of (-) with some Logic/Rule/Relation. Three are similar on basis of same Logic/Rule/Relation. Select the odd one out from the given alternatives.

नीचे दिए गए प्रश्न में, चार संख्या युग्म दिए गए हैं। (-) के बायीं ओर दी संख्या (-) के दायीं ओर दी गई संख्या से तर्क/नियम से सम्बंधित है। तीन उसी एक तर्क/नियम के आधार पर समान हैं। दिए गए विकल्पों में से भिन्न को चुनिए।

**Options:**

- 1) 2 – 4
- 2) 4 – 16
- 3) 6 – 36
- 4) 8 – 66

**Correct Answer:** 8 – 66

**Candidate Answer:** 8 – 66

**QID : 31** - In the following question, select the odd letter/letters from the given alternatives.

निम्नलिखित प्रश्न में दिए गए विकल्पों में से विषम अक्षर/अक्षरों को चुनिए।

**Options:**

- 1) HNS
- 2) MSY
- 3) KQW
- 4) DJP

**Correct Answer:** HNS

**Candidate Answer:** HNS

**QID : 32** - Arrange the given words in the sequence in which they occur in the dictionary.

1. Simulate
2. Simple
3. Similar
4. Silent
5. Signal

निम्नलिखित शब्दों को शब्दकोश में आने वाले क्रम के अनुसार लिखें।

1. Simulate
2. Simple
3. Similar
4. Silent
5. Signal

**Options:**

- 1) 12354
- 2) 54321
- 3) 52143
- 4) 24513

**Correct Answer:** 54321

**Candidate Answer:** 12354

**QID : 33** - In the following question, select the missing number from the given series.

**23, 23, 46, 138, 552, ?**

निम्नलिखित प्रश्न में दिए गए विकल्पों में से लुप्त अंक ज्ञात कीजिए।

**23, 23, 46, 138, 552, ?**

**Options:**

- 1) 2760
- 2) 3040
- 3) 2560
- 4) 2420

**Correct Answer:** 2760

**Candidate Answer:** 2760

**QID : 34** - A series is given with one term missing. Select the correct alternative from the given ones that will complete the series.

**GHXT, JKUQ, MNRN, PQOK, ?**

एक अनुक्रम दिया गया है, जिसमें से एक पद लुप्त है। दिए गए विकल्पों में से वह सही विकल्प चुनिए, जो अनुक्रम को पूरा करे।

**GHXT, JKUQ, MNRN, PQOK, ?**

**Options:**

- 1) RTHL
- 2) SAPL
- 3) VTHF
- 4) STLH

**Correct Answer:** STLH

**Candidate Answer:** STLH

**QID : 35** - Rakesh's present age is 36 years. If 12 years ago, Deepak's age was one-fourth of Rakesh's age, then after 27 years what will be the age (in years) of Deepak?

राकेश की वर्तमान आयु 36 वर्ष है। यदि 12 वर्ष पूर्व, दीपक की आयु राकेश की आयु की एक-चौथाई थी, तो 27 वर्ष पश्चात दीपक की आयु (वर्षों में) क्या होगी?

**Options:**

- 1) 47
- 2) 52
- 3) 45
- 4) 46

**Correct Answer:** 45

**Candidate Answer:** 45

**QID : 36** - From the given alternatives, select the word which **CANNOT** be formed using the letters of the given word.

**Unwarranted**

दिए गए विकल्पों में से वह शब्द चुनिए जो दिए गए शब्द के अक्षरों का प्रयोग करके नहीं बनाया जा सकता है।

**Unwarranted**

**Options:**

- 1) Warn
- 2) Ran
- 3) Want
- 4) Until

**Correct Answer:** Until

**Candidate Answer:** Until

**QID : 37** - In a certain code language, "MAKERS" is written as "KAMSRE" and "SINGER" is written as "NISREG". How is "TRADER" written in that code language?

एक विशिष्ट कोड भाषा में, "MAKERS" को "KAMSRE" लिखा जाता है तथा "SINGER" को "NISREG" लिखा जाता है। इस कोड भाषा में "TRADER" को किस प्रकार लिखा जाएगा?

**Options:**

- 1) RATEDR
- 2) ARTRED
- 3) TSRNGP
- 4) TRARED

**Correct Answer:** ARTRED

**Candidate Answer:** [ NOT ANSWERED ]

**QID : 38** - In a certain code language, '-' represents '+', '+' represents 'x', 'x' represents '÷' and '÷' represents '-'. Find out the answer to the following question.

**3 - 10 + 40 x 80 ÷ 6 = ?**

किसी निश्चित कोड भाषा में '-', '+' को प्रदर्शित करता है, '+' , 'x' को प्रदर्शित करता है, 'x', '÷' को प्रदर्शित करता है और '÷', '-' को प्रदर्शित करता है। निम्नलिखित प्रश्न का उत्तर ज्ञात करें।

**3 - 10 + 40 x 80 ÷ 6 = ?**





**QID : 43** - In the question two statements are given, followed by two conclusions, I and II. You have to consider the statements to be true even if it seems to be at variance from commonly known facts. You have to decide which of the given conclusions, if any, follows from the given statements.

**Statement I:** No pockets are wallets

**Statement II:** All purses are pockets

**Conclusion I:** Some wallets are purses

**Conclusion II:** No purses are wallets

प्रश्न में दो कथन दिये गये हैं जिसके आगे दो निष्कर्ष I और II निकाले गये हैं। आपको मानना है कि दोनों कथन सत्य है चाहे वह सामान्यतः ज्ञात तथ्यों से भिन्न प्रतीत होते हों। आपको निर्णय करना है की दिए गए निष्कर्षों में से कौन-सा/कौन-से निश्चित रूप से कथन द्वारा सही निकाला जा सकता है/सकते हैं, यदि कोई हो।

**कथन I:** कोई भी पॉकेट्स वालेट्स नहीं होते हैं

**कथन II:** सभी पर्सस पॉकेट्स होते हैं

**निष्कर्ष I:** कुछ वालेट्स पर्सस होती हैं

**निष्कर्ष II:** कोई भी पर्सस वालेट्स नहीं होती हैं

**Options:**

1) Only conclusion I follows

केवल निष्कर्ष I सही है

2) Only conclusion II follows

केवल निष्कर्ष II सही है

3) Both conclusions I and II follow

दोनों निष्कर्ष I और II सही है

4) Neither conclusion I nor conclusion II follows

ना तो निष्कर्ष I सही है ना ही निष्कर्ष II

**Correct Answer:** Only conclusion II follows

केवल निष्कर्ष II सही है

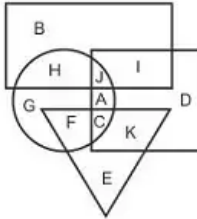
**Candidate Answer:** Only conclusion I follows

केवल निष्कर्ष I सही है

**QID : 44** -

In the following figure, rectangle represents Doctors, circle represents Bikers, triangle represents Trekkers and square represents Football players. Which set of letters represents Doctors who are either Bikers or Football players?

निम्नलिखित आकृति में, आयत डॉक्टरों को प्रदर्शित करता है, वृत्त बाईकर्स को प्रदर्शित करता है, त्रिभुज ट्रेकर्स को प्रदर्शित करता है और वर्ग फुटबॉल खिलाड़ियों को प्रदर्शित करता है। अक्षरों का कौन सा समूह उन डॉक्टरों को प्रदर्शित करता है जो या तो बाईकर्स हैं या फुटबॉल खिलाड़ी हैं?



**Options:**

1) JA

2) JAC

3) HJI

4) JH

**Correct Answer:** HJI

**Candidate Answer:** HJI

**QID : 45** - A series is given with one term missing. Select the correct alternative from the given ones that will complete the series.

PMO, LIK, HEG, DAC, ?

एक अनुक्रम दिया गया है, जिसमें से एक पद लुप्त है। दिए गए विकल्पों में से वह सही विकल्प चुनिए, जो अनुक्रम को पूरा करे।

PMO, LIK, HEG, DAC, ?

**Options:**

- 1) YWX
- 2) ZWY
- 3) YVX
- 4) ZVY

**Correct Answer:** ZWY

**Candidate Answer:** ZWY

**QID : 46** - In the following question, select the missing number from the given series.

57, 54, 48, 39, ?, 12

निम्नलिखित प्रश्न में दिए गए विकल्पों में से लुप्त अंक ज्ञात कीजिए।

57, 54, 48, 39, ?, 12

**Options:**

- 1) 27
- 2) 30
- 3) 25
- 4) 22

**Correct Answer:** 27

**Candidate Answer:** 27

**QID : 47** - In the following question, four groups of three numbers are given. In each group the second and third number are related to the first number by a Logic/Rule/Relation. Three are similar on basis of same Logic/Rule/Relation. Select the odd one out from the given alternatives.

नीचे दिए गए प्रश्न में, तीन संख्याओं के चार समूह दिए गए हैं। प्रत्येक समूह में दूसरी तथा तीसरी संख्या पहली संख्या से किसी एक तर्क/नियम से सम्बंधित है। तीन उसी एक तर्क/नियम के आधार पर समान हैं। दिए गए विकल्पों में से भिन्न को चुनिए।

**Options:**

- 1) (6, 31, 19)
- 2) (9, 46, 29)
- 3) (18, 91, 55)
- 4) (13, 66, 40)

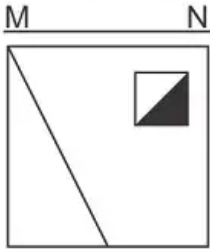
**Correct Answer:** (9, 46, 29)

**Candidate Answer:** (9, 46, 29)

**QID : 48** -

If a mirror is placed on the line MN, then which of the answer figures is the right image of the given figure?

यदि एक दर्पण को MN रेखा पर रखा जाए तो दी गयी उत्तर आकृतियों में से कौन-सी आकृति प्रश्न आकृति का सही प्रतिबिम्ब होगी?



Options:

1)



2)



3)



4)



Correct Answer:



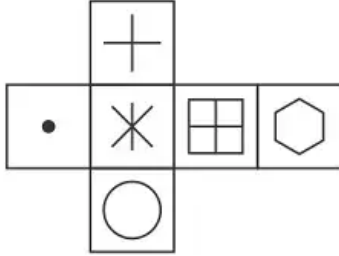
Candidate Answer:



QID : 49 -

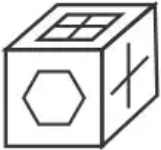
Which of the following cube in the answer figure cannot be made based on the unfolded cube in the question figure?

निम्नलिखित उत्तर आकृति में से कौन सा घन दिए गए प्रश्न आकृति में से खुले घन से बनाया नहीं जा सकता?



Options:

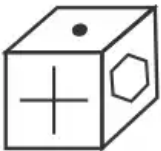
1)



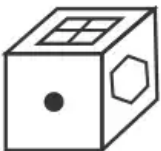
2)



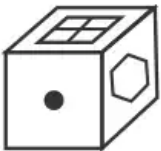
3)



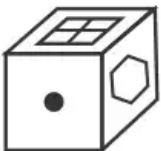
4)



Correct Answer:



Candidate Answer:



**QID : 50 -**

A word is represented by only one set of numbers as given in any one of the alternatives. The sets of numbers given in the alternatives are represented by two classes of alphabets as shown in the given two matrices. The columns and rows of Matrix-I are numbered from 0 to 4 and that of Matrix-II are numbered from 5 to 9. A letter from these matrices can be represented first by its row and next by its column, for example 'B' can be represented by 42, 34 etc and 'Z' can be represented by 57, 96 etc. Similarly, you have to identify the set for the word 'FAZE'.

एक शब्द केवल एक संख्या-समूह द्वारा दर्शाया गया है, जैसा कि विकल्पों में से किसी एक में दिया गया है। विकल्पों में दिए गए संख्या-समूह अक्षरों के दो वर्गों द्वारा दर्शाए गए हैं, जैसा कि दिए गए दो आव्यूहों में है। आव्यूह-I के स्तम्भ और पंक्ति की संख्या 0 से 4 और आव्यूह-II की 5 से 9 है। इन आव्यूहों से एक अक्षर को पहले उसकी पंक्ति और बाद में स्तम्भ संख्या द्वारा दर्शाया जा सकता है। उदाहरण के लिए 'B' को 42, 34 आदि द्वारा दर्शाया जा सकता है तथा 'Z' को 57, 96 आदि द्वारा दर्शाया जा सकता है। इसी तरह से आपको प्रश्न में दिए शब्द 'FAZE' के लिए समूह को पहचानना है।

Matrix I आव्यूह - I					
	0	1	2	3	4
0	D	H	K	G	E
1	D	A	C	C	C
2	J	A	H	H	E
3	C	K	D	H	B
4	H	F	B	H	J

Matrix II आव्यूह - II					
	5	6	7	8	9
5	X	U	Z	V	X
6	S	P	O	P	Y
7	X	Q	O	Q	Q
8	R	P	R	N	P
9	W	Z	T	O	O

**Options:**

1) 30,55,32,86

2) 31,87,23,88

3) 33,67,14,85

4) 41,21,96,24

**Correct Answer:** 41,21,96,24**Candidate Answer:** 30,55,32,86**QID : 51 -**

The value of  $\frac{1}{64}$  is equal to the square of \_\_\_\_\_.

$\frac{1}{64}$  का मान \_\_\_\_\_ के वर्ग के बराबर है।

**Options:**

1) 0.125

2) 0.135

3) 0.145

4) 0.225

**Correct Answer:** 0.125**Candidate Answer:** 0.135**QID : 52 -**

Find the unit digit of the expression

$$31^2 + 32^2 + 33^2 + 34^2 + 35^2 + 36^2 + 37^2 + 38^2 + 39^2.$$

व्यंजक का इकाई अंक ज्ञात करें:

$$31^2 + 32^2 + 33^2 + 34^2 + 35^2 + 36^2 + 37^2 + 38^2 + 39^2$$

**Options:**

1) 1

2) 4

3) 5

4) 9

**Correct Answer:** 5**Candidate Answer:** 9

QID : 53 -

If  $\frac{ab-1}{b} = \frac{cb-1}{c} = \frac{ac-1}{a}$ , then find the value of  $\left(\frac{a}{c} + \frac{b}{a} + \frac{c}{b}\right)$ .

यदि  $\frac{ab-1}{b} = \frac{cb-1}{c} = \frac{ac-1}{a}$  है, तो  $\left(\frac{a}{c} + \frac{b}{a} + \frac{c}{b}\right)$  का मान ज्ञात करें।

Options:

- 1) 1
- 2) 2
- 3) 3
- 4) 4

Correct Answer: 3

Candidate Answer: 2

QID : 54 -

Find the value of 'a' for which  $x + \sqrt{3}x + \frac{a^2}{4}$  is a perfect square.

'a' का मान ज्ञात करें जिसके लिए  $x + \sqrt{3}x + \frac{a^2}{4}$  एक आदर्श वर्ग है।

Options:

1)

2)  $\sqrt{3}$

3)  $2\sqrt{3}$

4)

5)  $3\sqrt{3}$

6)

7)  $4\sqrt{3}$

Correct Answer:

$\sqrt{3}$

Candidate Answer:

$\sqrt{3}$

QID : 55 - What is the total number of points in the plane of triangle ABC which is equidistant from the vertices of the triangle?

त्रिभुज ABC के समतल में कुल बिन्दुओं की संख्या कितनी है जो त्रिभुज के कोने से समान दूरी पर है?

Options:

1) 0

2) 1

3) 2

4) 3

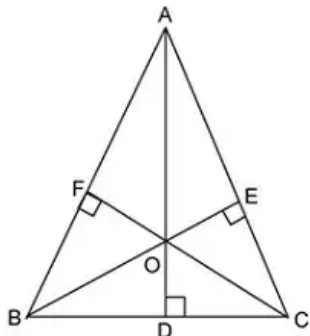
Correct Answer: 1

Candidate Answer: 3

QID : 56 -

In triangle ABC, O is the orthocenter and angle BOC is  $120^\circ$ . Calculate angle BAC.

एक त्रिभुज ABC में O एक लम्बकेन्द्र है और कोण BOC  $120^\circ$  है। कोण BAC का मान ज्ञात करें।



**Options:**

- 1)  $30^\circ$
- 2)  $40^\circ$
- 3)  $60^\circ$
- 4)  $80^\circ$

**Correct Answer:**  $60^\circ$

**Candidate Answer:**  $60^\circ$

**QID : 57** - If 30% of 40% of X is 240, then what is the value of X?

यदि X के 40% का 30%, 240 है, तो X का मान क्या है?

**Options:**

- 1) 441
- 2) 2000
- 3) 1200
- 4) 1800

**Correct Answer:** 2000

**Candidate Answer:** 1200

**QID : 58** - If  $A : B = 2 : 3$  and  $B : C = 4 : 5$ , then what is  $(A + C) : B$ ?

यदि  $A : B = 2 : 3$  तथा  $B : C = 4 : 5$  है, तो  $(A + C) : B$  क्या है?

**Options:**

- 1) 8 : 5
- 2) 7 : 3
- 3) 23 : 12
- 4) 25 : 14

**Correct Answer:** 23 : 12

**Candidate Answer:** 25 : 14

**QID : 59** - X and Y started a business investing Rs 12000 and Rs 9000 respectively. After 4 months, X left the business and Z joined the business by investing Rs 18000. At the end of the year, there was a profit of Rs 12500. What is the share (in Rs) of Z in the profit?

X तथा Y ने क्रमशः 12000 रु तथा 9000 रु निवेश करके एक व्यापार शुरू किया। 4 महीने पश्चात, X व्यापार छोड़कर चला गया तथा Z, 18000 रु निवेश करके व्यापार से जुड़ गया। वर्ष के अंत में 12500 रु का लाभ हुआ। लाभ में Z का हिस्सा (रु में) कितना है?

**Options:**

- 1) 6000
- 2) 4500
- 3) 7200
- 4) 7500

**Correct Answer:** 6000

**Candidate Answer:** [ NOT ANSWERED ]

**QID : 60** - There are two numbers such that the first number is half of the second number. If their average is 57, then what is the first number?

दो संख्याएँ इस प्रकार हैं कि पहली संख्या, दूसरी संख्या की आधी है। यदि उनका औसत 57 है, तो पहली संख्या क्या है?

**Options:**

- 1) 19
- 2) 38
- 3) 21
- 4) 29

**Correct Answer:** 38

**Candidate Answer:** 38

**QID : 61** - The difference between the compound interest (compounding annually) and simple interest on a sum at the rate of 12% per annum for 2 years is Rs 360. What is the sum (in Rs)?

एक राशि पर 12% की वार्षिक दर से 2 वर्षों के चक्रवृद्धि ब्याज (वार्षिक संयोजन से) तथा साधारण ब्याज का अंतर 360 रु है। राशि (रु में) क्या है?

**Options:**

- 1) 27000
- 2) 32000
- 3) 30000
- 4) 25000

**Correct Answer:** 25000

**Candidate Answer:** [ NOT ANSWERED ]

**QID : 62** - A man sells two articles. The cost price of the first article is equal to the selling price of the second article. The first article is sold at a profit of 20% and the second articles is sold at a loss of 20%. What is the ratio of the selling price of the first article and the cost price of the second article?

एक व्यक्ति दो वस्तुएँ बेचता है। पहली वस्तु का क्रय मूल्य, दूसरी वस्तु के विक्रय मूल्य के बराबर है। पहली वस्तु को 20% के लाभ पर बेचा जाता है तथा दूसरी वस्तु को 20% की हानि पर बेचा जाता है। पहली वस्तु के विक्रय मूल्य तथा दूसरी वस्तु के क्रय मूल्य से क्या अनुपात है?

**Options:**

1) 24 : 25

2) 25 : 24

3) 29 : 27

4) 27 : 29

**Correct Answer:** 24 : 25

**Candidate Answer:** 27 : 29

**QID : 63** - The marked price of a shirt is twice of the cost price. To earn a gain of 25%, what should be the discount percentage?

एक कमीज़ का अंकित मूल्य क्रय मूल्य का दोगुना है। 25% का लाभ प्राप्त करने के लिए, छूट प्रतिशत क्या होना चाहिए?

**Options:**

1) 37.5

2) 50

3) 75

4) 52.5

**Correct Answer:** 37.5

**Candidate Answer:** 75

**QID : 64** -

Which of the following statement(s) is/are **TRUE**?

I.  $\sqrt{64} + \sqrt{.64} + \sqrt{0.0064} = 8.88$

II.  $\sqrt{81} + \sqrt{.81} + \sqrt{0.0081} = 9.09$

निम्नलिखित में से कौन सा/से कथन सत्य है/हैं?

I.  $\sqrt{64} + \sqrt{.64} + \sqrt{0.0064} = 8.88$

II.  $\sqrt{81} + \sqrt{.81} + \sqrt{0.0081} = 9.09$

**Options:**

1) Only I

केवल I

2) Only II

केवल II

3) Neither I nor II

न तो I न ही II

4) Both I and II

I तथा II दोनों

**Correct Answer:** Only I

केवल I

**Candidate Answer:** Only I

केवल I

**QID : 65** - Sumit is 28% less efficient than Amit. If Amit can make a wall in 54 days, then Sumit can complete the same work in how many days?

सुमित, अमित से 28% कम कार्यकुशल है। यदि अमित एक दीवार को 54 दिन में बना सकता है, तो सुमित उसी कार्य को कितने दिनों में पूरा कर सकता है?

**Options:**

1) 75

2) 70

3) 72

4) 76

**Correct Answer:** 75

**Candidate Answer:** 75

**QID : 66** - A train left 1 hour later than the scheduled time but in order to reach its destination 200 km away in time, it had to increase its usual speed by 10 km/hr. What is the usual speed (in km/hr) of the train?

एक रेलगाड़ी अपने निर्धारित समय से 1 घंटे की देरी से निकलती है लेकिन 200 कि.मी. दूर अपने गंतव्य स्थान पर समय से पहुँचने के लिए उसे अपनी सामान्य गति में 10 कि.मी./घंटा की वृद्धि करनी पड़ेगी। रेलगाड़ी की सामान्य गति (कि.मी./घंटा में) क्या है?



Options:

- 1) 38
- 2) 42
- 3) 45
- 4) 40

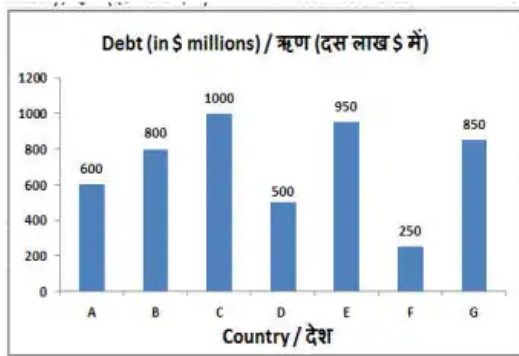
Correct Answer: 40

Candidate Answer: 40

QID : 67 -

The bar graph shows the debt of different countries. Study the diagram and answer the following questions.

यह बार ग्राफ विभिन्न देशों के ऋण को दर्शाता है। इस आरेख का अध्ययन करें और निम्नलिखित प्रश्नों के उत्तर दें।



Which country has the second lowest debt?

किस देश का ऋण दूसरा सबसे कम है?

Options:

- 1) D
- 2) A
- 3) B
- 4) E

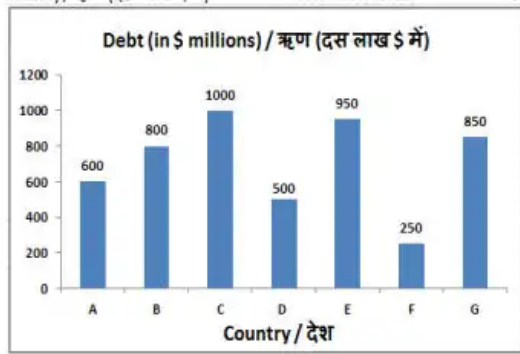
Correct Answer: D

Candidate Answer: E

QID : 68 -

The bar graph shows the debt of different countries. Study the diagram and answer the following questions.

यह बार ग्राफ विभिन्न देशों के ऋण को दर्शाता है। इस आरेख का अध्ययन करें और निम्नलिखित प्रश्नों के उत्तर दें।



What is the ratio of debt of country A to that of country F?

देश A और देश F के ऋण का अनुपात क्या है?

**Options:**

1) 12 : 5

2) 5 : 12

3) 6 : 5

4) 5 : 6

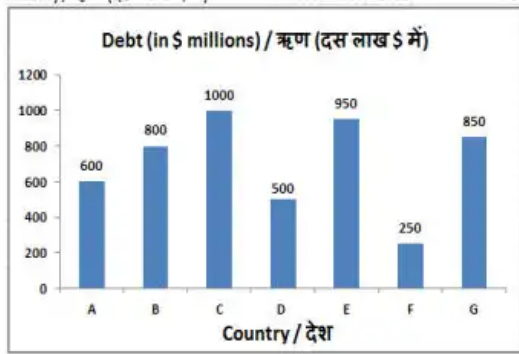
**Correct Answer:** 12 : 5

**Candidate Answer:** 12 : 5

QID : 69 -

The bar graph shows the debt of different countries. Study the diagram and answer the following questions.

यह बार ग्राफ विभिन्न देशों के ऋण को दर्शाता है। इस आरेख का अध्ययन करें और निम्नलिखित प्रश्नों के उत्तर दें।



Debt of country A is lesser than that of country B by \_\_\_\_\_.

देश A का ऋण देश B की तुलना में \_\_\_\_\_ से कम है।

**Options:**

- 1) 20%
- 2) 25%
- 3) 33.33%
- 4) 30%

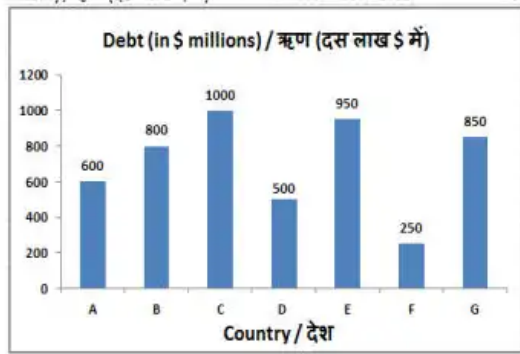
**Correct Answer:** 25%

**Candidate Answer:** 30%

QID : 70 -

The bar graph shows the debt of different countries. Study the diagram and answer the following questions.

यह बार ग्राफ विभिन्न देशों के ऋण को दर्शाता है। इस आरेख का अध्ययन करें और निम्नलिखित प्रश्नों के उत्तर दें।



If country F is paying 3% as interest on its debt per year, then how much interest (in \$) does it pay per year?

अगर देश F प्रति वर्ष अपने ऋण पर ब्याज के रूप में 3% का भुगतान कर रहा है, तो प्रति वर्ष यह कितना ब्याज देता है (डॉलर में)?

**Options:**

- 1) 750000
- 2) 7500000
- 3) 1200000
- 4) 120000

**Correct Answer:** 7500000

**Candidate Answer:** 120000

QID : 71 - The length of the diagonal of a square is 12 cm. Find its area (in  $\text{cm}^2$ ).

एक वर्गाकार के विकर्ण की लम्बाई 12 सेंटीमीटर है। इसका क्षेत्रफल (वर्ग सेंटीमीटर में) ज्ञात करें।

**Options:**

- 1) 36
- 2) 72
- 3) 144
- 4) 48

**Correct Answer:** 72

**Candidate Answer:** 144

QID : 72 - If the measure of the exterior angle of a regular polygon is  $72^\circ$  then how many sides does it have?

यदि एक नियमित बहुभुज के बाहरी कोण का माप  $72^\circ$  डिग्री है, तो उसमें कितनी भुजाएं हैं?

**Options:**

- 1) 6
- 2) 8
- 3) 9
- 4) 5

**Correct Answer:** 5

**Candidate Answer:** 8

QID : 73 - Find the curved surface area (in  $\text{cm}^2$ ) of a right circular cylinder of diameter 7 cm and height 6 cm.

7 सेंटीमीटर व्यास और 6 सेंटीमीटर ऊंचाई वाले एक लम्ब वृत्तीय बेलन के वक्र सतह का क्षेत्रफल (वर्ग सेंटीमीटर में) ज्ञात करें।

**Options:**

- 1) 132
- 2) 110
- 3) 92
- 4) 154

**Correct Answer:** 132

**Candidate Answer:** 110

**QID : 74** -  $\Delta XYZ$  is right angled at Y. If  $m\angle X = 30^\circ$ , then find the value of  $(\sin Z + \sqrt{3})$ .

$\Delta XYZ$  में Y पर समकोण है। यदि  $m\angle X = 30^\circ$ , तो  $(\sin Z + \sqrt{3})$  का मान ज्ञात करें।

**Options:**

- 1)  $4/\sqrt{3}$
- 2)  $5/\sqrt{3}$
- 3)  $4/3$
- 4)  $3\sqrt{3}/2$

**Correct Answer:**  $3\sqrt{3}/2$

**Candidate Answer:**  $3\sqrt{3}/2$

**QID : 75** - In  $\Delta ABC$  measure of angle B is  $90^\circ$ . If  $\cot A = 7/24$ , and  $AB = 1.4$ cm, then what is the length (in cm) of side AC?

$\Delta ABC$  में कोण B का माप  $90^\circ$  है। यदि  $\cot A = 7/24$  और  $AB = 1.4$  सेंटीमीटर है, तो भुजा AC की लंबाई (सेंटीमीटर में) क्या है?

**Options:**

- 1) 5
- 2) 4.8
- 3) 4
- 4) 5.6

**Correct Answer:** 5

**Candidate Answer:** 4.8

**QID : 76** - "Sunrise Industries" are industries \_\_\_\_\_.

"सनराइज इंडस्ट्रीज" वे उद्योग हैं, \_\_\_\_\_।

**Options:**

- 1) which are well developed and have ample scope for further development  
जो अच्छी तरह से विकसित हैं और जिनमें आगे विकास के लिए पर्याप्त गुंजाइश है
- 2) which improve export performance of the country  
जो देश के निर्यात प्रदर्शन को बेहतर बनाता है
- 3) which small-scale industries  
जो छोटे पैमाने के उद्योग हैं
- 4) which have high growth potential and meet further requirements of the economy  
जो उच्च विकास की क्षमता रखते हैं और अर्थव्यवस्था की अन्य आवश्यकताओं को पूरा करते हैं

**Correct Answer:** which have high growth potential and meet further requirements of the economy  
जो उच्च विकास की क्षमता रखते हैं और अर्थव्यवस्था की अन्य आवश्यकताओं को पूरा करते हैं

**Candidate Answer:** [ NOT ANSWERED ]

**QID : 77** - The latest information about agriculture markets is collected and published by the \_\_\_\_\_.

कृषि बाजार के बारे में नवीनतम सूचना संग्रहण और प्रकाशन \_\_\_\_\_ द्वारा की जाती है।

**Options:**

- 1) Food Corporation of India  
भारतीय खाद्य निगम
- 2) Directorate of Economics and Statistics  
अर्थशास्त्र और सांख्यिकी निदेशालय
- 3) National Council of Applied Economic Research  
राष्ट्रीय अनुप्रयुक्त आर्थिक अनुसंधान परिषद
- 4) Indian Statistical Institute  
भारतीय सांख्यिकी संस्थान

**Correct Answer:** Directorate of Economics and Statistics  
अर्थशास्त्र और सांख्यिकी निदेशालय

**Candidate Answer:** [ NOT ANSWERED ]

**QID : 78** - Thunder Cloud happens in which layer of the atmosphere?

मेघ गर्जन वायुमंडल की किस परत में होता है?

**Options:**

- 1) Ionosphere  
आयन मंडल
- 2) Ozonosphere  
ओजोन मंडल
- 3) Troposphere  
क्षोभ मंडल
- 4) Stratosphere  
समताप मंडल

**Correct Answer:** Troposphere  
क्षोभ मंडल

**Candidate Answer:** [ NOT ANSWERED ]

**QID : 79** - Which of the following rivers does **NOT** originate from Amarkantak Plateau or nearby places?

निम्नलिखित में से कौन-सी नदी अमरकंटक के पठार या उसके आसपास से **नहीं** निकलती है?

**Options:**

- 1) Godavari  
गोदावरी
- 2) Narmada  
नर्मदा
- 3) Tawa  
तवा
- 4) Son  
सोन

**Correct Answer:** Godavari  
गोदावरी

**Candidate Answer:** [ NOT ANSWERED ]

**QID : 80** - Al-Masudi, a resident of Baghdad, had visited India in whose reign?

बगदाद निवासी अल-मसूदी किसके शासनकाल में भारत आया था?

**Options:**

- 1) Mahendra Pal  
महेन्द्रपाल
- 2) Mahipal  
महीपाल
- 3) Mihir bhoj  
मिहिर भोज
- 4) Rambhadra  
रामभद्र

**Correct Answer:** Mahipal  
महीपाल

**Candidate Answer:** Mahipal  
महीपाल

**QID : 81** - Which of the following leaders formed 'India Home Rule Society'?

निम्नलिखित में से किस नेता ने 'इंडिया होमरूल सोसायटी' का गठन किया था?

**Options:**

- 1) Shyamji Krishna Varma  
श्यामजी कृष्ण वर्मा
- 2) Annie Besant  
एनी बेसेंट
- 3) Lala Hardayal  
लाला हरदयाल
- 4) Bal Gangadhar Tilak  
बालगंगाधर तिलक

**Correct Answer:** Shyamji Krishna Varma  
श्यामजी कृष्ण वर्मा

**Candidate Answer:** Shyamji Krishna Varma  
श्यामजी कृष्ण वर्मा

**QID : 82** - The world famous painting 'The Last Judgment' was created by which of the following painters?

विश्व प्रसिद्ध पेंटिंग 'द लास्ट जजमेंट' निम्नलिखित चित्रकारों में से किसने बनाई थी?

**Options:**

- 1) Leonardo da Vinci  
लियोनार्दो-दा-विंची
- 2) Michelangelo  
माइकल एंजेलो
- 3) Raphael  
राफेल
- 4) Van Gogh  
वॉन गॉग

**Correct Answer:** Michelangelo

माइकल एंजेलो

**Candidate Answer:** [ NOT ANSWERED ]

**QID : 83** - With which organization India celebrated its 25<sup>th</sup> anniversary of the establishment diplomatic ties in 2018?

2018 में किस संगठन के साथ भारत ने अपने राजनयिक संबंधों की स्थापना की अपनी 25वीं वर्षगांठ मनाई थी?

**Options:**

1) SAARC

सार्क

2) Asean

आसियान

3) WEF

डब्ल्यूईएफ

4) World Bank

विश्व बैंक

**Correct Answer:** Asean

आसियान

**Candidate Answer:** [ NOT ANSWERED ]

**QID : 84** - Who among the following is a recipient of 2017 Mother Teresa Memorial Award for Social Justice?

निम्नलिखित में से कौन सामाजिक न्याय के लिए मदर टेरेसा स्मृति पुरस्कार-2017 का प्राप्तकर्ता है?

**Options:**

1) Kangana Ranaut

कंगना रणौत

2) Priyanka Chopra

प्रियंका चोपड़ा

3) Dipika Padukone

दीपिका पादुकोण

4) Diya Mirza

दिया मिर्जा

**Correct Answer:** Priyanka Chopra

प्रियंका चोपड़ा

**Candidate Answer:** Priyanka Chopra

प्रियंका चोपड़ा

**QID : 85** - What is the national fruit of Bangladesh?

बांग्लादेश का राष्ट्रीय फल क्या है?

**Options:**

1) Jackfruit

कटहल

2) Mango

आम

3) Litchi

लीची

4) Custard Apple

शरीफा

**Correct Answer:** Jackfruit

कटहल

**Candidate Answer:** Litchi

लीची

**QID : 86** - Which of the following is a **CORRECT** statement?

निम्नलिखित में से कौन सा एक **सही** कथन है?

**Options:**

1) Only compounds are pure substance.

केवल यौगिक शुद्ध पदार्थ होते हैं।

2) Compounds are impure substance.

यौगिक अशुद्ध पदार्थ होते हैं।

3) Only elements are pure substance.

केवल तत्व शुद्ध पदार्थ होते हैं।

4) Both compounds and elements are pure substance

यौगिक तथा तत्व दोनों शुद्ध होते हैं।

**Correct Answer:** Both compounds and elements are pure substance

यौगिक तथा तत्व दोनों शुद्ध होते हैं।

**Candidate Answer:** [ NOT ANSWERED ]

**QID : 87** - Electrons can be deflected by which of the following?

इलेक्ट्रॉन निम्नलिखित में से किसके द्वारा विचलित हो सकते हैं?

**Options:**

- 1) Only magnetic field  
केवल चुम्बकीय क्षेत्र
- 2) Only electric field  
केवल विद्युत क्षेत्र
- 3) Both magnetic and electric field  
चुम्बकीय क्षेत्र तथा विद्युत क्षेत्र दोनों
- 4) No option is correct.  
कोई विकल्प सही नहीं है।

**Correct Answer:** Both magnetic and electric field  
चुम्बकीय क्षेत्र तथा विद्युत क्षेत्र दोनों

**Candidate Answer:** [ NOT ANSWERED ]

**QID : 88** - How many levels of Government are there in India?

भारत में कितने स्तरों की सरकार होती है?

**Options:**

- 1) 1
- 2) 2
- 3) 3
- 4) 4

**Correct Answer:** 3

**Candidate Answer:** [ NOT ANSWERED ]

**QID : 89** - With the help of Panchayat Samitis, who regulates the money distribution among all the Gram Panchayats?

पंचायत समितियों की सहायता से कौन सभी ग्राम पंचायतों में राशि के वितरण की व्यवस्था करता है?

**Options:**

- 1) Zila Parishad  
ज़िला परिषद
- 2) Sarpanch  
सरपंच
- 3) Gram Sabha  
ग्राम सभा
- 4) Secretary  
सचिव

**Correct Answer:** Zila Parishad  
ज़िला परिषद

**Candidate Answer:** [ NOT ANSWERED ]

**QID : 90** - Which among the following is **NOT** same as reproduction?

निम्नलिखित में से कौन सा जनन के समान **नहीं** है?

**Options:**

- 1) Regeneration  
पुनरुद्भवन
- 2) Budding  
मुकुलन
- 3) Vegetative Propagation  
कायिक प्रवर्धन
- 4) Spore formation  
बीजाणु समासंघ

**Correct Answer:** Regeneration  
पुनरुद्भवन

**Candidate Answer:** Spore formation  
बीजाणु समासंघ

**QID : 91** - By which process the cells of the meristematic tissue take up a permanent shape, size, and a function?

किस प्रक्रिया द्वारा विभज्योतक ऊतक की कोशिकाएँ एक स्थायी रूप, आकार तथा विशिष्ट क्रिया ले लेती हैं?

**Options:**

- 1) Demarcation  
सीमांकन
- 2) Organisation  
संगठन
- 3) Simplification  
सरलीकरण
- 4) Differentiation  
विभेदीकरण

**Correct Answer:** Differentiation  
विभेदीकरण

**Candidate Answer:** [ NOT ANSWERED ]



**QID : 92** - World Bank is giving financial assistance of how much amount for 'SANKALP' project launched by the Government of India?

विश्व बैंक भारत सरकार द्वारा लोकार्पित 'संकल्प' (एसएएनकेएएलपी) परियोजना को कितनी धनराशि की वित्तीय सहायता दे रहा है?

**Options:**

- 1) Rs 2500 crore  
2500 करोड़ रु
- 2) Rs 3300 crore  
3300 करोड़ रु
- 3) Rs 4000 crore  
4000 करोड़ रु
- 4) Rs 4455 crore  
4455 करोड़ रु

**Correct Answer:** Rs 3300 crore

3300 करोड़ रु

**Candidate Answer:** [ NOT ANSWERED ]

**QID : 93** - Abilify MyCite is the first drug in the United States of America to be approved by the Food and Drug Administration with a \_\_\_\_\_ system.

एबिलीफाई माइसाइट संयुक्त राज्य अमेरिका में खाद्य एवं औषधि प्रशासन द्वारा अनुमोदित \_\_\_\_\_ प्रणाली वाली, पहली दवा है।

**Options:**

- 1) Bone density tracking  
हड्डी घनत्व मार्गन
- 2) Blood pressure tracking  
रक्त दाब मार्गन
- 3) Nerve impulse tracking  
तंत्रिका प्रोत्तेजना मार्गन
- 4) Digital ingestion tracking  
डिजिटल अंतर्ग्रहण मार्गन

**Correct Answer:** Digital ingestion tracking

डिजिटल अंतर्ग्रहण मार्गन

**Candidate Answer:** [ NOT ANSWERED ]

**QID : 94** - In June 2017, who has become the first local body in the country to issue 'municipal bonds' in nearly one and a half decade?

जून 2017 में कौन लगभग डेढ़ दशक में 'नगरपालिका बॉन्ड' जारी करने वाला देश का पहला स्थानीय निकाय बन गया है?

**Options:**

- 1) Municipal Corporation of Mumbai  
मुंबई नगर निगम
- 2) Municipal Corporation of Pune  
पुणे नगर निगम
- 3) Municipal Corporation of Delhi  
दिल्ली नगर निगम
- 4) Municipal Corporation of Kolkata  
कोलकाता नगर निगम

**Correct Answer:** Municipal Corporation of Pune

पुणे नगर निगम

**Candidate Answer:** [ NOT ANSWERED ]

**QID : 95** - On 24 January 2018, the Ministry of Women and Child Development launched a web based Rapid Reporting System for the \_\_\_\_\_.

24 जनवरी 2018 को, महिलाओं तथा बाल विकास मंत्रालय ने \_\_\_\_\_ के लिए एक वेब आधारित रैपिड रिपोर्टिंग सिस्टम लोकार्पित किया।

**Options:**

- 1) Scheme for Adolescent Girls  
किशोर लड़कियों की योजना
- 2) Scheme for Widow women  
विधवा महिलाओं की योजना
- 3) Scheme for Acid attack victims  
एसिड हमले के शिकार लोगों की योजना
- 4) Scheme for divorced women  
तलाकशुदा महिलाओं की योजना

**Correct Answer:** Scheme for Adolescent Girls

किशोर लड़कियों की योजना

**Candidate Answer:** Scheme for Acid attack victims

एसिड हमले के शिकार लोगों की योजना

**QID : 96** - A Sonar of a ship sends sounds waves of speed 1500 m/s. These waves are reflected back by the ocean floor in 5 seconds. Find the depth (in m) of the ocean floor.

किसी जहाज का सोनार 1500 मीटर/सेकंड के वेग से ध्वनि तरंगें भेजता है। ये तरंगें समुद्र तल पर 5 सेकंड बाद लौट कर आती हैं। समुद्र तल की गहराई (मीटर में) ज्ञात करें।

**Options:**

1) 3750

2) 7500

3) 1875

4) 5000

**Correct Answer:** 3750

**Candidate Answer:** [ NOT ANSWERED ]

**QID : 97** - Sound is a form of \_\_\_\_\_ which produces a sensation of hearing in our ears.

ध्वनि \_\_\_\_\_ का एक रूप है जो हमारे कानों में श्रवण का संवेदन उत्पन्न करती है।

**Options:**

1) power

शक्ति

2) energy

ऊर्जा

3) force

बल

4) momentum

संवेग

**Correct Answer:** energy

ऊर्जा

**Candidate Answer:** energy

ऊर्जा

**QID : 98** - Living things constitute the biotic component of the \_\_\_\_\_.

सजीव \_\_\_\_\_ के जैविक घटक को बनाते हैं।

**Options:**

1) mesosphere

मध्यमंडल

2) biosphere

जीवमंडल

3) thermosphere

तापमंडल

4) heliosphere

हेलियोस्फीयर

**Correct Answer:** biosphere

जीवमंडल

**Candidate Answer:** heliosphere

हेलियोस्फीयर

**QID : 99** - Which of the statements given below are **correct**?

- A) Alexander Zverev won the Tennis 2017 Italian Open Men's Singles.
- B) In 2017 Pro Kabaddi League, Selvamani K played for Puneri Paltan.
- C) United States hosted the Tennis 2017 Hopman Cup.

निम्नलिखित में से कौन सा कथन **सत्य** है?

- A) एलेक्सजेंडर ज्वेरेव ने टेनिस 2017 इटालियन ओपन मेन्स सिंगल्स जीती।
- B) 2017 की प्रो कबड्डी लीग में के. सेल्वामणि पुणेरी पलटन के लिए खेले।
- C) संयुक्त राज्य ने टेनिस 2017 हॉपमैन कप की मेजबानी की।

**Options:**

1) Only A

केवल A

2) Only B

केवल B

3) Both A and B

A और B दोनों

4) Both A and C

A और C दोनों

**Correct Answer:** Only A

केवल A

**Candidate Answer:** Only B

केवल B

**QID : 100** - In HTML, \_\_\_\_\_ pair defines a row of the table.

एचटीएमएल में, \_\_\_\_\_ युग्म टेबल की पंक्ति बनाने के लिए है।

## Options:

1) `<table></table>`

2) `<tr></tr>`

3) `<td></td>`

4) `<th></th>`

Correct Answer: `<tr></tr>`

Candidate Answer: [ NOT ANSWERED ]