



Staff Selection Commission
(Government Of India)

REGISTRATION NUMBER : KVCLASSES

EXAM DATE : 26-March-2018

EXAM NAME : SSC Examination

TOTAL MARKS : 200

CANDIDATE NAME : KVCLASSES

EXAM START TIME : 16:30:00

EXAM DURATION : 01:00 Hrs

TOTAL NO OF QUESTIONS : 100

QID : 201 - In the following question, some part of the sentence may have errors. Find out which part of the sentence has an error and select the appropriate option. If a sentence is free from error, select 'No Error'.

Evolutionary processes give rise to biodiversity in every (1)/ level of biological organisation, including the level of (2)/ species, individual organisms, and molecules. (3)/ No error (4)

Options:

- 1) 1
- 2) 2
- 3) 3
- 4) 4

Correct Answer: 1

Candidate Answer: [NOT ANSWERED]

QID : 202 - In the following question, some part of the sentence may have errors. Find out which part of the sentence has an error and select the appropriate option. If a sentence is free from error, select 'No Error'.

Population decline, counter-urbanisation, invasion, and (1)/ movement of people, which had begun in Late (2)/ Antiquity, continued in the Early Middle Ages. (3)/ No error (4)

Options:

- 1) 1
- 2) 2
- 3) 3
- 4) 4

Correct Answer: 4

Candidate Answer: [NOT ANSWERED]

QID : 203 - In the following question, the sentence given with blank to be filled in with an appropriate word. Select the correct alternative out of the four and indicate it by selecting the appropriate option.

The architect was unable to _____ those designs.

Options:

- 1) made
- 2) sketch
- 3) scatter
- 4) built

Correct Answer: sketch

Candidate Answer: sketch

QID : 204 - In the following question, the sentence given with blank to be filled in with an appropriate word. Select the correct alternative out of the four and indicate it by selecting the appropriate option.

Life is short but it has a _____ meaning.

Options:

- 1) rare
- 2) sharp
- 3) deep
- 4) blur

Correct Answer: deep

Candidate Answer: deep

QID : 205 - In the following question, out of the given four alternatives, select the one which best expresses the meaning of the given word.

Pert

Options:

- 1) Humble
- 2) Lively
- 3) Meek
- 4) Timid

Correct Answer: Lively

Candidate Answer: [NOT ANSWERED]

QID : 206 - In the following question, out of the given four alternatives, select the one which best expresses the meaning of the given word.

Copious

Options:

- 1) Counterfeit
- 2) Plentiful
- 3) Commendable
- 4) Deficient

Correct Answer: Plentiful

Candidate Answer: Counterfeit

QID : 207 - In the following question, out of the given four alternatives, select the one which is opposite in meaning of the given word.

Egregious

Options:

- 1) Noticeable
- 2) Gross
- 3) Mild
- 4) Obvious

Correct Answer: Mild

Candidate Answer: Noticeable

QID : 208 - In the following question, out of the given four alternatives, select the one which is opposite in meaning of the given word.

Rectitude

Options:

- 1) Goodness
- 2) Infamy
- 3) Honesty
- 4) Character

Correct Answer: Infamy

Candidate Answer: Infamy

QID : 209 - Rearrange the parts of the sentence in correct order.

The elusive

P : status in the Red List of the International

Q : snow leopard has lost its endangered

R : Union for Conservation of Nature

Options:

- 1) QPR
- 2) RPQ
- 3) QRP
- 4) PQR

Correct Answer: QPR

Candidate Answer: QPR

QID : 210 - A sentence has been given in Active/Passive Voice. Out of the four given alternatives, select the one which best expresses the same sentence in Passive/Active Voice.

He gave her promotion happily.

Options:

- 1) She was given promotion happily by him.
- 2) She had been given promotion by him happily.
- 3) Her promotion was gave happily by him.
- 4) Her promotion was given.

Correct Answer: She was given promotion happily by him.

Candidate Answer: She was given promotion happily by him.

QID : 211 - A sentence has been given in Direct/Indirect Speech. Out of the four given alternatives, select the one which best expresses the same sentence in Indirect/Direct Speech.

Anuj said, "I need your help now."

Options:

- 1) Anju needed my help then.
- 2) Anuj said that he needed my help then.
- 3) Anuj said he needed my help now.
- 4) Anuj says he needed my help now.

Correct Answer: Anuj said that he needed my help then.

Candidate Answer: Anuj said that he needed my help then.

QID : 212 - In the following question, a word has been written in four different ways out of which only one is correctly spelt. Select the correctly spelt word.

Options:

- 1) Hygiene
- 2) Hygine
- 3) Higin
- 4) Hygeine

Correct Answer: Hygiene

Candidate Answer: Hygiene

QID : 213 - In the following passage, some of the words have been left out. Read the passage carefully and select the correct answer for the given blank out of the four alternatives.

The reason is a fear that we will not _____ find ourselves in that higher echelon of posts and achievements that get so many likes and reposts, a sign of success and _____ in our binary outlook. A darker worry also exists at the back _____ our mind. What if we end _____ in the other group, an object of ridicule, derided as another in a long list of failures _____ embarrassments that go viral for all the wrong reasons?

we will not _____ find ourselves in that

Options:

- 1) automatically
- 2) automatic
- 3) automatical
- 4) automation

Correct Answer: automatically

Candidate Answer: automatically

QID : 214 - In the following passage, some of the words have been left out. Read the passage carefully and select the correct answer for the given blank out of the four alternatives.

The reason is a fear that we will not _____ find ourselves in that higher echelon of posts and achievements that get so many likes and reposts, a sign of success and _____ in our binary outlook. A darker worry also exists at the back _____ our mind. What if we end _____ in the other group, an object of ridicule, derided as another in a long list of failures _____ embarrassments that go viral for all the wrong reasons?

a sign of success and _____ in our binary outlook.

Options:

- 1) appreciate
- 2) appreciative
- 3) appreciation
- 4) appreciatively

Correct Answer: appreciation

Candidate Answer: appreciation

QID : 215 - In the following passage, some of the words have been left out. Read the passage carefully and select the correct answer for the given blank out of the four alternatives.

The reason is a fear that we will not _____ find ourselves in that higher echelon of posts and achievements that get so many likes and reposts, a sign of success and _____ in our binary outlook. A darker worry also exists at the back _____ our mind. What if we end _____ in the other group, an object of ridicule, derided as another in a long list of failures _____ embarrassments that go viral for all the wrong reasons?

at the back _____ our mind.

Options:

- 1) for
- 2) from
- 3) off
- 4) of

Correct Answer: of

Candidate Answer: of

QID : 216 - In the following passage, some of the words have been left out. Read the passage carefully and select the correct answer for the given blank out of the four alternatives.

The reason is a fear that we will not _____ find ourselves in that higher echelon of posts and achievements that get so many likes and reposts, a sign of success and _____ in our binary outlook. A darker worry also exists at the back _____ our mind. What if we end _____ in the other group, an object of ridicule, derided as another in a long list of failures _____ embarrassments that go viral for all the wrong reasons?

What if we end _____ in the other group

Options:

- 1) upon
- 2) on
- 3) up
- 4) above

Correct Answer: up

Candidate Answer: upon

QID : 217 - In the following passage, some of the words have been left out. Read the passage carefully and select the correct answer for the given blank out of the four alternatives.

The reason is a fear that we will not _____ find ourselves in that higher echelon of posts and achievements that get so many likes and reposts, a sign of success and _____ in our binary outlook. A darker worry also exists at the back _____ our mind. What if we end _____ in the other group, an object of ridicule, derided as another in a long list of failures _____ embarrassments that go viral for all the wrong reasons?

list of failures _____ embarrassments that go viral

Options:

- 1) but
- 2) nor
- 3) also
- 4) and

Correct Answer: and

Candidate Answer: and

QID : 218 - In the following question, out of the four alternatives, select the alternative which best expresses the meaning of the idiom/phrase.

Stab someone in the back

Options:

- 1) Praise someone.
- 2) Like someone secretly.
- 3) Betray someone.
- 4) Meet someone after a long time.

Correct Answer: Betray someone.

Candidate Answer: Betray someone.

QID : 219 - In the following question, out of the four alternatives, select the alternative which best expresses the meaning of the idiom/phrase.

Over my dead body

Options:

- 1) Used to emphasize that one completely opposes something.
- 2) Be dead sure of something.
- 3) Feel afraid of something or someone.
- 4) Feel unhealthy and very weak.

Correct Answer: Used to emphasize that one completely opposes something.

Candidate Answer: Used to emphasize that one completely opposes something.

QID : 220 - In the following question, out of the four alternatives, select the alternative which is the best substitute of the words/sentence.

Farmland ploughed and harrowed but left for a period without being sown in order to restore its fertility

Options:

- 1) Fallow
- 2) Urbane
- 3) Sophisticated
- 4) Genteel

Correct Answer: Fallow

Candidate Answer: Fallow

QID : 221 - In the following question, out of the four alternatives, select the alternative which is the best substitute of the words/sentence.

Showing or feeling no interest, enthusiasm, or concern

Options:

- 1) Ardent
- 2) Fervent
- 3) Apathetic
- 4) Melancholic

Correct Answer: Apathetic

Candidate Answer: Melancholic

QID : 222 - In the following question, out of the four alternatives, select the alternative which will improve the bracketed part of the sentence. In case no improvement is needed, select "no improvement".

Over the last few weeks I (**has been**) on a whirlwind series of travel for work and vacation.

Options:

- 1) have been
- 2) was been
- 3) have being
- 4) no improvement

Correct Answer: have been

Candidate Answer: have been

QID : 223 - In the following question, out of the four alternatives, select the alternative which will improve the bracketed part of the sentence. In case no improvement is needed, select "no improvement".

I closed the window just in time and (**return**) to my room with relief.

Options:

- 1) returns
- 2) returned
- 3) will return
- 4) no improvement

Correct Answer: returned

Candidate Answer: returned

QID : 224 - The question below consists of a set of labelled sentences. Out of the four options given, select the most logical order of the sentences to form a coherent paragraph.

In order to

A-regulate the technology and boost

B-the rankings, we need our

C-teachers to do exponential thinking

Options:

- 1) CBA
- 2) CAB
- 3) BCA
- 4) ABC

Correct Answer: ABC

Candidate Answer: ABC

QID : 225 - In the following question, four words are given out of which one word is correctly spelt. Select the correctly spelt word.

Options:

- 1) symptommatically
- 2) symptomatically
- 3) symptomatically
- 4) symptommatically

Correct Answer: symptomatically

Candidate Answer: symptomatically

QID : 226 - In the following question, select the related word pair from the given alternatives.

Ohm : Resistance :: ? : ?

निम्नलिखित प्रश्न में दिए गए विकल्पों में से संबंधित शब्द युग्म को चुनिए।

ओम : प्रतिरोध :: ? : ?

Options:

- 1) Temperature : Degree
तापमान : डिग्री
- 2) Hectare : Area
हेक्टेयर : क्षेत्रफल
- 3) Energy : Watt
ऊर्जा : वॉट
- 4) Current : Ampere
विद्युत प्रवाह : एम्पीयर

Correct Answer: Hectare : Area

हेक्टेयर : क्षेत्रफल

Candidate Answer: Hectare : Area

हेक्टेयर : क्षेत्रफल

QID : 227 - In the following question, select the related number from the given alternatives.

16 : 23 :: 22 : ?

निम्नलिखित प्रश्न में दिए गए विकल्पों में से संबंधित संख्या को चुनिए।

16 : 23 :: 22 : ?

Options:

- 1) 34
- 2) 29
- 3) 23
- 4) 31

Correct Answer: 29

Candidate Answer: 29

QID : 228 - In the following question, select the related letter/letters from the given alternatives.

GOI : RZT :: FMD : ?

निम्नलिखित प्रश्न में दिए गए विकल्पों में से संबंधित अक्षर/अक्षरों को चुनिए।

GOI : RZT :: FMD : ?

Options:

- 1) PWN
- 2) QXP
- 3) PWO
- 4) QXO

Correct Answer: QXO

Candidate Answer: QXO

QID : 229 - In the following question, select the odd word pair from the given alternatives.

निम्नलिखित प्रश्न में दिए गए विकल्पों में से विषम शब्द युग्म को चुनिए।

Options:

- 1) Figure – Rectangle
आकृति – आयत
- 2) Ornament – Ring
आभूषण – अंगूठी
- 3) Vehicle – Scooter
वाहन – स्कूटर
- 4) Necklace – Ornament
गले का हार – आभूषण

Correct Answer: Necklace – Ornament

गले का हार – आभूषण

Candidate Answer: Necklace – Ornament

गले का हार – आभूषण

QID : 230 - In the following question, four number pairs are given. The number on left side of (–) is related to the number on the right side of (–) with some Logic/Rule/Relation. Three are similar on basis of same Logic/Rule/Relation. Select the odd one out from the given alternatives.

नीचे दिए गए प्रश्न में, चार संख्या युग्म दिए गए हैं। (–) के बायीं ओर दी संख्या (–) के दायीं ओर दी गई संख्या से तर्क/नियम से सम्बंधित है। तीन उसी एक तर्क/नियम के आधार पर समान हैं। दिए गए विकल्पों में से भिन्न को चुनिए।

Options:

- 1) 17 – 34
- 2) 37 – 74
- 3) 43 – 86
- 4) 29 – 59

Correct Answer: 29 – 59

Candidate Answer: 29 – 59

QID : 231 - In the following question, select the odd letter/letters from the given alternatives.

निम्नलिखित प्रश्न में दिए गए विकल्पों में से विषम अक्षर/अक्षरों को चुनिए।

Options:

- 1) SKC
- 2) ZRJ
- 3) ZSK
- 4) VNF

Correct Answer: ZSK

Candidate Answer: ZSK

QID : 232 - Arrange the given words in the sequence in which they occur in the dictionary.

1. Pinnacle
2. Pigment
3. Pierce
4. Phony
5. Pick

निम्नलिखित शब्दों को शब्दकोश में आने वाले क्रम के अनुसार लिखें।

1. Pinnacle
2. Pigment
3. Pierce
4. Phony
5. Pick

Options:

- 1) 52431
- 2) 45321
- 3) 12453
- 4) 23514

Correct Answer: 45321

Candidate Answer: 45321

QID : 233 - In the following question, select the missing number from the given series.

13, 19, 32, 51, 83, ?

निम्नलिखित प्रश्न में दिए गए विकल्पों में से लुप्त अंक ज्ञात कीजिए।

13, 19, 32, 51, 83, ?

Options:

- 1) 142
- 2) 134
- 3) 156
- 4) 140

Correct Answer: 134

Candidate Answer: 134

QID : 234 - A series is given with one term missing. Select the correct alternative from the given ones that will complete the series.

CLG, GPK, KTO, OXS, ?

एक अनुक्रम दिया गया है, जिसमें से एक पद लुप्त है। दिए गए विकल्पों में से वह सही विकल्प चुनिए, जो अनुक्रम को पूरा करे।

CLG, GPK, KTO, OXS, ?

Options:

- 1) TBW
- 2) SZW
- 3) SWA
- 4) SBW

Correct Answer: SBW

Candidate Answer: SBW

QID : 235 - Suraj is shorter than Gopal but taller than Tarun. Rajan is the tallest and Shivam is shorter than Suraj but not the shortest. Who is the third shortest?

सूरज, गोपाल से छोटा है परंतु तरुण से लम्बा है। राजन सबसे लम्बा है तथा शिवम, सूरज से छोटा है परंतु सबसे छोटा नहीं है। तीसरा सबसे छोटा कौन है?

Options:

- 1) Gopal
गोपाल
- 2) Suraj
सूरज
- 3) Rajan
राजन
- 4) Shivam
शिवम

Correct Answer: Suraj

सूरज

Candidate Answer: Suraj

सूरज

QID : 236 - From the given alternatives, select the word which **CANNOT** be formed using the letters of the given word.

Endeavors

दिए गए विकल्पों में से वह शब्द चुनिए जो दिए गए शब्द के अक्षरों का प्रयोग करके **नहीं** बनाया जा सकता है।

Endeavors

Options:

- 1) Vote
- 2) Rose
- 3) End
- 4) Done

Correct Answer: Vote

Candidate Answer: Vote

QID : 237 - In a certain code language, "LINKS" is written as "93210" and "CROMA" is written as "84576". How is "ROCKS" written in that code language?

एक विशिष्ट कोड भाषा में, "LINKS" को "93210" लिखा जाता है तथा "CROMA" को "84576" लिखा जाता है। इस कोड भाषा में "ROCKS" को किस प्रकार लिखा जाएगा?

Options:

- 1) 81054
- 2) 83106
- 3) 45810
- 4) 10486

Correct Answer: 45810

Candidate Answer: 45810

QID : 238 - In a certain code language, '1' represents '+', '+' represents 'x', 'x' represents '÷' and '÷' represents '1'. Find out the answer to the following question.

$$7 - 8 + 20 \times 10 \div 9 = ?$$

किसी निश्चित कोड भाषा में '1', '+' को प्रदर्शित करता है, '+' , 'x' को प्रदर्शित करता है, 'x', '÷' को प्रदर्शित करता है और '÷', '1' को प्रदर्शित करता है। निम्नलिखित प्रश्न का उत्तर ज्ञात करें।

$$7 - 8 + 20 \times 10 \div 9 = ?$$

Options:

- 1) 18
- 2) 20
- 3) 22
- 4) 14

Correct Answer: 14

Candidate Answer: 14

QID : 239 - The following equation is incorrect. Which two signs should be interchanged to correct the equation?

$$16 \times 4 - 10 + 2 \div 12 = 18$$

निम्नलिखित समीकरण गलत है। इस समीकरण को सही करने के लिए किन दो चिन्हों को आपस में अदला-बदली करना चाहिए?

$$16 \times 4 - 10 + 2 \div 12 = 18$$

Options:

- 1) x and -
x और -
- 2) ÷ and -
÷ और -
- 3) - and +
- और +
- 4) ÷ and x
÷ और x

Correct Answer: ÷ and x

÷ और x

Candidate Answer: ÷ and x

÷ और x

QID : 240 - If $4!4 = 80$, $3!8 = 110$ and $6!2 = 80$, then find the value of $7!9 = ?$

यदि $4!4 = 80$, $3!8 = 110$ और $6!2 = 80$, तो $7!9$ का मान ज्ञात करें।

Options:

- 1) 70
- 2) 100
- 3) 60
- 4) 160

Correct Answer: 160

Candidate Answer: 160

QID : 241 - Which of the following terms follows the trend of the given list?

ABABCDAB, ABADCBAB, ABCDABAB, ADCBABAB, CDABABAB, _____.

निम्नलिखित में से कौन सा पद दी गयी सूची के क्रम के अनुसार है?

ABABCDAB, ABADCBAB, ABCDABAB, ADCBABAB, CDABABAB, _____.

Options:

- 1) ABABADCB
- 2) ABABCDAB
- 3) ABADCBAB
- 4) CBABABAD

Correct Answer: CBABABAD

Candidate Answer: CBABABAD

QID : 242 - The fitness club has organised a race. The route goes 4.5 km West from the starting point. It then turns North and goes 3 kms, then turns East and goes 4.5 km, finally it turns left and goes 1.5 km to reach the end point. Where is the end point with respect to the start point?

एक फिटनेस क्लब ने एक दौड़ का आयोजन किया है। इसका मार्ग प्रारंभिक बिंदु से 4.5 कि.मी. पश्चिम की तरफ जाता है। फिर यह उत्तर की तरफ मुड़ता है और आगे 3 कि.मी. दूर जाता है, फिर पूर्व की तरफ मुड़ता है और आगे 4.5 कि.मी. तक जाता है, अंत में यह बाएं मुड़ता है और अंत बिंदु तक पहुंचने के लिए आगे 1.5 कि.मी. जाता है। प्रारंभ बिंदु के संबंध में अंतिम बिंदु कहाँ है?

Options:

- 1) 4.5 km North
4.5 कि.मी. उत्तर
- 2) 1.5 km South
1.5 कि.मी. दक्षिण
- 3) 4.5 km South
4.5 कि.मी. दक्षिण
- 4) 1.5 km North
1.5 कि.मी. उत्तर

Correct Answer: 4.5 km North
4.5 कि.मी. उत्तर

Candidate Answer: 4.5 km North
4.5 कि.मी. उत्तर

QID : 243 - In the question two statements are given, followed by two conclusions, I and II. You have to consider the statements to be true even if it seems to be at variance from commonly known facts. You have to decide which of the given conclusions, if any, follows from the given statements.

Statement I: Some ribbons are tapes
Statement II: Some strips are ribbons

Conclusion I: All tapes are strips
Conclusion II: No strips are tapes

प्रश्न में दो कथन दिये गये हैं जिसके आगे दो निष्कर्ष I और II निकाले गये हैं। आपको मानना है कि दोनों कथन सत्य है चाहे वह सामान्यतः ज्ञात तथ्यों से भिन्न प्रतीत होते हों। आपको निर्णय करना है की दिए गए निष्कर्षों में से कौन-सा/कौन-से निश्चित रूप से कथन द्वारा सही निकाला जा सकता है/सकते हैं, यदि कोई हो।

कथन I: कुछ रिबन टेप होती हैं
कथन II: कुछ स्ट्रिप्स रिबन होते हैं

निष्कर्ष I: सभी टेप स्ट्रिप्स होते हैं
निष्कर्ष II: कोई भी स्ट्रिप्स टेप नहीं होती हैं

Options:

- 1) Only conclusion I follows
केवल निष्कर्ष I सही है
- 2) Only conclusion II follows
केवल निष्कर्ष II सही है
- 3) Both conclusions I and II follow
दोनों निष्कर्ष I और II सही है
- 4) Neither conclusion I nor conclusion II follows
ना तो निष्कर्ष I सही है ना ही निष्कर्ष II

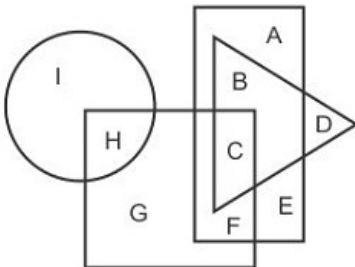
Correct Answer: Neither conclusion I nor conclusion II follows
ना तो निष्कर्ष I सही है ना ही निष्कर्ष II

Candidate Answer: Neither conclusion I nor conclusion II follows
ना तो निष्कर्ष I सही है ना ही निष्कर्ष II

QID : 244 -

In the following figure, rectangle represents Hairstylists, circle represents Choreographers, triangle represents Mountain climbers and square represents Gymnasts. Which set of letters represents Gymnasts who are both Hairstylists as well as Mountain climbers?

निम्नलिखित आकृति में, आयत हेयर स्टाइलिस्ट को प्रदर्शित करता है, वृत्त कोरियोग्राफर को प्रदर्शित करता है, त्रिभुज पर्वतारोहियों को प्रदर्शित करता है और वर्ग जिम्नास्ट्स को प्रदर्शित करता है। अक्षरों का कौन सा समूह उन जिम्नास्ट्स को प्रदर्शित करता है जो हेयर स्टाइलिस्ट और पर्वतारोही दोनों हैं?



Options:

- 1) CF
- 2) GF
- 3) C
- 4) BC

Correct Answer: C

Candidate Answer: C

QID : 245 - A series is given with one term missing. Select the correct alternative from the given ones that will complete the series.

AHR, HOY, OVF, VCM, ?

एक अनुक्रम दिया गया है, जिसमें से एक पद लुप्त है। दिए गए विकल्पों में से वह सही विकल्प चुनिए, जो अनुक्रम को पूरा करे।

AHR, HOY, OVF, VCM, ?

Options:

- 1) CJT
- 2) BKU
- 3) ALV
- 4) ZGQ

Correct Answer: CJT

Candidate Answer: [NOT ANSWERED]

QID : 246 - In the following question, select the missing number from the given series.

6, 13, 20, 27, ?

निम्नलिखित प्रश्न में दिए गए विकल्पों में से लुप्त अंक ज्ञात कीजिए।

6, 13, 20, 27, ?

Options:

- 1) 34
- 2) 32
- 3) 37
- 4) 43

Correct Answer: 34

Candidate Answer: 34

QID : 247 - In the following question, four groups of three numbers are given. In each group the second and third number are related to the first number by a Logic/Rule/Relation. Three are similar on basis of same Logic/Rule/Relation. Select the odd one out from the given alternatives.

नीचे दिए गए प्रश्न में, तीन संख्याओं के चार समूह दिए गए हैं। प्रत्येक समूह में दूसरी तथा तीसरी संख्या पहली संख्या से किसी एक तर्क/नियम से सम्बंधित है। तीन उसी एक तर्क/नियम के आधार पर समान हैं। दिए गए विकल्पों में से भिन्न को चुनिए।

Options:

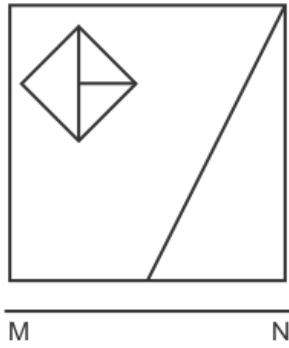
- 1) (7, 36, 21)
- 2) (9, 46, 27)
- 3) (11, 56, 33)
- 4) (22, 106, 63)

Correct Answer: (22, 106, 63)

Candidate Answer: (22, 106, 63)

If a mirror is placed on the line MN, then which of the answer figures is the right image of the given figure?

यदि एक दर्पण को MN रेखा पर रखा जाए तो दी गयी उत्तर आकृतियों में से कौन-सी आकृति प्रश्न आकृति का सही प्रतिबिम्ब होगी?



Options:

1)



2)



3)



4)



Correct Answer:



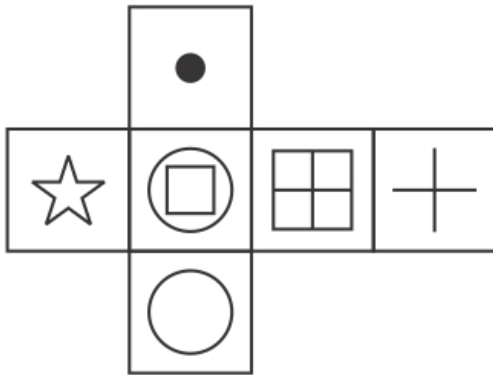
Candidate Answer:



QID : 249 -

Which of the following cube in the answer figure cannot be made based on the unfolded cube in the question figure?

निम्नलिखित उत्तर आकृति में से कौन सा घन दिए गए प्रश्न आकृति में से खुले घन से बनाया नहीं जा सकता?



Options:

1)



2)



3)



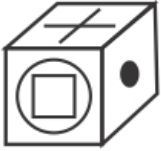
4)



Correct Answer:



Candidate Answer:



QID : 250 -

A word is represented by only one set of numbers as given in any one of the alternatives. The sets of numbers given in the alternatives are represented by two classes of alphabets as shown in the given two matrices. The columns and rows of Matrix-I are numbered from 0 to 4 and that of Matrix-II are numbered from 5 to 9. A letter from these matrices can be represented first by its row and next by its column, for example 'C' can be represented by 21, 34 etc and 'T' can be represented by 97, 89 etc. Similarly, you have to identify the set for the word 'MAZE'.

एक शब्द केवल एक संख्या-समूह द्वारा दर्शाया गया है, जैसा कि विकल्पों में से किसी एक में दिया गया है। विकल्पों में दिए गए संख्या-समूह अक्षरों के दो वर्गों द्वारा दर्शाए गए हैं, जैसा कि दिए गए दो आव्यूहों में है। आव्यूह-I के स्तम्भ और पंक्ति की संख्या 0 से 4 और आव्यूह-II की 5 से 9 है। इन आव्यूहों से एक अक्षर को पहले उसकी पंक्ति और बाद में स्तम्भ संख्या द्वारा दर्शाया जा सकता है। उदाहरण के लिए 'C' को 21, 34 आदि द्वारा दर्शाया जा सकता है तथा 'T' को 97, 89 आदि द्वारा दर्शाया जा सकता है। इसी तरह से आपको प्रश्न में दिए शब्द 'MAZE' के लिए समूह को पहचानना है।

Matrix I आव्यूह - I					
	0	1	2	3	4
0	E	F	H	E	I
1	E	G	E	M	M
2	K	C	H	G	L
3	L	J	G	G	C
4	J	A	M	J	J

Matrix II आव्यूह - II					
	5	6	7	8	9
5	N	W	P	V	S
6	R	W	Q	Y	N
7	P	Z	P	U	U
8	N	Q	U	R	T
9	R	V	T	Q	O

Options:

- 1) 22,97,43,66
- 2) 24,76,12,66
- 3) 31,76,11,58
- 4) 14,41,76,12

Correct Answer: 14,41,76,12

Candidate Answer: 14,41,76,12

QID : 251 - Find the average of first 20 multiples of 9.

9 के पहले 20 गुणक के औसत ज्ञात कीजिये।

Options:

- 1) 94.8
- 2) 94.7
- 3) 94.6
- 4) 94.5

Correct Answer: 94.5

Candidate Answer: 94.5

QID : 252 -

Calculate: $\frac{7|2-6|-4|5|+5}{-7(2)-2\times 2+2+2}$

गणना कीजिए: $\frac{7|2-6|-4|5|+5}{-7(2)-2\times 2+2+2}$

Options:

1)

$-\frac{16}{18}$

2)

$-\frac{14}{7}$

3)

$-\frac{12}{7}$

4)

$-\frac{12}{18}$

Correct Answer:

$-\frac{12}{7}$

Candidate Answer:

$-\frac{12}{7}$

QID : 253 - What is the value equation $a^3 + b^3 + c^3 - 3abc$ if $a^2 + b^2 + c^2 = ab + bc + ca + 4$ and $a + b + c = 4$.

$a^3 + b^3 + c^3 - 3abc$ का मान क्या होगा यदि $a^2 + b^2 + c^2 = ab + bc + ca + 4$ और $a + b + c = 4$ है।

Options:

1) 0

2) 1

3) 16

4) 256

Correct Answer: 16

Candidate Answer: 16

QID : 254 - What is the x - intercept of the linear equation $18x + 25y - 900 = 0$?

रेखिय समीकरण $18x + 25y - 900 = 0$ में x - का अवरोधन (इंटरसेप्ट) क्या है?

Options:

1) 18

2) 25

3) 50

4) 450

Correct Answer: 50

Candidate Answer: 50

QID : 255 - Two equal circles intersect each other at point A and B, whose centers are O and O'. $OO' = 24$ mm and $AB = 10$ mm, then find the area (in sq. mm) of the circle.

दो समान वृत्त, बिंदु A और B पर एक दूसरे को प्रतिच्छेद करते हैं, जिनके केन्द्र O और O' हैं। अगर $OO' = 24$ मिमी और $AB = 10$ मिमी, तो वृत्त का क्षेत्रफल (वर्ग मिमी में) ज्ञात कीजिये।

Options:

1) 530.66

2) 520.66

3) 510.33

4) 500.33

Correct Answer: 530.66

Candidate Answer: 530.66

QID : 256 - The length of the diameter of the circle is 10 cm and length of the chord drawn in a circle is 6 cm. Find the distance (in cm) of chord from the center.

एक वृत्त के व्यास की लंबाई 10 सेमी और वृत्त में खींची गयी जीवा की लंबाई 6 सेमी है। केंद्र से जीवा की दूरी (सेमी में) ज्ञात कीजिये।

Correct Answer: 4500

Candidate Answer: 4500

QID : 262 - The difference between cost price and selling price is Rs 575. If profit percentage is 23%, then what is the selling price (in Rs)?

क्रय मूल्य तथा विक्रय मूल्य के मध्य अंतर 575 रु है। यदि लाभ प्रतिशत 23% है, तो विक्रय मूल्य (रु में) क्या है?

Options:

1) 3225

2) 1925

3) 2500

4) 3075

Correct Answer: 3075

Candidate Answer: 3075

QID : 263 - A merchant marks the price of his articles 20% above the cost price. If he allows 20% discount, then what is the profit or loss percentage?

एक व्यापारी अपनी वस्तुओं के मूल्य को क्रय मूल्य से 20% अधिक अंकित करता है। यदि वह 20% छूट देता है, तो लाभ अथवा हानि प्रतिशत क्या है?

Options:

1) 2% loss

2% हानि

2) 4% profit

4% लाभ

3) 4% loss

4% हानि

4) No profit/loss

कोई लाभ/हानि नहीं

Correct Answer: 4% loss

4% हानि

Candidate Answer: 4% loss

4% हानि

QID : 264 - What is that least digit that must be added to the product 5786×5784 to make it a perfect square?

गुणनफल 5786×5784 को एक पूर्ण वर्ग बनाने के लिए वह सबसे छोटा अंक क्या है जो इसमें जोड़ा जाना चाहिए?

Options:

1) 1

2) 6

3) 5

4) 4

Correct Answer: 1

Candidate Answer: [NOT ANSWERED]

QID : 265 - 20 boys do one fourth of work in 25 days. How many more boys will be required to complete the remaining work in 50 days?

20 लड़के एक कार्य का एक चौथाई 25 दिन में पूरा करते हैं। शेष कार्य को 50 दिन में पूरा करने के लिए और कितने लड़के चाहिए होंगे?

Options:

1) 8

2) 10

3) 15

4) 20

Correct Answer: 10

Candidate Answer: 10

QID : 266 - When Gopal walks from A to B and returns from B to A on cycle, then it takes him 46 minutes. By walking both ways, it takes him 75 minutes. If he rides cycle both ways then what will be the total time (in minutes)?

जब गोपाल A से B पैदल तथा B से A साइकिल से आता है, तो उसे 46 मिनट लगते हैं। दोनों ओर से पैदल चलने पर उसे 75 मिनट लगते हैं। यदि वह दोनों ओर से साइकिल पर जाए, तो उसे कुल कितना समय (मिनट में) लगेगा?

Options:

1) 19

2) 17

3) 23

4) 15

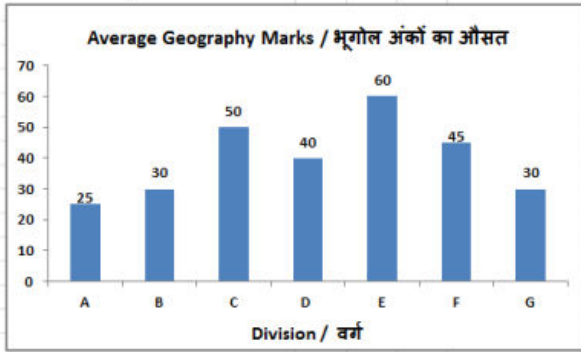
Correct Answer: 17

Candidate Answer: 17

QID : 267 -

The bar graph shows average marks scored in a 100 marks Geography exam by students of 7 divisions of Standard X. Study the diagram and answer the following questions.

यह बार ग्राफ कक्षा X के 7 वर्गों के विद्यार्थियों द्वारा 100 अंकों की भूगोल की परीक्षा में प्राप्त किये गये औसत अंक दर्शाता है। इस आरेख का अध्ययन करें और निम्नलिखित प्रश्नों के उत्तर दें।



Which division scored the second highest average marks?

किस वर्ग ने दूसरे उच्चतम औसत अंक प्राप्त हैं?

Options:

- 1) F
- 2) B
- 3) A
- 4) C

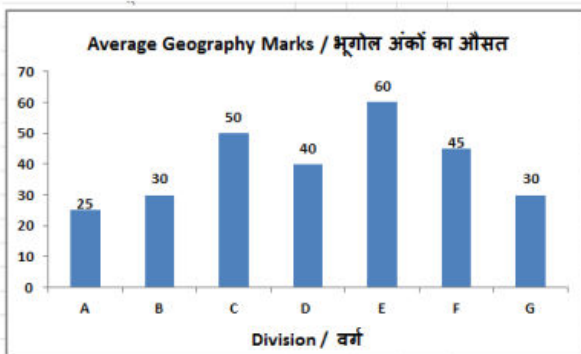
Correct Answer: C

Candidate Answer: C

QID : 268 -

The bar graph shows average marks scored in a 100 marks Geography exam by students of 7 divisions of Standard X. Study the diagram and answer the following questions.

यह बार ग्राफ कक्षा X के 7 वर्गों के विद्यार्थियों द्वारा 100 अंकों की भूगोल की परीक्षा में प्राप्त किये गये औसत अंक दर्शाता है। इस आरेख का अध्ययन करें और निम्नलिखित प्रश्नों के उत्तर दें।



What is the ratio of average marks scored by Division C to Division G?

वर्ग C और वर्ग G द्वारा अर्जित किये गए औसत अंकों का अनुपात क्या है?

Options:

1) 3 : 5

2) 5 : 3

3) 6 : 5

4) 5 : 6

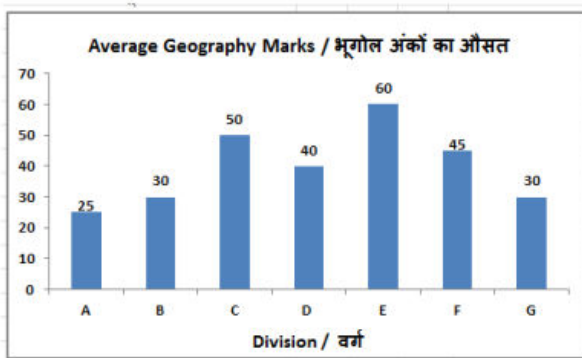
Correct Answer: 5 : 3

Candidate Answer: 5 : 3

QID : 269 -

The bar graph shows average marks scored in a 100 marks Geography exam by students of 7 divisions of Standard X. Study the diagram and answer the following questions.

यह बार ग्राफ कक्षा X के 7 वर्गों के विद्यार्थियों द्वारा 100 अंकों की भूगोल की परीक्षा में प्राप्त किये गये औसत अंक दर्शाता है। इस आरेख का अध्ययन करें और निम्नलिखित प्रश्नों के उत्तर दें।



Average marks of division A were lesser than that of Division C by _____

वर्ग A के औसत अंक वर्ग C के मुकाबले _____ कम थे।

Options:

1) 100%

2) 150%

3) 200%

4) 50%

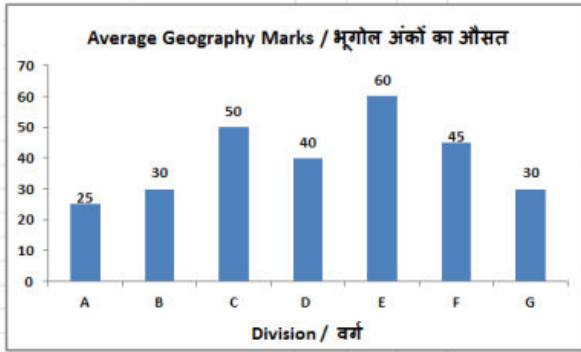
Correct Answer: 50%

Candidate Answer: 50%

QID : 270 -

The bar graph shows average marks scored in a 100 marks Geography exam by students of 7 divisions of Standard X. Study the diagram and answer the following questions.

यह बार ग्राफ कक्षा X के 7 वर्गों के विद्यार्थियों द्वारा 100 अंकों की भूगोल की परीक्षा में प्राप्त किये गये औसत अंक दर्शाता है। इस आरेख का अध्ययन करें और निम्नलिखित प्रश्नों के उत्तर दें।



If all students of Division C got bonus 10 marks for winning the inter-school trophy their new average marks would increase by how much?

यदि वर्ग C के सभी छात्रों को इंटर स्कूल ट्राफी जीतने के लिए 10 अंकों का बोनस मिला तो उनके नए औसत अंक कितने अंकों से बढ़ जायेंगे?

Options:

- 1) 15%
- 2) 25%
- 3) 16.67%
- 4) 20%

Correct Answer: 20%

Candidate Answer: 20%

QID : 271 - The lengths of the two diagonals of a rhombus are 8 cm and 15 cm respectively. Find its area (in cm^2).

एक समचतुर्भुज के दो विकर्णों की लंबाई क्रमशः 8 सें.मी. और 15 सें.मी. है। इसका क्षेत्रफल (वर्ग सें.मी. में) ज्ञात करें।

Options:

- 1) 30
- 2) 120
- 3) 90
- 4) 60

Correct Answer: 60

Candidate Answer: 60

QID : 272 - Find the area (in cm^2) of a semi-circle of radius 35 cm.

35 सें.मी. त्रिज्या वाले एक अर्ध-वृत्त का क्षेत्रफल (वर्ग सें.मी. में) ज्ञात करें।

Options:

- 1) 3850
- 2) 960
- 3) 1920
- 4) 1925

Correct Answer: 1925

Candidate Answer: 1925

QID : 273 - Find the total surface area (in cm^2) of a right circular cone of diameter 14 cm and slant height 10 cm.

14 सें.मी. व्यास और 10 सें.मी. वक्रिय ऊंचाई वाले एक लम्ब वृत्तीय शंकु के सतह का कुल क्षेत्रफल (वर्ग सें.मी. में) ज्ञात करें।

Options:

- 1) 374
- 2) 570
- 3) 428
- 4) 524

Correct Answer: 374

Candidate Answer: 374

QID : 274 - $\triangle DEF$ is right angled at E. If $m\angle D = 45^\circ$, then find the value of $(\tan F + 1/3)$.

$\triangle DEF$ में E पर समकोण है। यदि $m\angle D = 45^\circ$ है, तो $(\tan F + 1/3)$ का मान ज्ञात करें।

Options:

- 1) $4/3$
- 2) $3\sqrt{3}/2$
- 3) $(\sqrt{2}+1)/\sqrt{2}$
- 4) $(3\sqrt{2}+1)/3$

Correct Answer: $4/3$

Candidate Answer: $4/3$

QID : 275 - In $\triangle XYZ$ measure of angle Y is 90° . If $\operatorname{cosec} X = 17/15$, and $XY = 4\text{cm}$, then what is the length (in cm) of side YZ?

$\triangle XYZ$ में कोण Y का माप 90° है। यदि $\operatorname{cosec} X = 17/15$ और $XY = 4$ सें.मी. है, तो भुजा YZ की लंबाई (सें.मी. में) क्या है?

Options:

- 1) 7.5
- 2) 8.5
- 3) 5
- 4) 6

Correct Answer: 7.5

Candidate Answer: 7.5

QID : 276 - Which of the following is **NOT** included in general methodology while assessing the national income?

निम्नलिखित में से किसे आम विधि से राष्ट्रीय आय का आकलन करते समय शामिल नहीं किया जाता है?

Options:

- 1) Pension
पेंशन
- 2) Investment Expenditure
निवेश व्यय
- 3) Value added
मूल्य वृद्धि
- 4) Consumption Expenditure
उपभोग व्यय

Correct Answer: Pension

पेंशन

Candidate Answer: Pension

पेंशन

QID : 277 - In India, the Black Revolution is associated with self dependence in the production of _____.

भारत में, कृष्ण क्रांति _____ के उत्पादन में आत्मनिर्भरता से जुड़ी हुई है।

Options:

- 1) oil seeds production
तिलहन उत्पादन
- 2) crude petroleum
कच्चा पेट्रोलियम
- 3) black box
ब्लैक बॉक्स
- 4) No option is correct.
कोई भी विकल्प सही नहीं है।

Correct Answer: crude petroleum

कच्चा पेट्रोलियम

Candidate Answer: crude petroleum

कच्चा पेट्रोलियम

QID : 278 - Hiuen Tsang visited Kanchipuram, the capital of Pallavas, during the reign which of the following rulers?

निम्नलिखित में से किसके शासन काल में ह्वेनसांग ने पल्लवों की राजधानी कांचीपुरम का भ्रमण किया था?

Options:

- 1) Mahendra Varman I
महेन्द्र वर्मन I
- 2) Mahendra Varman II
महेन्द्र वर्मन II
- 3) Narasimha Varman I
नरसिंह वर्मन I
- 4) Parmeshwar Varman II
परमेश्वर वर्मन II

Correct Answer: Narasimha Varman I

नरसिंह वर्मन I

Candidate Answer: [NOT ANSWERED]

QID : 279 - E.P. Ramaswamy Naicker is associated with which of the following movements?

ई.पी. रामास्वामी नायकर का संबंध निम्न में से किस आंदोलन से जुड़ा है?

Options:

- 1) Self-respect movement
आत्म सम्मान आंदोलन
- 2) Viacom movement
वायकोम आंदोलन
- 3) Justice movement
जस्टिस आंदोलन
- 4) Ezhava movement
एझावा आंदोलन

Correct Answer: Self-respect movement

आत्म सम्मान आंदोलन

Candidate Answer: [NOT ANSWERED]

QID : 280 - World famous Kaieteur Falls is situated on which river?

विश्वप्रसिद्ध काइटेयर जलप्रपात किस नदी पर स्थित है?

Options:

- 1) Potaro
पोटारो
- 2) Mississippi
मिसिसिपी
- 3) St. Lawrence
सेंट लॉरेंस
- 4) Zambezi
जाम्बेजी

Correct Answer: Potaro

पोटारो

Candidate Answer: [NOT ANSWERED]

QID : 281 - Which of the following is **NOT** correctly matched?

निम्नलिखित में से कौन सही सुमेलित नहीं है?

Options:

- 1) Shivasamudram Falls - Kaveri
शिवसमुद्रम प्रपात - कावेरी
- 2) Dhuandhar Falls - Narmada
धुआंधार प्रपात - नर्मदा
- 3) Sahastra dhara Falls - Baldy
सहस्र धारा प्रपात - बाल्दी
- 4) Gerosoppa Falls - Kaveri
गरसोप्पा प्रपात - कावेरी

Correct Answer: Gerosoppa Falls - Kaveri

गरसोप्पा प्रपात - कावेरी

Candidate Answer: [NOT ANSWERED]

QID : 282 - In which year did Vivekananda participate in the Parliament of the World's Religions?

विवेकानंद ने किस वर्ष विश्व धर्म संसद में भाग लिया था?

Options:

- 1) 1893 AD
1893 ई.
- 2) 1895 AD
1895 ई.
- 3) 1897 AD
1897 ई.
- 4) 1899 AD
1899 ई.

Correct Answer: 1893 AD

1893 ई.

Candidate Answer: [NOT ANSWERED]

QID : 283 - What was the theme of the Global Entrepreneurship Summit, 2017 organised in Hyderabad?

हैदराबाद में आयोजित वैश्विक उद्यमिता बैठक, 2017 का विषय क्या था?

Options:

- 1) Development for All
डेवलपमेंट फॉर ऑल
- 2) Women First, Prosperity for All
वीमेन फर्स्ट, प्रोस्पेरिटी फॉर ऑल
- 3) Run for Development
रन फॉर डेवलपमेंट
- 4) Women's World
वीमेन्स वर्ल्ड

Correct Answer: Women First, Prosperity for All
वीमेन फर्स्ट, प्रोस्पेरिटी फॉर ऑल

Candidate Answer: Development for All
डेवलपमेंट फॉर ऑल

QID : 284 - Which of the following films won the best film award in the 48th International Film Festival of India (IFFI), organized from November 20 to 28, 2017 in Panji, Goa?

20 से 28 नवंबर, 2017 तक पणजी, गोवा में आयोजित 48-वें भारतीय अंतरराष्ट्रीय फिल्म महोत्सव (IFFI) में सर्वश्रेष्ठ फिल्म का पुरस्कार निम्नलिखित में से किस फिल्म ने जीता?

Options:

- 1) 120 Beats Per Minute
120 बीट्स पर मिनट
- 2) Take Off
टेक ऑफ
- 3) Angels Wear White
एंजिल्स वीयर व्हाइट
- 4) Dark Skull
डार्क स्कल

Correct Answer: 120 Beats Per Minute
120 बीट्स पर मिनट

Candidate Answer: [NOT ANSWERED]

QID : 285 - How much area of Bhutan is approximately covered with forest?

भूटान का लगभग कितना क्षेत्रफल वनाच्छादित है?

Options:

- 1) 45%
- 2) 61%
- 3) 72%
- 4) 84%

Correct Answer: 72%

Candidate Answer: [NOT ANSWERED]

QID : 286 - The atoms of the elements having same difference between mass number and atomic number are called _____.

तत्वों के परमाणु जिनकी द्रव्यमान संख्या तथा परमाणु संख्या का अंतर समान हो, _____ कहलाते हैं।

Options:

- 1) Isobar
समभारी
- 2) Isotopes
समस्थानिक
- 3) Isotones
समन्यूट्रोनिक
- 4) No option is correct.
कोई विकल्प सही नहीं है।

Correct Answer: Isotones
समन्यूट्रोनिक

Candidate Answer: Isotones
समन्यूट्रोनिक

QID : 287 - Heavy water is mostly used in which of the following?

भारी जल का उपयोग मुख्यतः निम्नलिखित में से किसमें किया जाता है?

Options:

- 1) In fire extinguisher
अग्निशामक में
- 2) In nuclear reactors
नाभिकीय संयंत्रों में
- 3) In washing cloth
कपड़े धोने में
- 4) In both Nuclear reactors and Fire extinguisher
नाभिकीय संयंत्रों तथा अग्निशामक दोनों में

Correct Answer: In nuclear reactors
नाभिकीय संयंत्रों में

Candidate Answer: In both Nuclear reactors and Fire extinguisher
नाभिकीय संयंत्रों तथा अग्निशामक दोनों में

QID : 288 - _____ prevents the Panchayat from doing wrong things like misusing money or favouring certain people.

_____ पंचायत को मनमाने ढंग से काम करने से रोकती है जैसे की पैसों का दुरुपयोग या चुनिंदा लोगों की तरफदारी करना।

Options:

- 1) Gram Sabha
ग्राम सभा
- 2) District Collector
जिला कलेक्टर
- 3) Sarpanch
सरपंच
- 4) Secretary
सचिव

Correct Answer: Gram Sabha
ग्राम सभा

Candidate Answer: District Collector
जिला कलेक्टर

QID : 289 - _____ is a particular area from which all the voters living there choose their representatives.

_____ वह निश्चित क्षेत्र है, जहाँ रहने वाले सभी मतदाता अपना प्रतिनिधि चुनते हैं।

Options:

- 1) Constituency
निर्वाचन क्षेत्र
- 2) Voting Area
मतदान क्षेत्र
- 3) Election Area
चुनाव क्षेत्र
- 4) Legislative Area
विधान क्षेत्र

Correct Answer: Constituency
निर्वाचन क्षेत्र

Candidate Answer: Constituency
निर्वाचन क्षेत्र

QID : 290 -

Match the following.

निम्नलिखित का मिलान कीजिए।

Organism / जीव	Reproduction process / जनन प्रक्रम
I. Leishmania / लेस्मानिया	1. Bud formation / मुकुल निर्माण
II. Yeast / यीस्ट	2. Fragmentation / खंडीकरण
III. Spirogyra / स्पाइरोगाइरा	3. Binary fission / द्विखंडन

Options:

- 1) I - 2, II - 3, III - 1
- 2) I - 1, II - 3, III - 2
- 3) I - 3, II - 1, III - 2
- 4) I - 3, II - 2, III - 1

Correct Answer: I - 3, II - 1, III - 2

Candidate Answer: I - 2, II - 3, III - 1

QID : 291 - What is the shape of the two guard cells which enclose stomata?

रंध्र को घेरने वाली दो रक्षा कोशिकाओं का आकार क्या होता है?

Options:

- 1) Oval
अंडाकार
- 2) Triangular
त्रिभुजाकार
- 3) Rectangular
आयताकार
- 4) Kidney shaped
वृक्क का आकार

Correct Answer: Kidney shaped
वृक्क का आकार

Candidate Answer: Kidney shaped
वृक्क का आकार

QID : 292 - Under the 'National Electric Mobility Mission Plan', the government wants to see 6-7 million electric and hybrid vehicles on Indian roads from year _____ onwards.

'नेशनल इलेक्ट्रिक मोबिलिटी मिशन प्लान' के अंतर्गत सरकार वर्ष _____ से सड़कों पर 6-7 मिलियन इलेक्ट्रिक तथा हाइब्रिड वाहनों को भारतीय सड़कों पर देखना चाहती है।

Options:

- 1) 2022
- 2) 2020
- 3) 2025
- 4) 2019

Correct Answer: 2020

Candidate Answer: 2022

QID : 293 - Which research laboratory has developed an Artificial Intelligent robot named Shelley that writes horror stories?

शेली नामक भूतिया कहानियाँ लिखने वाले कृत्रिम बुद्धिमत्ता रोबोट को किस अनुसंधान प्रयोगशाला ने विकसित किया है?

Options:

- 1) IBM – Media research lab
आईबीएम – मीडिया रिसर्च लैब
- 2) MIT – Media Lab
एमआईटी – मीडिया लैब
- 3) Almaden's Visual Media
अल्माडेन्स विजुअल मीडिया
- 4) Wal-mart Media Lab
वॉल-मार्ट मीडिया लैब

Correct Answer: MIT – Media Lab
एमआईटी – मीडिया लैब

Candidate Answer: [NOT ANSWERED]

QID : 294 - On 9 November 2017, House Building Advance (HBA) rules were revised. Now, under the new rules, the central government employee can borrow a maximum of how much amount from government?

9 नवम्बर 2017 को, हाउस बिल्डिंग एडवॉन्स (एचबीए) नियमों को संशोधित किया गया। अब, नए नियमों के अंतर्गत, केन्द्र सरकार के कर्मचारी सरकार से कितनी राशि तक उधार ले सकते हैं?

Options:

- 1) Rs 50 lakh
50 लाख रु
- 2) Rs 25 lakh
25 लाख रु
- 3) Rs 75 lakh
75 लाख रु
- 4) Rs 15 lakh
15 लाख रु

Correct Answer: Rs 25 lakh
25 लाख रु

Candidate Answer: [NOT ANSWERED]

QID : 295 - The Government of India has approved year 2018 as National year of which nutrient rich crop to boost its production?

भारतीय सरकार ने कौन से पोषक समृद्ध फसल के उत्पादन को बढ़ावा देने के लिए वर्ष 2018 को राष्ट्रीय वर्ष के रूप में मंजूरी दे दी है?

Options:

- 1) Millet
बाजरा
- 2) Wheat
गेहूँ
- 3) Rice
चावल
- 4) Maize
मक्का

Correct Answer: Millet
बाजरा

Candidate Answer: Millet
बाजरा

QID : 296 - Find the acceleration (in m/s^2) of a body which accelerates from 10 m/s to 20 m/s in 4 seconds.

यदि कोई वस्तु 4 सेकंड में 10 मीटर/सेकंड से 20 मीटर/सेकंड तक त्वरित होती है तो इसका त्वरण (मीटर/सेकंड² में) ज्ञात करें।

Options:

- 1) 7.5
- 2) 5
- 3) 15
- 4) 2.5

Correct Answer: 2.5

Candidate Answer: 2.5

QID : 297 - Propagation of sound can be visualised as propagation of _____ variations in the medium.

ध्वनि के संचरण को किसी माध्यम में ___ परिवर्तन के संचरण की तरह देखा जा सकता है।

Options:

- 1) energy
ऊर्जा
- 2) power
शक्ति
- 3) force
बल
- 4) pressure
दाब

Correct Answer: pressure
दाब

Candidate Answer: energy
ऊर्जा

QID : 298 - During the night, the direction of the wind would be from the _____.

रात के समय हवा की दिशा _____ होती है।

Options:

- 1) valleys to the mountains
घाटियों से पर्वतों की ओर
- 2) mountains to the valleys
पर्वतों से घाटियों की ओर
- 3) land to the sea
स्थल से समुद्र की ओर
- 4) sea to the land
समुद्र से स्थल की ओर

Correct Answer: land to the sea
स्थल से समुद्र की ओर

Candidate Answer: [NOT ANSWERED]

QID : 299 - Which of the statements given below are **correct**?

- A) Julio Granda won the Chess 2017 Women's World Chess Championship.
- B) Australia hosted the Tennis 2017 Hopman Cup.
- C) Max Verstappen won the Formula One 2017 Malaysian Grand Prix.

निम्नलिखित में से कौन सा कथन **सत्य** है?

- A) जुलियो ग्रैंडा ने शतरंज 2017 वूमैस वर्ल्ड शतरंज चैम्पियनशिप जीती।
- B) ऑस्ट्रेलिया ने टेनिस 2017 हॉपमैन कप की मेजबानी की।
- C) मैक्स वेस्टापेन ने फ़ॉर्मूला वन 2017 मलेशियन ग्रां प्रि जीती।

Options:

- 1) Only A
केवल A
- 2) Only C
केवल C
- 3) Both B and C
B और C दोनों
- 4) A, B and C
A, B और C

Correct Answer: Both B and C
B और C दोनों

Candidate Answer: [NOT ANSWERED]

QID : 300 - In HTML, _____ attribute specifies a set of controls that are linked so that only one radio button among each set is selected at a time.

एचटीएमएल में, _____ कंट्रोल के सेट को निर्दिष्ट करता है जो आपस में जुड़े होते हैं ताकि एक समय पर प्रत्येक सेट में से एक रेडियो बटन का चयन किया जा सके।

Options:

- 1) TYPE="TEXT"
- 2) TYPE="PASSWORD"
- 3) TYPE="RADIO"
- 4) TYPE="CHECKBOX"

Correct Answer: TYPE="RADIO"

Candidate Answer: TYPE="PASSWORD"