



**Staff Selection Commission**  
(Government Of India)

**REGISTRATION NUMBER : KVCLASSES**

**EXAM DATE : 23-March-2018**

**EXAM NAME : SSC Examination**

**TOTAL MARKS : 200**

**CANDIDATE NAME : KVCLASSES**

**EXAM START TIME : 13:30:00**

**EXAM DURATION : 01:00 Hrs**

**TOTAL NO OF QUESTIONS : 100**

**QID : 101** - In the following question, some part of the sentence may have errors. Find out which part of the sentence has an error and select the appropriate option. If a sentence is free from error, select 'No Error'.

The bell rung (1)/ while I (2)/ was brushing my teeth. (3)/ No error (4)

**Options:**

- 1) 1
- 2) 2
- 3) 3
- 4) 4

**Correct Answer:** 1

**Candidate Answer:** 3

**QID : 102** - In the following question, some part of the sentence may have errors. Find out which part of the sentence has an error and select the appropriate option. If a sentence is free from error, select 'No Error'.

The British Council has brought Museum of the Moon to India (1)/ to mark the last phase of the UK-India Year of Culture (2)/ and 70 year of the British Council in India. (3)/ No error (4)

**Options:**

- 1) 1
- 2) 2
- 3) 3
- 4) 4

**Correct Answer:** 3

**Candidate Answer:** 3

**QID : 103** - In the following question, the sentence given with blank to be filled in with an appropriate word. Select the correct alternative out of the four and indicate it by selecting the appropriate option.

Everyone is mad \_\_\_\_\_ each other.

**Options:**

- 1) to
- 2) for
- 3) towards
- 4) at

**Correct Answer:** at

**Candidate Answer:** at

**QID : 104** - In the following question, the sentence given with blank to be filled in with an appropriate word. Select the correct alternative out of the four and indicate it by selecting the appropriate option.

The mind gives man the ability to understand, think and feel and is the \_\_\_\_\_ of the soul.

**Options:**

- 1) Innovation
- 2) temptation
- 3) invention
- 4) manifestation

**Correct Answer:** manifestation

**Candidate Answer:** Innovation

**QID : 105** - In the following question, out of the given four alternatives, select the one which best expresses the meaning of the given word.

**Devoid**

**Options:**

- 1) Empty
- 2) Complete
- 3) Sufficient
- 4) Happy

**Correct Answer:** Empty

**Candidate Answer:** Complete

**QID : 106** - In the following question, out of the given four alternatives, select the one which best expresses the meaning of the given word.

**Monolithic**

**Options:**

- 1) Huge
- 2) Written
- 3) Minute
- 4) Cramped

**Correct Answer:** Huge

**Candidate Answer:** Cramped

**QID : 107** - In the following question, out of the given four alternatives, select the one which is opposite in meaning of the given word.

**Baffling**

**Options:**

- 1) Puzzling
- 2) Unclear
- 3) Mystifying
- 4) Comprehensible

**Correct Answer:** Comprehensible

**Candidate Answer:** Comprehensible

**QID : 108** - In the following question, out of the given four alternatives, select the one which is opposite in meaning of the given word.

**Scholarly**

**Options:**

- 1) Learned
- 2) Ignorant
- 3) Cultured
- 4) Trained

**Correct Answer:** Ignorant

**Candidate Answer:** Ignorant

**QID : 109** - Rearrange the parts of the sentence in correct order.

**The majority of**

**P :** during the general elections

**Q :** highly educated Indians

**R :** do not vote

**Options:**

- 1) RPQ
- 2) PRQ
- 3) PQR
- 4) QRP

**Correct Answer:** QRP

**Candidate Answer:** QRP

**QID : 110** - A sentence has been given in Active/Passive Voice. Out of the four given alternatives, select the one which best expresses the same sentence in Passive/Active Voice.

**He ate pizza ravenously.**

**Options:**

- 1) Pizza is eaten by him.
- 2) Pizza was eaten ravenously by him.
- 3) Pizza was ate ravenously by him.
- 4) Pizza ate ravenously by him.

**Correct Answer:** Pizza was eaten ravenously by him.

**Candidate Answer:** Pizza was eaten ravenously by him.

**QID : 111** - A sentence has been given in Direct/Indirect Speech. Out of the four given alternatives, select the one which best expresses the same sentence in Indirect/Direct Speech.

**"Is it snowing?" she asked.**

**Options:**

- 1) She asked whether the snow has started.
- 2) She inquired about the snow.
- 3) She ask whether it was snowing.
- 4) She asked if it was snowing.

**Correct Answer:** She asked if it was snowing.

**Candidate Answer:** She ask whether it was snowing.

**QID : 112** - In the following question, a word has been written in four different ways out of which only one is correctly spelt. Select the correctly spelt word.

**Options:**

- 1) Accommodate
- 2) Acommodate
- 3) Accomodate
- 4) Accomeodate

**Correct Answer:** Accommodate

**Candidate Answer:** Accommodate

**QID : 113 - In the following passage, some of the words have been left out. Read the passage carefully and select the correct answer for the given blank out of the four alternatives.**

But there is \_\_\_\_\_ reason to worry that the next Shakespeare or Valmiki is being suppressed by social media. \_\_\_\_\_ is also crowd-sourced even though we just can't see the forest for the trees when so many postings, I mean trees, seem to take birth \_\_\_\_\_ die every minute. I am certain that some great creative personalities will emerge in art, \_\_\_\_\_ and literature from social media. Instant stars are born via viral postings but self-selection \_\_\_\_\_ be the best filter to extract the superstars of the ilk of history's greatest.

**But there is \_\_\_\_\_ reason to worry**

**Options:**

- 1) none
- 2) neither
- 3) nor
- 4) no

**Correct Answer:** no

**Candidate Answer:** no

**QID : 114 - In the following passage, some of the words have been left out. Read the passage carefully and select the correct answer for the given blank out of the four alternatives.**

But there is \_\_\_\_\_ reason to worry that the next Shakespeare or Valmiki is being suppressed by social media. \_\_\_\_\_ is also crowd-sourced even though we just can't see the forest for the trees when so many postings, I mean trees, seem to take birth \_\_\_\_\_ die every minute. I am certain that some great creative personalities will emerge in art, \_\_\_\_\_ and literature from social media. Instant stars are born via viral postings but self-selection \_\_\_\_\_ be the best filter to extract the superstars of the ilk of history's greatest.

**social media. \_\_\_\_\_ is also crowd-sourced**

**Options:**

- 1) Creativity
- 2) Creative
- 3) Creation
- 4) Create

**Correct Answer:** Creativity

**Candidate Answer:** Creativity

**QID : 115 - In the following passage, some of the words have been left out. Read the passage carefully and select the correct answer for the given blank out of the four alternatives.**

But there is \_\_\_\_\_ reason to worry that the next Shakespeare or Valmiki is being suppressed by social media. \_\_\_\_\_ is also crowd-sourced even though we just can't see the forest for the trees when so many postings, I mean trees, seem to take birth \_\_\_\_\_ die every minute. I am certain that some great creative personalities will emerge in art, \_\_\_\_\_ and literature from social media. Instant stars are born via viral postings but self-selection \_\_\_\_\_ be the best filter to extract the superstars of the ilk of history's greatest.

**take birth \_\_\_\_\_ die every minute.**

**Options:**

- 1) nor
- 2) and
- 3) for
- 4) neither

**Correct Answer:** and

**Candidate Answer:** and

**QID : 116 - In the following passage, some of the words have been left out. Read the passage carefully and select the correct answer for the given blank out of the four alternatives.**

But there is \_\_\_\_\_ reason to worry that the next Shakespeare or Valmiki is being suppressed by social media. \_\_\_\_\_ is also crowd-sourced even though we just can't see the forest for the trees when so many postings, I mean trees, seem to take birth \_\_\_\_\_ die every minute. I am certain that some great creative personalities will emerge in art, \_\_\_\_\_ and literature from social media. Instant stars are born via viral postings but self-selection \_\_\_\_\_ be the best filter to extract the superstars of the ilk of history's greatest.

**emerge in art, \_\_\_\_\_ and literature**

**Options:**

- 1) musically
- 2) musician
- 3) musical
- 4) music

**Correct Answer:** music

**Candidate Answer:** music

**QID : 117** - In the following passage, some of the words have been left out. Read the passage carefully and select the correct answer for the given blank out of the four alternatives.

But there is \_\_\_\_\_ reason to worry that the next Shakespeare or Valmiki is being suppressed by social media. \_\_\_\_\_ is also crowd-sourced even though we just can't see the forest for the trees when so many postings, I mean trees, seem to take birth \_\_\_\_\_ die every minute. I am certain that some great creative personalities will emerge in art, \_\_\_\_\_ and literature from social media. Instant stars are born via viral postings but self-selection \_\_\_\_\_ be the best filter to extract the superstars of the ilk of history's greatest.

**self-selection \_\_\_\_\_ be the best**

**Options:**

- 1) since
- 2) until
- 3) may
- 4) whether

**Correct Answer:** may

**Candidate Answer:** may

**QID : 118** - In the following question, out of the four alternatives, select the alternative which best expresses the meaning of the idiom/phrase.

**A cold fish**

**Options:**

- 1) Someone who seems unfriendly and who does not share his feelings.
- 2) Something valuable preserved for a long time.
- 3) A lost business opportunity.
- 4) A fish which can survive in freezing water.

**Correct Answer:** Someone who seems unfriendly and who does not share his feelings.

**Candidate Answer:** Someone who seems unfriendly and who does not share his feelings.

**QID : 119** - In the following question, out of the four alternatives, select the alternative which best expresses the meaning of the idiom/phrase.

**Bend over backwards**

**Options:**

- 1) Use unfair means to succeed.
- 2) Make every effort to achieve something, especially to be fair or helpful.
- 3) Lose self respect to please others.
- 4) To step back from an unpleasant situation.

**Correct Answer:** Make every effort to achieve something, especially to be fair or helpful.

**Candidate Answer:** Use unfair means to succeed.

**QID : 120** - In the following question, out of the four alternatives, select the alternative which is the best substitute of the words/sentence.

**A stately or impressive building housing a tomb or group of tombs**

**Options:**

- 1) Mausoleum
- 2) Shanty
- 3) Hovel
- 4) Tepee

**Correct Answer:** Mausoleum

**Candidate Answer:** Mausoleum

**QID : 121** - In the following question, out of the four alternatives, select the alternative which is the best substitute of the words/sentence.

**Exposed to the possibility of being attacked or harmed, either physically or emotionally**

**Options:**

- 1) Robust
- 2) Tenacious
- 3) Vulnerable
- 4) Stout

**Correct Answer:** Vulnerable

**Candidate Answer:** Robust

**QID : 122** - In the following question, out of the four alternatives, select the alternative which will improve the bracketed part of the sentence. In case no improvement is needed, select "no improvement".

There was hardly any traffic and my father told us the history of the place we (**is trekking**) to.

**Options:**

- 1) was trekking
- 2) were trekking
- 3) were trek
- 4) no improvement

**Correct Answer:** were trekking

**Candidate Answer:** were trekking

**QID : 123** - In the following question, out of the four alternatives, select the alternative which will improve the bracketed part of the sentence. In case no improvement is needed, select "no improvement".

You (**have been**) a very good girl.

**Options:**

- 1) has been
- 2) is been
- 3) have being
- 4) no improvement

**Correct Answer:** no improvement

**Candidate Answer:** have being

**QID : 124** - The question below consists of a set of labelled sentences. Out of the four options given, select the most logical order of the sentences to form a coherent paragraph.

**In those days**

**A-**ambulances available on

**B-**call to ferry patients to hospitals

**C-**there were hardly any

**Options:**

- 1) BCA
- 2) BAC
- 3) ACB
- 4) CAB

**Correct Answer:** CAB

**Candidate Answer:** CAB

**QID : 125** - In the following question, four words are given out of which one word is correctly spelt. Select the correctly spelt word .

**Options:**

- 1) valedection
- 2) velediction
- 3) veledaction
- 4) valediction

**Correct Answer:** valediction

**Candidate Answer:** valediction

**QID : 126** - In the following question, two statements are given each followed by two conclusions I and II. You have to consider the statements to be true even if they seem to be at variance from commonly known facts. You have to decide which of the given conclusions, if any, follows from the given statements.

Statement 1: Medicines today have become an integral part of everyone's life.

Statement 2: People undergo medicinal treatment at any age.

Conclusion1: Lifestyle has made us easy going and less caring for health.

Conclusion2: Medicines have become compulsory part of one's life.

दिए गए प्रश्न में कुछ कथन और उनके बाद उन कथनों पर आधारित कुछ निष्कर्ष दिए गए हैं, हालांकि उनमें सामान्य ज्ञात तथ्यों से भिन्नता हो सकती है। सभी निष्कर्ष पढ़ें और फिर निर्धारित करें कि दिए गए कौन से निष्कर्ष, दिए गए कथनों के आधार पर युक्तिसंगत हैं।

कथन 1: दवाएं आज हर किसी के जीवन का एक अनिवार्य हिस्सा बन गई हैं।

कथन 2: लोगों को किसी भी उम्र में औषधीय उपचार से गुजरना होता है।

निष्कर्ष 1: जीवनशैली ने हमें सुविधाभोगी और सेहत के प्रति लापरवाह बना दिया है।

निष्कर्ष 2: दवाएं जीवन का अनिवार्य हिस्सा बन गई हैं।

**Options:**

- 1) Only conclusion 2 follows  
केवल निष्कर्ष 2 लागू होता है
- 2) Conclusion 1 and 2 both follow  
निष्कर्ष 1 और 2 दोनों लागू होता है
- 3) Neither 1 nor 2 follow  
न निष्कर्ष 1 न ही 2 लागू होता है
- 4) Only conclusion 1 follows  
केवल निष्कर्ष 1 लागू होता है

**Correct Answer:** Only conclusion 2 follows

केवल निष्कर्ष 2 लागू होता है

**Candidate Answer:** Neither 1 nor 2 follow

न निष्कर्ष 1 न ही 2 लागू होता है

**QID : 127** - Select the related word/letters/number from the given alternatives.

Rickets : Bone :: Thalassemia : ?

दिए गए विकल्पों में से संबंधित शब्द/अक्षर/संख्या को चुनिए।

सुखंडी : हड्डी :: थैलेसीमिया : ?

**Options:**

- 1) Brain  
मस्तिष्क
- 2) Kidney  
गुर्दा
- 3) Blood  
रक्त
- 4) Liver  
यकृत

**Correct Answer:** Blood

रक्त

**Candidate Answer:** Blood

रक्त

**QID : 128** - Select the related word/letters/number from the given alternatives.

FG : 13 :: UV : ?

दिए गए विकल्पों में से संबंधित शब्द/अक्षर/संख्या को चुनिए।

FG : 13 :: UV : ?

**Options:**

- 1) 45
- 2) 55
- 3) 21
- 4) 43

**Correct Answer:** 43

**Candidate Answer:** 43

**QID : 129** - Select the related word/letters/number from the given alternatives.

543 : 12 :: 764 : ?

दिए गए विकल्पों में से संबंधित शब्द/अक्षर/संख्या को चुनिए।

543 : 12 :: 764 : ?

**Options:**

- 1) 25
- 2) 17
- 3) 23
- 4) 16

**Correct Answer:** 17

**Candidate Answer:** 17

**QID : 130** - Select the odd word/letters/number/number pair from the given alternatives.

दिए गए विकल्पों में से विषम शब्द/अक्षर/संख्या/संख्या युग्म को चुनिए।

**Options:**

- 1) Light pen  
लाइट पेन
- 2) Monitor  
मॉनिटर
- 3) Printer  
प्रिंटर
- 4) Speaker  
स्पीकर

**Correct Answer:** Light pen

लाइट पेन

**Candidate Answer:** Light pen

लाइट पेन

**QID : 131** - Select the odd word/letters/number/number pair from the given alternatives.

दिए गए विकल्पों में से विषम शब्द/अक्षर/संख्या/संख्या युग्म को चुनिए।

**Options:**

- 1) PT
- 2) DH
- 3) VZ
- 4) KN

**Correct Answer:** KN

**Candidate Answer:** KN

**QID : 132** - Select the odd word/letters/number/number pair from the given alternatives.

दिए गए विकल्पों में से विषम शब्द/अक्षर/संख्या/संख्या युग्म को चुनिए।

**Options:**

- 1) 190
- 2) 149
- 3) 197
- 4) 191

**Correct Answer:** 190

**Candidate Answer:** 190

**QID : 133** - Select the odd word/letters/number/number pair from the given alternatives.

दिए गए विकल्पों में से विषम शब्द/अक्षर/संख्या/संख्या युग्म को चुनिए।

**Options:**

- 1) 363
- 2) 297
- 3) 253
- 4) 487

**Correct Answer:** 487

**Candidate Answer:** 487

**QID : 134** - A series is given with one term missing. Choose the correct alternative from the given ones that will complete the series. Triangle, Square, Pentagon, ?

एक अनुक्रम दिया गया है, जिसमें से एक पद लुप्त है। दिए गए विकल्पों में से वह विकल्प चुनिए, जो अनुक्रम को पूरा करे। त्रिकोण, वर्ग, पंचकोण, ?

**Options:**

- 1) Decagon  
दसभुज
- 2) Heptagon  
सप्तभुज
- 3) Octagon  
अष्टभुज
- 4) Hexagon  
षटभुज

**Correct Answer:** Hexagon

षटभुज

**Candidate Answer:** Hexagon

षटभुज

**QID : 135** - A series is given with one term missing. Choose the correct alternative from the given ones that will complete the series. 200, ?, 50, 25, 12.5

एक अनुक्रम दिया गया है, जिसमें से एक पद लुप्त है। दिए गए विकल्पों में से वह विकल्प चुनिए, जो अनुक्रम को पूरा करे। 200, ?, 50, 25, 12.5

**Options:**

- 1) 123
- 2) 225
- 3) 100
- 4) 198

**Correct Answer:** 100

**Candidate Answer:** 100

**QID : 136** - A series is given with one term missing. Choose the correct alternative from the given ones that will complete the series. 40, 70, 130, 220, ?

एक अनुक्रम दिया गया है, जिसमें से एक पद लुप्त है। दिए गए विकल्पों में से वह विकल्प चुनिए, जो अनुक्रम को पूरा करे। 40, 70, 130, 220, ?

**Options:**

- 1) 425
- 2) 430
- 3) 150
- 4) 340

**Correct Answer:** 340

**Candidate Answer:** 340

**QID : 137** - A series is given with one term missing. Choose the correct alternative from the given ones that will complete the series. DFE, GIH, JLK, ?

एक अनुक्रम दिया गया है, जिसमें से एक पद लुप्त है। दिए गए विकल्पों में से वह विकल्प चुनिए, जो अनुक्रम को पूरा करे। DFE, GIH, JLK, ?

**Options:**

- 1) LTS
- 2) IJK
- 3) MON
- 4) PRS

**Correct Answer:** MON

**Candidate Answer:** MON

**QID : 138** - A series is given with one term missing. Choose the correct alternative from the given ones that will complete the series. IJ, MN, RS, ?

एक अनुक्रम दिया गया है, जिसमें से एक पद लुप्त है। दिए गए विकल्पों में से वह विकल्प चुनिए, जो अनुक्रम को पूरा करे। IJ, MN, RS, ?

**Options:**

- 1) NM
- 2) BA
- 3) OP
- 4) XY

**Correct Answer:** XY**Candidate Answer:** XY**QID : 139** - If the tenth day of a month having 30 days is Tuesday, then what day of the week will the last day of the same month be?

यदि 30 दिन वाले एक महीने का दसवां दिन मंगलवार है, तो सप्ताह का कौन-सा दिन उस महीने का अंतिम दिन होगा?

**Options:**

- 1) Monday  
सोमवार
- 2) Friday  
शुक्रवार
- 3) Wednesday  
बुधवार
- 4) Sunday  
रविवार

**Correct Answer:** Monday

सोमवार

**Candidate Answer:** Friday

शुक्रवार

**QID : 140** - Arrange the given words in the sequence in which they occur in the dictionary.

- i. Derogate
- ii. Dictum
- iii. Dictate
- iv. Dictionary

निम्नलिखित शब्दों को शब्दकोश में आने वाले क्रम के अनुसार लिखें।

- i. Derogate
- ii. Dictum
- iii. Dictate
- iv. Dictionary

**Options:**

- 1) iv, ii, i, iii
- 2) iii, iv, ii, i
- 3) iv, iii, i, ii
- 4) i, iii, iv, ii

**Correct Answer:** i, iii, iv, ii**Candidate Answer:** i, iii, iv, ii**QID : 141** - In a certain code language, "INTERVIEW" is written as "VIEWRINTE" How is "PROTECT" written in that code language?

एक विशिष्ट कोड भाषा में "INTERVIEW" को "VIEWRINTE" लिखा जाता है। इस कोड भाषा में "PROTECT" को किस प्रकार लिखा जाएगा?

**Options:**

- 1) ECTTPRO
- 2) ETCTPRO
- 3) ECTTPOR
- 4) CETTPRO

**Correct Answer:** ECTTPRO**Candidate Answer:** ECTTPRO**QID : 142** -

In the following question, select the missing number from the given series.

निम्नलिखित प्रश्न में दिए गए विकल्पों में से लुप्त अंक ज्ञात कीजिए।

54	9	45
61	12	49
45	10	?



Options:

- 1) 45
- 2) 10
- 3) 35
- 4) 50

Correct Answer: 35

Candidate Answer: 35

QID : 143 - If "A" denotes "added to", "C" denotes "divided by", "D" denotes "multiplied by" and "B" denotes "subtracted from", then  $192 C 2 D 5 B 8 A 6 = ?$

यदि "A" का अर्थ "जोड़" है, "C" का अर्थ "भाग" है, "D" का अर्थ "गुणा" है और "B" का अर्थ "घटाना" है, तो  $192 C 2 D 5 B 8 A 6 = ?$

Options:

- 1) 402
- 2) 495
- 3) 478
- 4) 432

Correct Answer: 478

Candidate Answer: 478

QID : 144 - In the following question, which one set of letters when sequentially placed at the gaps in the given letter series shall complete it ?  
x\_za\_c\_yzab\_

निम्नलिखित प्रश्न में अक्षरों का कौन सा समूह खाली स्थानों पर क्रमवार रखने से दी गई अक्षर श्रृंखला को पूरा करेगा?

x\_za\_c\_yzab\_

Options:

- 1) ybba
- 2) ybxc
- 3) bycx
- 4) cccx

Correct Answer: ybxc

Candidate Answer: ybxc

QID : 145 - A watch shows 4:30 AM. If the minute hand is pointing towards north, then which direction is the hour hand pointing to?

एक घड़ी में सुबह के 4:30 बज रहे हैं। यदि मिनट की सुई उत्तर दिशा की ओर है, तो फिर घंटे की सुई किस दिशा की ओर होगी?

Options:

- 1) East  
पूर्व
- 2) South  
दक्षिण
- 3) North-west  
उत्तर-पश्चिम
- 4) South-west  
दक्षिण-पश्चिम

Correct Answer: North-west

उत्तर-पश्चिम

Candidate Answer: North-west

उत्तर-पश्चिम

QID : 146 -

A word is represented by only one set of numbers as given in any one of the alternatives. The sets of numbers given in the alternatives are represented by two classes of alphabets as shown in the given two matrices. The columns and rows of Matrix-I are numbered from 0 to 4 and that of Matrix-II are numbered from 5 to 9. A letter from these matrices can be represented first by its row and next by its column, for example, 'N' can be represented by 21, 67 etc. and 'R' can be represented by 66, 57 etc. Similarly, you have to identify the set for the word 'HUMP'.

एक शब्द केवल एक संख्या-समूह द्वारा दर्शाया गया है, जैसा कि विकल्पों में से किसी एक में दिया गया है। विकल्पों में दिए गए संख्या-समूह अक्षरों के दो वर्गों द्वारा दर्शाए गए हैं, जैसा कि दिए गए दो आव्यूहों में है। आव्यूह-I के स्तम्भ और पंक्ति की संख्या 0 से 4 और आव्यूह-II की 5 से 9 है। इन आव्यूहों से एक अक्षर को पहले उसकी पंक्ति और बाद में स्तम्भ संख्या द्वारा दर्शाया जा सकता है। उदाहरण के लिए 'N' को 21, 67 आदि द्वारा दर्शाया जा सकता है तथा 'R' को 66, 57 आदि द्वारा दर्शाया जा सकता है। इसी तरह से आपको प्रश्न में दिए शब्द 'HUMP' के लिए समूह को पहचानना है।

**Matrix-I**  
आव्यूह - I

	0	1	2	3	4
0	H	R	A	N	B
1	W	U	N	H	L
2	E	N	S	H	O
3	N	Y	P	O	M
4	H	M	O	F	A

**Matrix-II**  
आव्यूह - II

	5	6	7	8	9
5	H	M	U	I	Q
6	X	R	N	W	P
7	C	S	Y	E	U
8	S	N	M	M	S
9	G	B	E	R	U

Options:

- 1) 23, 57, 41, 88
- 2) 13, 11, 34, 69
- 3) 32, 02, 11, 86
- 4) 00, 99, 87, 33

Correct Answer: 13, 11, 34, 69

Candidate Answer: 13, 11, 34, 69

QID : 147 - Introducing a girl a boy says, "She is the only daughter of the wife of my brother-in-law". How is the girl related to the boy?

एक लड़की का परिचय कराते हुए एक लड़का कहता है, "वह मेरे बहनोई/साले की पत्नी की इकलौती बेटी है।" वह लड़की उस लड़के से कैसे संबंधित है?

Options:

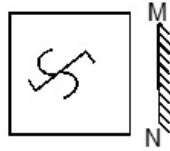
- 1) Sister-in-law  
साली
- 2) Mother  
माँ
- 3) Daughter  
बेटी
- 4) Niece  
भांजी/भतीजी

Correct Answer: Niece  
भांजी/भतीजीCandidate Answer: Niece  
भांजी/भतीजी

QID : 148 -

If a mirror is placed on the line MN, then which of the answer figures is the right image of the given figure?

यदि एक दर्पण को MN रेखा पर रखा जाए, तो दी गई उत्तर आकृतियों में से कौन सी आकृति प्रश्न आकृति की सही प्रतिबिम्ब होगी?



Options:

1)



2)



3)



4)



Correct Answer:



Candidate Answer:

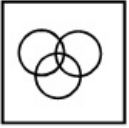


QID : 149 - Identify the diagram that best represents the relationship among the given classes. Ministers, Politicians, Actor

वह आरेख चुनिए जो नीचे दिए गए वर्गों के बीच के संबंध का सही निरूपण करता है। मंत्री, राजनीतिक, अभिनेता

Options:

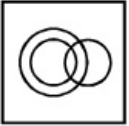
1)




2)



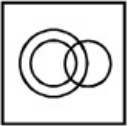
3)



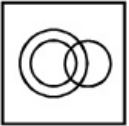
4)



Correct Answer:



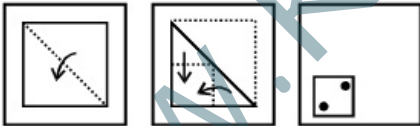
Candidate Answer:



QID : 150 -


A piece of paper is folded and punched as shown below in the question figures. From the given answer figures, indicate how it will appear when opened.

नीचे के प्रश्न आकृतियों में दिखाए अनुसार कागज को मोड़कर छेदने तथा खोलने के बाद वह किस उत्तर आकृति जैसा दिखाई देगा?



Options:

1)



2)



3)



4)



Correct Answer:



Candidate Answer:



QID : 151 -

If  $11a + 11b = 29282$  find the value of  $\frac{a+b}{4}$ .

यदि  $11a + 11b = 29282$  है, तो  $\frac{a+b}{4}$  का मान ज्ञात करें।

Options:

1) 661.5

2) 663.5

3) 665.5

4) 667.5

Correct Answer: 665.5

Candidate Answer: 665.5

QID : 152 - If the sum of two numbers is 25 and their product is 156. Find the larger number.

यदि दो संख्याओं का योग 25 है और उनका गुणन 156 है। बड़ी संख्या ज्ञात करें।

Options:

1) 11

2) 12

3) 13

4) 15

Correct Answer: 13

Candidate Answer: 13

QID : 153 -

If  $16^{2x+8} = 64$ , then What is the value  $x$ ?

यदि  $16^{2x+8} = 64$  है, तो  $x$  का मान ज्ञात करें।

Options:

- 1) -9/4
- 2) 9/4
- 3) -18/4
- 4) 18/4

Correct Answer: -9/4

Candidate Answer: -9/4

QID : 154 -

Find the value of 'x', if  $8^x \times 32^x = 2^{10}$ .'x' का मान ज्ञात करें, यदि  $8^x \times 32^x = 2^{10}$  है।

Options:

- 1) 1/8
- 2) 10/8
- 3) 20/8
- 4) 30/8

Correct Answer: 10/8

Candidate Answer: 10/8

QID : 155 - The radius of the two concentric circles is 5 cm and 13 cm. The tangent to the smaller circle is the chord to the greater circle. What is the length (in cm) of that chord?

दो समान केन्द्र वाले वृत्तों की त्रिज्या 5 सेमी और 13 सेमी है। छोटे वृत्त की स्पर्शिका बड़े वृत्त के लिए जीवा है। उस जीवा की लंबाई (सेमी में) क्या है?

Options:

- 1) 12
- 2) 20
- 3) 22
- 4) 24

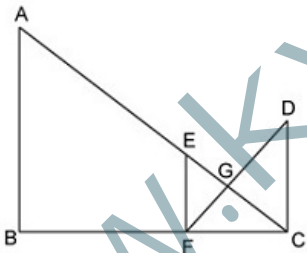
Correct Answer: 24

Candidate Answer: 12

QID : 156 -

AB, EF and CD are the parallel lines as shown in the adjoining figure below. The dimensions of the sides GE = 6 cm, GC = 12 cm and DC = 16 cm. Calculate the length of EF.

AB, EF और CD समानांतर रेखाएं हैं, जो नीचे दिए गए चित्र में दिखाए गए हैं। भुजाओं के आयाम GE = 6 सेमी, GC = 12 सेमी और DC = 16 सेमी है। EF की लंबाई की गणना (सेमी में) करें।



Options:

- 1) 4
- 2) 8
- 3) 10
- 4) 12

Correct Answer: 8

Candidate Answer: 8

QID : 157 - If P is 50% less than Q and Q is 70% more than 640, then what is the value of P?

यदि P, Q से 50% कम है तथा Q, 640 से 70% अधिक है, तो P का मान क्या है?

Options:

- 1) 768
- 2) 544
- 3) 618
- 4) 448

Correct Answer: 544

Candidate Answer: 544

**QID : 158** - If  $x : y = y : z$ , then what is the value of  $x^3 : y^3$ ?

यदि  $x : y = y : z$  है, तो  $x^3 : y^3$  का मान क्या है?

**Options:**

- 1)  $x^2 : yz$
- 2)  $x^3 : y^2 z$
- 3)  $x : z$
- 4)  $z^2 : xy$

**Correct Answer:**  $x^2 : yz$

**Candidate Answer:** [ NOT ANSWERED ]

**QID : 159** - In an amalgam, mercury and silver are in the ratio of 3 : 7. In the second amalgam, the ratio of same elements is 1 : 9. If equal quantities of these two amalgam are mixed to form a new amalgam, then what will be the ratio of both of these elements in the new amalgam?

एक पारद-मिश्रण में, पारा तथा चांदी 3 : 7 के अनुपात में है। दूसरे पारद-मिश्रण में समान तत्वों का अनुपात 1 : 9 है। यदि एक नया पारद-मिश्रण बनाने के लिए इन दो पारद-मिश्रणों की बराबर मात्राओं को मिलाया जाए, तो नए पारद-मिश्रण में इन दोनों तत्वों का अनुपात क्या होगा?

**Options:**

- 1) 1 : 4
- 2) 7 : 81
- 3) 4 : 15
- 4) 2 : 7

**Correct Answer:** 1 : 4

**Candidate Answer:** 1 : 4

**QID : 160** - Average of the weight of 138 students of a school is 45 kg. If the average weight of the boys is 49 kg and the average weight of the girls is 25 kg, then what will be the respective ratio of the total weight of boys and the total weight of girls?

एक विद्यालय के 138 विद्यार्थियों के भार का औसत 45 कि.ग्रा. है। यदि लड़कों का औसत भार 49 कि.ग्रा. तथा लड़कियों का औसत भार 25 कि.ग्रा. है, तो लड़कों के कुल भार तथा लड़कियों के कुल भार का क्रमशः अनुपात क्या है?

**Options:**

- 1) 5 : 43
- 2) 49 : 5
- 3) 3 : 49
- 4) 7 : 1

**Correct Answer:** 49 : 5

**Candidate Answer:** 7 : 1

**QID : 161** - What is the difference (in Rs) between the compound interest (compounded annually) and simple interest for 3 years on a principal of Rs 2500 at the rate of 30% per annum?

2500 रु के मूलधन पर 30% की वार्षिक दर से 3 वर्षों के चक्रवृद्धि ब्याज (वार्षिक संयोजन) तथा साधारण ब्याज के मध्य अंतर (रु में) क्या है?

**Options:**

- 1) 742.5
- 2) 624.5
- 3) 714.5
- 4) 825.25

**Correct Answer:** 742.5

**Candidate Answer:** 742.5

**QID : 162** - A person sells a pen at 15% profit. If he had bought it at 7% less price and sold it for Rs 250 more, then he would have gained 25%. What is the cost price (in Rs) of the pen?

एक व्यक्ति एक कलम को 15% लाभ पर बेचता है। यदि वह उसको 7% कम मूल्य पर खरीदता तथा उसे 250 रु अधिक में बेचता, तो उसे 25% का लाभ होता। कलम का क्रय मूल्य (रु में) क्या है?

**Options:**

- 1) 20000
- 2) 18000
- 3) 25000
- 4) 23000

**Correct Answer:** 20000

**Candidate Answer:** 25000

**QID : 163** - The marked price of a chair is 75% more than its cost price. What maximum discount percentage can be offered by the shopkeeper to sell his chair at no profit or no loss?

एक कुर्सी का अंकित मूल्य, उसके क्रय मूल्य से 75% अधिक है। दुकानदार द्वारा अपनी कुर्सी को न किसी लाभ अथवा न ही किसी हानि पर बेचने के लिए, अधिकतम कितने प्रतिशत की छूट दी जा सकती है?

**Options:**

- 1) 42.85
- 2) 36.58
- 3) 60
- 4) 52

**Correct Answer:** 42.85

**Candidate Answer:** 42.85

**QID : 164** - What is the square root of the sum of first 36 odd natural numbers?

प्रथम 36 विषम प्राकृतिक संख्याओं के योग का वर्गमूल क्या है?

**Options:**

- 1) 6
- 2) 36
- 3) 64
- 4) 72

**Correct Answer:** 36

**Candidate Answer:** 36

**QID : 165** - 21 workers can repair a road in 40 days. If they are joined by 7 more workers, then in how much time (in days) the road can be repaired?

21 श्रमिक एक सड़क की मरम्मत 40 दिन में कर सकते हैं। यदि उनके साथ 7 अन्य श्रमिक जुड़ जाते हैं, तो कितने समय (दिनों में) में सड़क की मरम्मत हो सकती है?

**Options:**

- 1) 27
- 2) 28
- 3) 30
- 4) 32

**Correct Answer:** 30

**Candidate Answer:** 30

**QID : 166** - Two trains are moving towards each other with the speed of 25 km/hr and 83 km/hr respectively. What will be the distance (in metres) between the trains one second before collide?

दो रेलगाड़ियाँ एक दूसरे की तरफ क्रमशः 25 कि.मी./घंटा तथा 83 कि.मी./घंटा की गति से चल रही है। टकराने से एक सेकण्ड पहले रेलगाड़ियों के बीच कितनी दूरी (मीटर में) होगी?

**Options:**

- 1) 32
- 2) 35
- 3) 30
- 4) 40

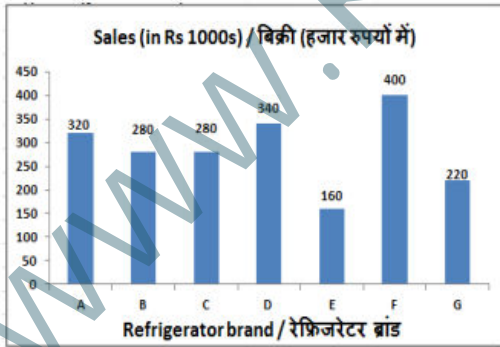
**Correct Answer:** 30

**Candidate Answer:** [ NOT ANSWERED ]

**QID : 167** -

The bar graph shows 1 month's sales figures of different brands of refrigerator of a certain electronics store in Rs 1000s. Study the diagram and answer the following questions.

यह बार ग्राफ़ एक विशिष्ट इलेक्ट्रॉनिक्स स्टोर के रेफ्रिजरेटर के विभिन्न ब्रांडों के 1 महीने की बिक्री के आंकड़े को हजार रुपयों में दर्शाता है। इस आरेख का अध्ययन करें और निम्नलिखित प्रश्नों के उत्तर दें।



Sales of which refrigerator brand were the second highest?

किस रेफ्रिजरेटर के ब्रांड की दूसरी सर्वाधिक बिक्री थी?

**Options:**

- 1) G
- 2) D
- 3) A
- 4) C

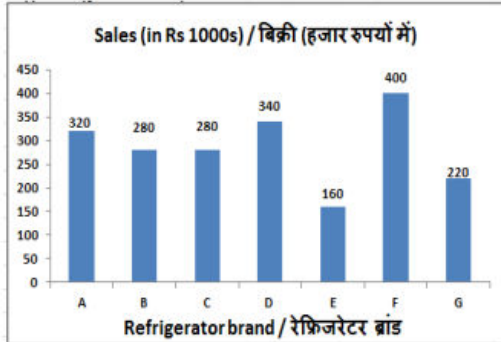
**Correct Answer:** D



QID : 168 -

The bar graph shows 1 month's sales figures of different brands of refrigerator of a certain electronics store in Rs 1000s. Study the diagram and answer the following questions.

यह बार ग्राफ एक विशिष्ट इलेक्ट्रॉनिक्स स्टोर के रेफ्रिजरेटर के विभिन्न ब्रांडों के 1 महीने की बिक्री के आंकड़े को हजार रुपयों में दर्शाता है। इस आरेख का अध्ययन करें और निम्नलिखित प्रश्नों के उत्तर दें।



What is the ratio of sales of brand B to that of brand E?

ब्रांड B और ब्रांड E के बिक्री का अनुपात क्या है?

Options:

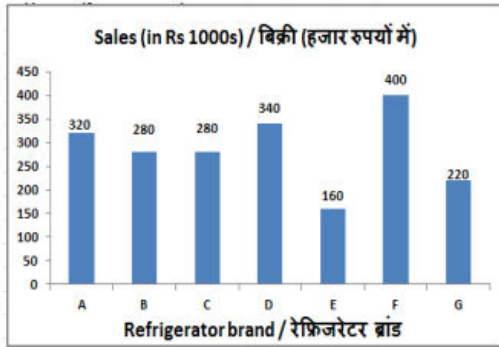
- 1) 7 : 4
- 2) 4 : 7
- 3) 4 : 1
- 4) 1 : 4

Correct Answer: 7 : 4

Candidate Answer: 7 : 4

The bar graph shows 1 month's sales figures of different brands of refrigerator of a certain electronics store in Rs 1000s. Study the diagram and answer the following questions.

यह बार ग्राफ एक विशिष्ट इलेक्ट्रॉनिक्स स्टोर के रेफ्रिजरेटर के विभिन्न ब्रांडों के 1 महीने की बिक्री के आंकड़े को हजार रुपयों में दर्शाता है। इस आरेख का अध्ययन करें और निम्नलिखित प्रश्नों के उत्तर दें।



Sales of brand F was greater than that of brand E by \_\_\_\_\_.

ब्रांड F की बिक्री ब्रांड E की तुलना में \_\_\_\_\_ से अधिक थी।

**Options:**

- 1) 1.5
- 2) 0.5
- 3) 2.4
- 4) 0.6

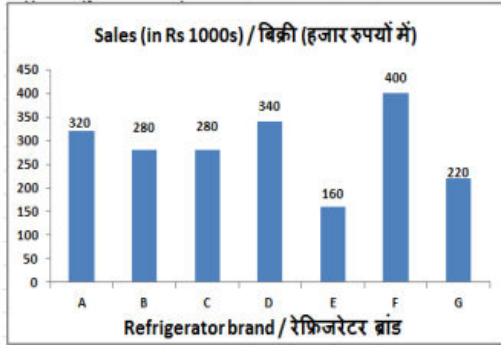
**Correct Answer:** 1.5

**Candidate Answer:** 2.4

QID : 170 -

The bar graph shows 1 month's sales figures of different brands of refrigerator of a certain electronics store in Rs 1000s. Study the diagram and answer the following questions.

यह बार ग्राफ़ एक विशिष्ट इलेक्ट्रॉनिक्स स्टोर के रेफ्रिजरेटर के विभिन्न ब्रांडों के 1 महीने की बिक्री के आंकड़े को हजार रुपयों में दर्शाता है। इस आरेख का अध्ययन करें और निम्नलिखित प्रश्नों के उत्तर दें।



If the sales figures are exclusive of tax then at the rate of 5% tax how much is the tax to be paid (in Rs) on the sales of all the 7 brands of refrigerators?

यदि बिक्री के आंकड़े में टैक्स शामिल नहीं है, तो 5% की दर से सभी 7 ब्रांडों के रेफ्रिजरेटरों की बिक्री पर कितना टैक्स (रुपये में) देना पड़ेगा?

**Options:**

- 1) 10000
- 2) 1000000
- 3) 100000
- 4) 1000

**Correct Answer:** 100000

**Candidate Answer:** 100000

**QID : 171** - The length of the diagonal and the breadth of a rectangle is 29 cm and 20 cm respectively. Calculate its area (in  $\text{cm}^2$ ).

एक आयत के विकर्ण की लंबाई और उस आयत की चौड़ाई क्रमशः 29 सेंटीमीटर और 20 सेंटीमीटर है। इसके क्षेत्रफल (वर्ग सेंटीमीटर में) की गणना करें।

**Options:**

- 1) 840
- 2) 160
- 3) 320
- 4) 420

**Correct Answer:** 420

**Candidate Answer:** 160

**QID : 172** - If the area of a semi-circle is  $308 \text{ cm}^2$ , then find its radius (in cm).

यदि एक अर्धवृत्त का क्षेत्रफल  $308 \text{ वर्ग सेंटीमीटर}$  है, तो इसकी त्रिज्या (सेंटीमीटर में) ज्ञात करें।

**Options:**

- 1) 28
- 2) 10
- 3) 20
- 4) 14

**Correct Answer:** 14

**Candidate Answer:** 14

**QID : 173** - The volume of a hemisphere is  $718.67 \text{ cm}^3$ . Find its diameter (in cm).

एक अर्धगोल का आयतन  $718.67 \text{ घन सेंटीमीटर}$  है। इसका व्यास (सेंटीमीटर में) ज्ञात करें।

**Options:**

- 1) 7
- 2) 28
- 3) 14
- 4) 21

**Correct Answer:** 14**Candidate Answer:** 7**QID : 174** - What is the value of  $(\sec 45^\circ + 1/\sqrt{3})$  ? $(\sec 45^\circ + 1/\sqrt{3})$  का मान क्या है?**Options:**

- 1)  $(2+\sqrt{3})/2\sqrt{3}$
- 2)  $(2+2\sqrt{3})/\sqrt{3}$
- 3)  $(2+2\sqrt{3})/3$
- 4)  $(\sqrt{6}+1)/\sqrt{3}$

**Correct Answer:**  $(\sqrt{6}+1)/\sqrt{3}$ **Candidate Answer:**  $(\sqrt{6}+1)/\sqrt{3}$ **QID : 175** - In  $\triangle ABC$  measure of angle B is  $90^\circ$ . If  $\cos A = 8/17$ , and  $AB = 4$  cm, then what is the length (in cm) of side BC? $\triangle ABC$  में कोण B का माप  $90^\circ$  है। यदि  $\cos A = 8/17$  और  $AB = 4$  सेंटीमीटर है, तो भुजा BC की लंबाई (सेंटीमीटर में) क्या है?**Options:**

- 1) 8.5
- 2) 7.5
- 3) 5
- 4) 6

**Correct Answer:** 7.5**Candidate Answer:** 5**QID : 176** - Most of the sculptures in 'Rani ki Vav' are in devotion to?

रानी की वाव में अधिकांश मूर्तियाँ किसकी भक्ति में हैं?

**Options:**

- 1) Shiva  
शिवा
- 2) Ganesha  
गणेश
- 3) Mahavira  
महावीर
- 4) Vishnu  
विष्णु

**Correct Answer:** Vishnu

विष्णु

**Candidate Answer:** Shiva

शिवा

**QID : 177** - For the movie "Jab We Met", Kareena Kapoor won the Filmfare Award for \_\_\_\_\_.

फिल्म 'जब वी मेट' के लिए करीना कपूर ने \_\_\_\_\_ के लिए फिल्मफेयर पुरस्कार जीता।

**Options:**

- 1) Best Supporting Actress  
सर्वश्रेष्ठ सह नायिका
- 2) Best Female Debut  
सर्वश्रेष्ठ महिला पहली फिल्म
- 3) Lifetime Achievement  
जीवनभर की उपलब्धि
- 4) Best Actress  
सर्वश्रेष्ठ अभिनेत्री

**Correct Answer:** Best Actress

सर्वश्रेष्ठ अभिनेत्री

**Candidate Answer:** Best Actress

सर्वश्रेष्ठ अभिनेत्री

**QID : 178** - Which Vitamin is essential for the absorption of calcium?

कैल्शियम के अवशोषण के लिए कौन सा विटामिन आवश्यक है?

**Options:**

- 1) Vitamin E  
विटामिन ई
- 2) Vitamin A  
विटामिन ए
- 3) Vitamin D  
विटामिन डी
- 4) Vitamin C  
विटामिन सी

**Correct Answer:** Vitamin D  
विटामिन डी

**Candidate Answer:** Vitamin D  
विटामिन डी

**QID : 179** - Cockroaches belongs to the phylum

काकरोच \_\_\_\_\_ प्रजाति के अंतर्गत आता है।

**Options:**

- 1) Echinodermata  
इकाइनोडर्मेटा
- 2) Arthropoda  
आर्थ्रोपोडा
- 3) Platyhelminthes  
प्लैटिहेल्मिन्थेस
- 4) Mollusca  
मोलस्का

**Correct Answer:** Arthropoda  
आर्थ्रोपोडा

**Candidate Answer:** Arthropoda  
आर्थ्रोपोडा

**QID : 180** - Chemical formula of Ozone is \_\_\_\_\_.

ओज़ोन का रासायनिक सूत्र \_\_\_\_\_ है।

**Options:**

- 1)  $H_2O_2$
- 2)  $O_2$
- 3)  $O_3$
- 4)  $NH_3$

**Correct Answer:**  $O_3$

**Candidate Answer:**  $O_3$

**QID : 181** - Atomic number of which of the following elements is greater than that of Barium

निम्नलिखित तत्वों में से किसकी परमाणु संख्या बेरियम की तुलना में अधिक है?

**Options:**

- 1) Iodine  
आयोडीन
- 2) Silver  
सिल्वर
- 3) Bromine  
ब्रोमीन
- 4) Gold  
गोल्ड

**Correct Answer:** Gold  
गोल्ड

**Candidate Answer:** Iodine  
आयोडीन

**QID : 182** - Commonly used abbreviation OS in computer science stands for?

कंप्यूटर विज्ञान में आमतौर पर इस्तेमाल किया जाने वाला संक्षिप्त नाम ओएस क्या है?

**Options:**

- 1) Operating System  
ऑपरेटिंग सिस्टम
- 2) Operating Search  
ऑपरेटिंग सर्च
- 3) Optimization System  
ऑप्टिमाइजेशन सिस्टम
- 4) Optimization Search  
ऑप्टिमाइजेशन सर्च

**Correct Answer:** Operating System  
ऑपरेटिंग सिस्टम

**QID : 183** - Who travelled throughout South Asia to teach Jain philosophy?

जैन तत्वज्ञान सिखाने के लिये संपूर्ण दक्षिण एशिया की यात्रा किसने की थी?

**Options:**

- 1) Siddhartha Gautama  
सिद्धार्थ गौतम
- 2) Mahavira  
महावीर
- 3) Makkhali Gosala  
मक्खाली गौसला
- 4) Chanakya  
चाणक्य

**Correct Answer:** Mahavira

महावीर

**Candidate Answer:** Mahavira

महावीर

**QID : 184** - Mr Shah is willing to spend upto Rs 50 lakh for a German luxury car. Luckily he finds a dealer who says the price of the car is Rs 42 lakh. Mr Shah convinces the dealer to give him 5% discount on the said price. Mr Shah's consumer surplus is

श्रीमान शाह एक जर्मन लक्जरी कार के लिए 50 लाख रु तक खर्च करने के लिए तैयार हैं। सौभाग्य से उन्हें एक डीलर मिलता है जो कहता है कि कार की कीमत 42 लाख रु है। श्रीमान शाह डीलर को 5 % छूट देने के लिए मना लेते हैं। श्रीमान शाह का उपभोक्ता अधिशेष कितना है?

**Options:**

- 1) Rs 8 lakh  
8 लाख रु
- 2) Rs 10.1 lakh  
10.1 लाख रु
- 3) Rs 2.1 lakh  
2.1 लाख रु
- 4) Rs 39.9 lakh  
39.9 लाख रु

**Correct Answer:** Rs 10.1 lakh

10.1 लाख रु

**Candidate Answer:** Rs 10.1 lakh

10.1 लाख रु

**QID : 185** - Customs duty is an instrument of \_\_\_\_\_.

सीमा शुल्क किससे संबंधित है?

**Options:**

- 1) Fiscal policy  
राजकोषीय नीति
- 2) Monetary policy  
मौद्रिक नीति
- 3) Trade policy  
व्यापार नीति
- 4) Revenue policy  
राजस्व नीति

**Correct Answer:** Fiscal policy

राजकोषीय नीति

**Candidate Answer:** Revenue policy

राजस्व नीति

**QID : 186** - Radon is formed in the alpha decay of \_\_\_\_\_.

रेडॉन किसके अल्फा क्षय के कारण उत्पन्न होते हैं?

**Options:**

- 1) radium  
रेडियम
- 2) uranium  
यूरैनियम
- 3) actinium  
एक्टिनियम
- 4) thorium  
थोरियम

**Correct Answer:** radium

रेडियम

**Candidate Answer:** radium

रेडियम

**QID : 187** - The circular depression containing a volcanic vent is called?

एक ज्वालामुखी के मुहाने पर स्थित एक वृत्ताकार दबाव को \_\_\_\_\_ कहा जाता है?

**Options:**

- 1) Crater  
ज्वालामुख
- 2) Smog  
धुंध
- 3) Crust  
पपड़ी
- 4) Delta  
डेल्टा

**Correct Answer:** Crater

ज्वालामुख

**Candidate Answer:** Crust

पपड़ी

**QID : 188** - Beijing is the Capital City of \_\_\_\_\_.

बीजिंग \_\_\_\_\_ की राजधानी है।

**Options:**

- 1) Iraq  
इराक
- 2) Thailand  
थाईलैंड
- 3) China  
चीन
- 4) Russia  
रूस

**Correct Answer:** China

चीन

**Candidate Answer:** Thailand

थाईलैंड

**QID : 189** - Taj Mahal was built in \_\_\_\_\_.

ताजमहल का निर्माण \_\_\_\_\_ हुआ था

**Options:**

- 1) 14th Century  
14 वी शताब्दी में
- 2) 15th Century  
15 वी शताब्दी में
- 3) 16th Century  
16 वी शताब्दी में
- 4) 17th Century  
17 वी शताब्दी में

**Correct Answer:** 17th Century

17 वी शताब्दी में

**Candidate Answer:** 15th Century

15 वी शताब्दी में

**QID : 190** - Sikh Khalsa Army was formed under the rule of \_\_\_\_\_.

सिख खालसा सेना किसके शासन के तहत बनाई गई थी?

**Options:**

- 1) Sher Shah  
शेरशाह
- 2) Rana Pratap  
राणा प्रताप
- 3) Hemu Vikramaditya  
हेमू विक्रमादित्य
- 4) Ranjit Singh  
रणजीत सिंह

**Correct Answer:** Ranjit Singh

रणजीत सिंह

**Candidate Answer:** Ranjit Singh

रणजीत सिंह

**QID : 191** - Telephone was invented in which decade?

टेलीफोन का अविष्कार किस दशक में हुआ था?

**Options:**

- 1) 1670s  
1670s
- 2) 1770s  
1770s
- 3) 1870s  
1870s
- 4) 1970s  
1970s

**Correct Answer:** 1870s

1870s

**Candidate Answer:** 1870s

1870s

**QID : 192** - Which device is used to limit electric current in a circuit?

किसी सर्किट में विद्युत प्रवाह को सीमित करने के लिए कौन सा डिवाइस प्रयोग में लाया जाता है?

**Options:**

- 1) Grid  
ग्रिड
- 2) Capacitor  
संधारित्र
- 3) Fuse  
फ्यूज
- 4) Resistor  
प्रतिरोधक

**Correct Answer:** Fuse

फ्यूज

**Candidate Answer:** Resistor

प्रतिरोधक

**QID : 193** - If a physical quantity has the units - ampere per meter squared, then what are its dimensions?

यदि एक भौतिक मात्रा की इकाई है - एम्पीयर प्रति वर्ग मीटर, तो उसकी विमाएं क्या होंगी?

**Options:**

- 1) [AL<sup>-2</sup>]
- 2) [I M<sup>-2</sup>]
- 3) [I L<sup>-2</sup>]
- 4) [AM<sup>-2</sup>]

**Correct Answer:** [I L<sup>-2</sup>]

**Candidate Answer:** [I L<sup>-2</sup>]

**QID : 194** - Who conducts oath of office to the President of India?

भारत के राष्ट्रपति को कार्यालय की शपथ कौन दिलवाता है?

**Options:**

- 1) The Prime Minister  
प्रधानमंत्री
- 2) The Chief Justice  
मुख्य न्यायाधीश
- 3) Lok Sabha Speaker  
लोकसभा अध्यक्ष
- 4) Rajya Sabha Chairman  
राज्यसभा अध्यक्ष

**Correct Answer:** The Chief Justice

मुख्य न्यायाधीश

**Candidate Answer:** The Chief Justice

मुख्य न्यायाधीश

**QID : 195** - The number of parliamentary seats (Rajya Sabha) of Himachal Pradesh is \_\_\_\_\_.

हिमाचल प्रदेश की संसदीय सीटों (राज्य सभा) की संख्या कितनी है?

**Options:**

- 1) 3
- 2) 5
- 3) 11
- 4) 16

**Correct Answer:** 3

**Candidate Answer:** 11



**QID : 196** - Which sport is called the Gentleman's Game?

किस खेल को जेंटलमैन का खेल कहा जाता है?

**Options:**

- 1) Golf  
गोल्फ
- 2) Baseball  
बेसबॉल
- 3) Cricket  
क्रिकेट
- 4) Snooker  
स्नूकर

**Correct Answer:** Cricket  
क्रिकेट

**Candidate Answer:** Cricket  
क्रिकेट

**QID : 197** - Who is the author of "Rise of Kali: Duryodhana's Mahabharata"?

"राइज़ ऑफ़ कली: दुर्योधनाज महाभारत" के लेखक कौन हैं?

**Options:**

- 1) Anand Neelakantan  
आनंद नीलकंतन
- 2) R. K. Narayan  
आर के नारायण
- 3) Bharath Veeraraghavan  
भरत वीरराघवन
- 4) Sakshama Puri Dhariwal  
सक्षमा पुरी धारीवाल

**Correct Answer:** Anand Neelakantan  
आनंद नीलकंतन

**Candidate Answer:** Sakshama Puri Dhariwal  
सक्षमा पुरी धारीवाल

**QID : 198** - Pyrrhotite is an ore/mineral of

पाइरोटाइट ----- का एक अयस्क / खनिज है।

**Options:**

- 1) Lead  
लेड
- 2) Nickel  
निकल
- 3) Gold  
गोल्ड
- 4) Tin  
टिन

**Correct Answer:** Nickel  
निकल

**Candidate Answer:** Nickel  
निकल

**QID : 199** - Which is the longest canal in the world?

विश्व की सबसे लंबी नहर कौन सी है?

**Options:**

- 1) Panama  
पनामा
- 2) Welland  
वेल्लंड
- 3) Grand Canal  
ग्रैंड केनाल
- 4) Corinth  
कोरिंथ

**Correct Answer:** Grand Canal  
ग्रैंड केनाल

**Candidate Answer:** Grand Canal  
ग्रैंड केनाल

**QID : 200** - In fertilisation of a flower, the fertilised central cell will develop into \_\_\_\_\_ .

एक पुष्प के निषेचन में, निषेचित केंद्रीय कोशिका \_\_\_\_\_ में विकसित होगी।

**Options:**

1) zygote

युग्मनज

2) embryo

भ्रूण

3) endosperm

एण्डोस्पर्म

4) sperm

शुक्राणु

**Correct Answer:** endosperm

एण्डोस्पर्म

**Candidate Answer:** embryo

भ्रूण

[www.kvclasses.com](http://www.kvclasses.com)