



**Staff Selection Commission**  
(Government Of India)

**REGISTRATION NUMBER : KVCLASSES**

**EXAM DATE : 20-March-2018**

**EXAM NAME : SSC Examination**

**TOTAL MARKS : 200**

**CANDIDATE NAME : KVCLASSES**

**EXAM START TIME : 16:30:00**

**EXAM DURATION : 01:00 Hrs**

**TOTAL NO OF QUESTIONS : 100**

**QID : 201** - In the following question, some part of the sentence may have errors. Find out which part of the sentence has an error and select the appropriate option. If a sentence is free from error, select 'No Error'.

Of all the forts (1)/ that I've visit in India, (2)/ Daulatabad Fort is my favourite. (3)/ No error (4)

**Options:**

- 1) 1
- 2) 2
- 3) 3
- 4) 4

**Correct Answer:** 2

**Candidate Answer:** 2

**QID : 202** - In the following question, some part of the sentence may have errors. Find out which part of the sentence has an error and select the appropriate option. If a sentence is free from error, select 'No Error'.

The Bench will also have to say (1)/ whether the laws are really at consonance with (2)/ the basic tenets of the 1960 Act. (3)/ No error (4)

**Options:**

- 1) 1
- 2) 2
- 3) 3
- 4) 4

**Correct Answer:** 2

**Candidate Answer:** 2

**QID : 203** - In the following question, the sentence given with blank to be filled in with an appropriate word. Select the correct alternative out of the four and indicate it by selecting the appropriate option.

**A paragraph \_\_\_\_\_ number of sentences grouped together.**

**Options:**

- 1) could be a
- 2) was a
- 3) would be
- 4) is a

**Correct Answer:** is a

**Candidate Answer:** could be a

**QID : 204** - In the following question, the sentence given with blank to be filled in with an appropriate word. Select the correct alternative out of the four and indicate it by selecting the appropriate option.

**What would you have done if you \_\_\_\_\_ the band?**

**Options:**

- 1) was in
- 2) is in
- 3) will be in
- 4) were in

**Correct Answer:** were in

**Candidate Answer:** were in

**QID : 205** - In the following question, out of the given four alternatives, select the one which best expresses the meaning of the given word.

**Carouse**

**Options:**

- 1) Quaff
- 2) Grieve
- 3) Overlook
- 4) Ignore

**Correct Answer:** Quaff

**Candidate Answer:** Quaff

**QID : 206** - In the following question, out of the given four alternatives, select the one which best expresses the meaning of the given word.

**Clement**

**Options:**

- 1) Irritate
- 2) Cold
- 3) Clingy
- 4) Mild

**Correct Answer:** Mild

**Candidate Answer:** Mild

**QID : 207** - In the following question, out of the given four alternatives, select the one which is opposite in meaning of the given word.

**Artifice**

**Options:**

- 1) Truthfulness
- 2) Trick
- 3) Skill
- 4) Scheme

**Correct Answer:** Truthfulness

**Candidate Answer:** Trick

**QID : 208** - In the following question, out of the given four alternatives, select the one which is opposite in meaning of the given word.

**Extant**

**Options:**

- 1) Extinct
- 2) Present
- 3) Immediate
- 4) Around

**Correct Answer:** Extinct

**Candidate Answer:** Extinct

**QID : 209** - Rearrange the parts of the sentence in correct order.

Sociologists believe

**P** : that the reason why honour killings

**Q** : of the continued rigidity of the caste system

**R** : continue to take place is because

**Options:**

- 1) PRQ
- 2) RQP
- 3) QRP
- 4) PQR

**Correct Answer:** PRQ

**Candidate Answer:** PRQ

**QID : 210** - A sentence has been given in Active/Passive Voice. Out of the four given alternatives, select the one which best expresses the same sentence in Passive/Active Voice.

**The mechanic uses old spare parts for the car.**

**Options:**

- 1) Old spare parts were used for the car by the mechanic.
- 2) Old spare parts was used for the car by the mechanic.
- 3) Old spare parts is being used for the car by the mechanic.
- 4) Old spare parts are used for the car by the mechanic.

**Correct Answer:** Old spare parts are used for the car by the mechanic.

**Candidate Answer:** Old spare parts are used for the car by the mechanic.

**QID : 211** - A sentence has been given in Direct/Indirect Speech. Out of the four given alternatives, select the one which best expresses the same sentence in Indirect/Direct Speech.

**The visitor enquired, "When is the next train?"**

**Options:**

- 1) The visitor enquired about the next train.
- 2) The visitor enquired when the next train was.
- 3) The visitor asked when is the next train.
- 4) The visitor was interested in the next train.

**Correct Answer:** The visitor enquired when the next train was.

**Candidate Answer:** The visitor enquired when the next train was.

**QID : 212** - In the following question, a word has been written in four different ways out of which only one is correctly spelt. Select the correctly spelt word.

**Options:**

- 1) Acquitted
- 2) Acquitted
- 3) Ecquited
- 4) Acqiuited

**Correct Answer:** Acquitted

**Candidate Answer:** Acquitted

**QID : 213 - In the following passage, some of the words have been left out. Read the passage carefully and select the correct answer for the given blank out of the four alternatives.**

Left to itself, then, attention \_\_\_\_\_ obeys natural laws and follows the line of least resistance. \_\_\_\_\_ far the larger portion of our attention is of this type. Thought often runs on hour after hour when we are neither conscious of effort \_\_\_\_\_ struggle to compel us to cease thinking about this thing and begin thinking about \_\_\_\_\_. Indeed, it may be doubted \_\_\_\_\_ this is not the case with some persons for days at a time, instead of hours. The things that present themselves to the mind are the things which occupy it; the character of the thought is determined by the character of our interests.

**Left to itself, then, attention \_\_\_\_\_ obeys natural laws**

**Options:**

- 1) simple
- 2) simply
- 3) simplification
- 4) simplicity

**Correct Answer:** simply

**Candidate Answer:** simply

**QID : 214 - In the following passage, some of the words have been left out. Read the passage carefully and select the correct answer for the given blank out of the four alternatives.**

Left to itself, then, attention \_\_\_\_\_ obeys natural laws and follows the line of least resistance. \_\_\_\_\_ far the larger portion of our attention is of this type. Thought often runs on hour after hour when we are neither conscious of effort \_\_\_\_\_ struggle to compel us to cease thinking about this thing and begin thinking about \_\_\_\_\_. Indeed, it may be doubted \_\_\_\_\_ this is not the case with some persons for days at a time, instead of hours. The things that present themselves to the mind are the things which occupy it; the character of the thought is determined by the character of our interests.

**least resistance. \_\_\_\_\_ far the larger portion**

**Options:**

- 1) By
- 2) with
- 3) Along
- 4) Such

**Correct Answer:** By

**Candidate Answer:** By

**QID : 215 - In the following passage, some of the words have been left out. Read the passage carefully and select the correct answer for the given blank out of the four alternatives.**

Left to itself, then, attention \_\_\_\_\_ obeys natural laws and follows the line of least resistance. \_\_\_\_\_ far the larger portion of our attention is of this type. Thought often runs on hour after hour when we are neither conscious of effort \_\_\_\_\_ struggle to compel us to cease thinking about this thing and begin thinking about \_\_\_\_\_. Indeed, it may be doubted \_\_\_\_\_ this is not the case with some persons for days at a time, instead of hours. The things that present themselves to the mind are the things which occupy it; the character of the thought is determined by the character of our interests.

**conscious of effort \_\_\_\_\_ struggle to compel**

**Options:**

- 1) no
- 2) not
- 3) none
- 4) nor

**Correct Answer:** nor

**Candidate Answer:** nor

**QID : 216 - In the following passage, some of the words have been left out. Read the passage carefully and select the correct answer for the given blank out of the four alternatives.**

Left to itself, then, attention \_\_\_\_\_ obeys natural laws and follows the line of least resistance. \_\_\_\_\_ far the larger portion of our attention is of this type. Thought often runs on hour after hour when we are neither conscious of effort \_\_\_\_\_ struggle to compel us to cease thinking about this thing and begin thinking about \_\_\_\_\_. Indeed, it may be doubted \_\_\_\_\_ this is not the case with some persons for days at a time, instead of hours. The things that present themselves to the mind are the things which occupy it; the character of the thought is determined by the character of our interests.

**thinking about \_\_\_\_\_. Indeed,**

**Options:**

- 1) this
- 2) these
- 3) them
- 4) that

**Correct Answer:** that

**Candidate Answer:** this

**QID : 217 - In the following passage, some of the words have been left out. Read the passage carefully and select the correct answer for the given blank out of the four alternatives.**

Left to itself, then, attention \_\_\_\_\_ obeys natural laws and follows the line of least resistance. \_\_\_\_\_ far the larger portion of our attention is of this type. Thought often runs on hour after hour when we are neither conscious of effort \_\_\_\_\_ struggle to compel us to cease thinking about this thing and begin thinking about \_\_\_\_\_. Indeed, it may be doubted \_\_\_\_\_ this is not the case with some persons for days at a time, instead of hours. The things that present themselves to the mind are the things which occupy it; the character of the thought is determined by the character of our interests.

**be doubted \_\_\_\_\_ this is not the case**

**Options:**

- 1) weather
- 2) wither
- 3) wether
- 4) whether

**Correct Answer:** whether

**Candidate Answer:** whether

**QID : 218 - In the following question, out of the four alternatives, select the alternative which best expresses the meaning of the idiom/phrase.**

**Ring fencing**

**Options:**

- 1) The place where the sport of fencing is played by two opponents.
- 2) Doubly protecting your assets.
- 3) Guarantee that funds allocated for a particular purpose will not be spent on anything else.
- 4) Be ready to fight for what is your right.

**Correct Answer:** Guarantee that funds allocated for a particular purpose will not be spent on anything else.

**Candidate Answer:** The place where the sport of fencing is played by two opponents.

**QID : 219 - In the following question, out of the four alternatives, select the alternative which best expresses the meaning of the idiom/phrase.**

**Keep your chin up**

**Options:**

- 1) Behave arrogantly in front of elders.
- 2) Keep your self respect at all times.
- 3) Remain cheerful in difficult circumstances.
- 4) Pretend to be good when you have an evil plan.

**Correct Answer:** Remain cheerful in difficult circumstances.

**Candidate Answer:** Remain cheerful in difficult circumstances.

**QID : 220 - In the following question, out of the four alternatives, select the alternative which is the best substitute of the words/sentence.**

**Be deprived of property or a right or privilege as a penalty for wrongdoing**

**Options:**

- 1) Forfeited
- 2) Endow
- 3) Render
- 4) Assign

**Correct Answer:** Forfeited

**Candidate Answer:** Render

**QID : 221 - In the following question, out of the four alternatives, select the alternative which is the best substitute of the words/sentence.**

**Absolve someone from blame for a fault or wrongdoing**

**Options:**

- 1) Indict
- 2) Exonerate
- 3) Allege
- 4) Slur

**Correct Answer:** Exonerate

**Candidate Answer:** Exonerate

**QID : 222 - In the following question, out of the four alternatives, select the alternative which will improve the bracketed part of the sentence. In case no improvement is needed, select "no improvement".**

He (**has to develop**) self-confidence, so leave him alone.

**Options:**

- 1) have to develop
- 2) are to develop
- 3) has to developed
- 4) no improvement

**Correct Answer:** no improvement

**Candidate Answer:** no improvement

**QID : 223 - In the following question, out of the four alternatives, select the alternative which will improve the bracketed part of the sentence. In case no improvement is needed, select "no improvement".**

The music (**soothe**) me and I stroll on happily.

**Options:**

- 1) soothing
- 2) soothes
- 3) had soothed
- 4) no improvement

**Correct Answer:** soothes

**Candidate Answer:** soothes

**QID : 224** - The question below consists of a set of labelled sentences. Out of the four options given, select the most logical order of the sentences to form a coherent paragraph.

**There is an**

**A :** a telephonic talk could never replicate

**B :** instant rapport in the written

**C :** communication which the printed message or

**Options:**

- 1) BAC
- 2) ACB
- 3) ABC
- 4) BCA

**Correct Answer:** BCA

**Candidate Answer:** BCA

**QID : 225** - In the following question, four words are given out of which one word is correctly spelt. Select the correctly spelt word.

**Options:**

- 1) bifurckated
- 2) biffurcated
- 3) biffurckated
- 4) bifurcated

**Correct Answer:** bifurcated

**Candidate Answer:** bifurcated

**QID : 226** - In the following question, select the related word pair from the given alternatives.

**Saw : Carpenter :: ? : ?**

निम्नलिखित प्रश्न में दिए गए विकल्पों में से संबंधित शब्द युग्म को चुनिए।

**आरा : बढ़ई :: ? : ?**

**Options:**

- 1) Pen : Soldier  
कलम : सैनिक
- 2) Sword : Sculptor  
तलवार : मूर्तिकार
- 3) Scalpel : Plough  
क्षुरिका : हल
- 4) Axe : Woodcutter  
कुल्हाड़ी : लकड़हारा

**Correct Answer:** Axe : Woodcutter

**Candidate Answer:** लकड़हारा

**Candidate Answer:** Axe : Woodcutter

**Candidate Answer:** लकड़हारा

**QID : 227** - In the following question, select the related number pair from the given alternatives.

**69 : 87 :: ? : ?**

निम्नलिखित प्रश्न में दिए गए विकल्पों में से संबंधित संख्या युग्म को चुनिए।

**69 : 87 :: ? : ?**

**Options:**

- 1) 77 : 97
- 2) 117 : 135
- 3) 95 : 107
- 4) 121 : 145

**Correct Answer:** 117 : 135

**Candidate Answer:** 117 : 135

**QID : 228** - In the following question, select the related letter pair from the given alternatives.

**SQM : RPL :: ? : ?**

निम्नलिखित प्रश्न में दिए गए विकल्पों में से संबंधित अक्षर युग्म को चुनिए।

**SQM : RPL :: ? : ?**

**Options:**

- 1) KCN : JBO
- 2) DQA : CPB
- 3) BSU : ART
- 4) PYC : OXD

**Correct Answer:** BSU : ART

**Candidate Answer:** BSU : ART

**QID : 229** - In the following question, select the odd word from the given alternatives.

निम्नलिखित प्रश्न में दिए गए विकल्पों में से विषम शब्द को चुनिए।

**Options:**

- 1) Red  
लाल
- 2) Green  
हरा
- 3) White  
सफेद
- 4) Painting  
चित्रकला

**Correct Answer:** Painting

चित्रकला

**Candidate Answer:** Painting

चित्रकला

**QID : 230** - In the following question, four number pairs are given. The number on left side of (-) is related to the number on the right side of (-) with some Logic/Rule/Relation. Three are similar on basis of same Logic/Rule/Relation. Select the odd one out from the

नीचे दिए गए प्रश्न में, चार संख्या युग्म दिए गए हैं। (-) के बायीं ओर दी संख्या (-) के दायीं ओर दी गई संख्या से तर्क/नियम से सम्बंधित है। तीन उसी एक तर्क/नियम के आधार पर समान हैं। दिए गए विकल्पों में से भिन्न को चुनिए।

**Options:**

- 1) 16 - 32
- 2) 24 - 48
- 3) 36 - 72
- 4) 32 - 66

**Correct Answer:** 32 - 66

**Candidate Answer:** 32 - 66

**QID : 231** - In the following question, select the odd letter/letters from the given alternatives.

निम्नलिखित प्रश्न में दिए गए विकल्पों में से विषम अक्षर/अक्षरों को चुनिए।

**Options:**

- 1) GEC
- 2) NLJ
- 3) OMK
- 4) YWN

**Correct Answer:** YWN

**Candidate Answer:** YWN

**QID : 232** - Arrange the given words in the sequence in which they occur in the dictionary.

1. Clump
2. Clown
3. Climax
4. Clumsy
5. Climb

निम्नलिखित शब्दों को शब्दकोश में आने वाले क्रम के अनुसार लिखें।

1. Clump
2. Clown
3. Climax
4. Clumsy
5. Climb

**Options:**

- 1) 32541
- 2) 41523
- 3) 35214
- 4) 45213

**Correct Answer:** 35214

**Candidate Answer:** 35214



**Options:**

- 1) 8
- 2) 25
- 3) 14
- 4) 21

**Correct Answer:** 8

**Candidate Answer:** 8

**QID : 239** - The following equation is incorrect. Which two signs should be interchanged to correct the equation?

$$32 \div 16 - 5 \times 8 + 2 = 13$$

निम्नलिखित समीकरण गलत है। इस समीकरण को सही करने के लिए किन दो चिन्हों को आपस में अदला-बदली करना चाहिए?

$$32 \div 16 - 5 \times 8 + 2 = 13$$

**Options:**

- 1) + and  $\div$   
+ और  $\div$
- 2) + and  $\times$   
+ और  $\times$
- 3) - and +  
- और +
- 4)  $\div$  and  $\times$   
 $\div$  और  $\times$

**Correct Answer:** + and  $\times$

+ और  $\times$

**Candidate Answer:** + and  $\times$

+ और  $\times$

**QID : 240** - If  $6@16 = 11$ ,  $2@14 = 8$  and  $8@8 = 8$ , then find the value of  $10@18 = ?$

यदि  $6@16 = 11$ ,  $2@14 = 8$  और  $8@8 = 8$ , तो  $10@18$  का मान ज्ञात करें।

**Options:**

- 1) 4
- 2) 6
- 3) 12
- 4) 14

**Correct Answer:** 14

**Candidate Answer:** 14

**QID : 241** - Which of the following terms follows the trend of the given list?

BAAAAABA, BAAAABAA, BAAABAAA, BAABAAAA, BABAAAA, \_\_\_\_\_.

निम्नलिखित में से कौन सा पद दी गयी सूची के क्रम के अनुसार है?

BAAAAABA, BAAAABAA, BAAABAAA, BAABAAAA, BABAAAA, \_\_\_\_\_.

**Options:**

- 1) BAAAAAAB
- 2) BAAAAABA
- 3) BBAAAAAA
- 4) BAAAABAA

**Correct Answer:** BBAAAAAA

**Candidate Answer:** BBAAAAAA

**QID : 242** - An old man starts his daily walking routine. He walks 2 km East, then turns North and walks 1 km, then turns West and walks 2 km, then turns to his right and walks 1.5 kms. Where is he now with respect to the starting position?

एक वृद्ध आदमी अपनी दैनिक सैर शुरू करता है। वह पूर्व में 2 कि.मी. चलता है, फिर उत्तर की तरफ मुड़कर आगे 1 कि.मी. चलता है, फिर पश्चिम की तरफ मुड़ जाता है और आगे 2 कि.मी. की दूरी तक चलता है, फिर अपने दाहिनी ओर मुड़ जाता है और आगे 1.5 कि.मी. तक चलता है। अपने प्रारंभिक स्थिति के संबंध में अब वह कहाँ है?

**Options:**

- 1) 0.5 km North  
0.5 कि.मी. उत्तर
- 2) 2.5 km South  
2.5 कि.मी. दक्षिण
- 3) 0.5 km South  
0.5 कि.मी. दक्षिण
- 4) 2.5 km North  
2.5 कि.मी. उत्तर

**Correct Answer:** 2.5 km North

2.5 कि.मी. उत्तर

**Candidate Answer:** 2.5 km North

2.5 कि.मी. उत्तर



**QID : 243** - In the question two statements are given, followed by two conclusions, I and II. You have to consider the statements to be true even if it seems to be at variance from commonly known facts. You have to decide which of the given conclusions, if any, follows from the given statements.

**Statement I:** No taps are nozzles

**Statement II:** Some valves are taps

**Conclusion I:** All nozzles are valves

**Conclusion II:** All valves are nozzles

प्रश्न में दो कथन दिये गये हैं जिसके आगे दो निष्कर्ष I और II निकाले गये हैं। आपको मानना है कि दोनों कथन सत्य है चाहे वह सामान्यतः ज्ञात तथ्यों से भिन्न प्रतीत होते हों। आपको निर्णय करना है की दिए गए निष्कर्षों में से कौन-सा/कौन-से निश्चित रूप से कथन द्वारा सही निकाला जा सकता है/सकते हैं, यदि कोई हो।

**कथन I:** कोई भी नल नलिका नहीं होते हैं

**कथन II:** कुछ वाल्व नल होते हैं

**निष्कर्ष I:** सभी नलिका वाल्व होती हैं

**निष्कर्ष II:** सभी वाल्व नलिका होती हैं

**Options:**

1) Only conclusion I follows

केवल निष्कर्ष I सही है

2) Only conclusion II follows

केवल निष्कर्ष II सही है

3) Both conclusions I and II follow

दोनों निष्कर्ष I और II सही है

4) Neither conclusion I nor conclusion II follows

ना तो निष्कर्ष I सही है ना ही निष्कर्ष II

**Correct Answer:** Neither conclusion I nor conclusion II follows

ना तो निष्कर्ष I सही है ना ही निष्कर्ष II

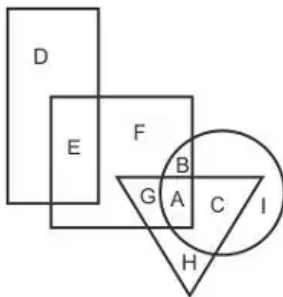
**Candidate Answer:** Neither conclusion I nor conclusion II follows

ना तो निष्कर्ष I सही है ना ही निष्कर्ष II

**QID : 244 -**

In the following figure, rectangle represents Hairstylists, circle represents Racers, triangle represents Divers and square represents Fathers. Which set of letters represents Fathers who are Divers?

निम्नलिखित आकृति में, आयत हेयर स्टाइलिस्ट को प्रदर्शित करता है, वृत्त रेसर्स को प्रदर्शित करता है, त्रिभुज गोताखोरों को प्रदर्शित करता है और वर्ग पिताओं को प्रदर्शित करता है। अक्षरों का कौन सा समूह उन पिताओं को प्रदर्शित करता है जो गोताखोर है?



**Options:**

1) BA

2) AC

3) HA

4) GA

**Correct Answer:** GA

**Candidate Answer:** GA

**QID : 245** - A series is given with one term missing. Select the correct alternative from the given ones that will complete the series.

**RFT, QDQ, PBN, OZK, ?**

एक अनुक्रम दिया गया है, जिसमें से एक पद लुप्त है। दिए गए विकल्पों में से वह सही विकल्प चुनिए, जो अनुक्रम को पूरा करे।

**RFT, QDQ, PBN, OZK, ?**

**Options:**

- 1) LVF
- 2) KUE
- 3) MWG
- 4) NXH

**Correct Answer:** NXH

**Candidate Answer:** NXH

**QID : 246** - In the following question, select the missing number from the given series.

**52, 41, 32, 25, ?, 17**

निम्नलिखित प्रश्न में दिए गए विकल्पों में से लुप्त अंक ज्ञात कीजिए।

**52, 41, 32, 25, ?, 17**

**Options:**

- 1) 21
- 2) 20
- 3) 18
- 4) 19

**Correct Answer:** 20

**Candidate Answer:** 20

**QID : 247** - In the following question, four groups of three numbers are given. In each group the second and third number are related to the first number by a Logic/Rule/Relation. Three are similar on basis of same Logic/Rule/Relation. Select the odd one out from the given alternatives.

नीचे दिए गए प्रश्न में, तीन संख्याओं के चार समूह दिए गए हैं। प्रत्येक समूह में दूसरी तथा तीसरी संख्या पहली संख्या से किसी एक तर्क/नियम से सम्बंधित है। तीन उसी एक तर्क/नियम के आधार पर समान हैं। दिए गए विकल्पों में से भिन्न को चुनिए।

**Options:**

- 1) (6, 19, 30)
- 2) (9, 29, 45)
- 3) (11, 34, 55)
- 4) (13, 40, 65)

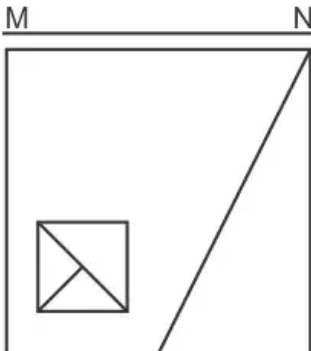
**Correct Answer:** (9, 29, 45)

**Candidate Answer:** (9, 29, 45)

**QID : 248** -

If a mirror is placed on the line MN, then which of the answer figures is the right image of the given figure?

यदि एक दर्पण को MN रेखा पर रखा जाए तो दी गयी उत्तर आकृतियों में से कौन-सी आकृति प्रश्न आकृति का सही प्रतिबिम्ब होगी?



Options:

1)



2)



3)



4)



Correct Answer:



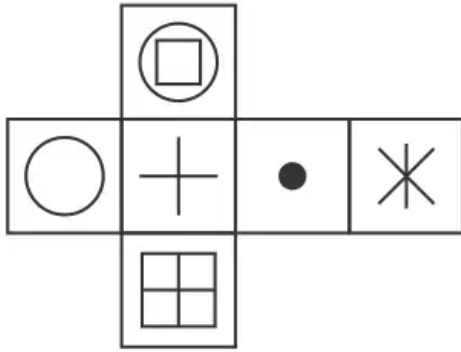
Candidate Answer:



QID : 249 -

Which of the following cube in the answer figure cannot be made based on the unfolded cube in the question figure?

निम्नलिखित उत्तर आकृति में से कौन सा घन दिए गए प्रश्न आकृति में से खुले घन से बनाया नहीं जा सकता?

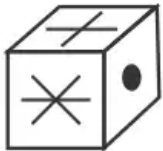


Options:

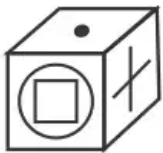
1)



2)



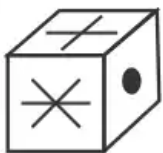
3)



4)



Correct Answer:



Candidate Answer: [ NOT ANSWERED ]

**QID : 250 -**

A word is represented by only one set of numbers as given in any one of the alternatives. The sets of numbers given in the alternatives are represented by two classes of alphabets as shown in the given two matrices. The columns and rows of Matrix-I are numbered from 0 to 4 and that of Matrix-II are numbered from 5 to 9. A letter from these matrices can be represented first by its row and next by its column, for example 'C' can be represented by 23, 40 etc and 'X' can be represented by 66, 96 etc. Similarly, you have to identify the set for the word 'DUNG'.

एक शब्द केवल एक संख्या-समूह द्वारा दर्शाया गया है, जैसा कि विकल्पों में से किसी एक में दिया गया है। विकल्पों में दिए गए संख्या-समूह अक्षरों के दो वर्गों द्वारा दर्शाए गए हैं, जैसा कि दिए गए दो आव्यूहों में है। आव्यूह-I के स्तम्भ और पंक्ति की संख्या 0 से 4 और आव्यूह-II की 5 से 9 है। इन आव्यूहों से एक अक्षर को पहले उसकी पंक्ति और बाद में स्तम्भ संख्या द्वारा दर्शाया जा सकता है। उदाहरण के लिए 'C' को 23, 40 आदि द्वारा दर्शाया जा सकता है तथा 'X' को 66, 96 आदि द्वारा दर्शाया जा सकता है। इसी तरह से आपको प्रश्न में दिए शब्द 'DUNG' के लिए समूह को पहचानना है।

Matrix I आव्यूह - I						Matrix II आव्यूह - II					
	0	1	2	3	4		5	6	7	8	9
0	M	A	E	L	M	5	V	Y	U	S	S
1	C	G	M	J	K	6	P	X	Q	O	R
2	F	B	I	C	F	7	N	V	V	O	Q
3	F	A	L	J	I	8	S	Q	U	T	U
4	C	L	D	K	F	9	Q	X	S	V	Z

**Options:**

- 1) 31,76,24,96
- 2) 20,59,41,88
- 3) 33,68,31,75
- 4) 42,57,75,11

**Correct Answer:** 42,57,75,11**Candidate Answer:** 42,57,75,11**QID : 251 -**

Find the unit place digit in the expression  $(159)^{144} + (114)^{123} - (110)^{510} + (213)^{25}$ .

व्यंजक  $(159)^{144} + (114)^{123} - (110)^{510} + (213)^{25}$  में इकाई स्थान अंक ज्ञात करें।

**Options:**

- 1) 3
- 2) 4
- 3) 7
- 4) 8

**Correct Answer:** 8**Candidate Answer:** 8**QID : 252 -**

If  $\frac{256}{0.256} = \frac{25.6}{x}$  then what will be the value of x?

यदि  $\frac{256}{0.256} = \frac{25.6}{x}$  है, तो x का मान क्या होगा?

**Options:**

- 1) 2.56
- 2) 25.6
- 3) 0.256
- 4) 0.0256

**Correct Answer:** 0.0256



**Options:**

- 1) Right angled triangle  
समकोण त्रिभुज
- 2) Obtuse angled triangle  
अधिक कोण त्रिभुज
- 3) Acute angled triangle  
न्यून कोण त्रिभुज
- 4) None of these  
इनमें से कोई नहीं

**Correct Answer:** Acute angled triangle  
न्यून कोण त्रिभुज

**Candidate Answer:** Acute angled triangle  
न्यून कोण त्रिभुज

**QID : 257** - Weight of Ayush and Abhishek are in the ratio of 6 : 11. Abhishek's weight increases by 25% and total weight of Ayush and Abhishek both increases by 40%. If total weight becomes 119 kg, then what is the weight (in kg) of Ayush after the increment?

आयुष तथा अभिषेक के भार 6 : 11 के अनुपात में है। अभिषेक का भार 25% से बढ़ता है एवं आयुष तथा अभिषेक दोनों का कुल भार 40% से बढ़ता है। यदि कुल भार 119 कि.ग्रा. हो जाता है, तो बढ़ने के पश्चात आयुष का भार (कि.ग्रा. में) क्या है?

**Options:**

- 1) 45.5
- 2) 30
- 3) 50.25
- 4) 47.75

**Correct Answer:** 50.25

**Candidate Answer:** [ NOT ANSWERED ]

**QID : 258** - A box consist of 5 rupees, 2 rupees and 1 rupee coins and their value are in the ratio of 15 : 4 : 2 respectively. If there are total 112 coins, then how many 2 rupees coins are there in the box?

एक डिब्बे में 5 रुपये, 2 रुपये तथा 1 रुपये के सिक्के हैं तथा उनके मूल्य क्रमशः 15 : 4 : 2 के अनुपात में है। यदि सिक्कों की कुल संख्या 112 है, तो डिब्बे में 2 रुपये के कितने सिक्के हैं?

**Options:**

- 1) 32
- 2) 48
- 3) 64
- 4) 24

**Correct Answer:** 32

**Candidate Answer:** 32

**QID : 259** - A mixture contains liquid A and liquid B in the ratio of 5 : 4. If 2 litres of liquid B is added to it, then the ratio of liquid A and liquid B becomes 7 : 6. What is the quantity (in litres) of liquid A in the mixture?

एक मिश्रण में तरल A तथा तरल B, 5 : 4 के अनुपात में है। यदि उसमें 2 लीटर तरल B मिलाया जाए, तो तरल A तथा तरल B का अनुपात 7 : 6 हो जाता है। मिश्रण में तरल A की मात्रा (लीटर में) क्या है?

**Options:**

- 1) 32
- 2) 35
- 3) 40
- 4) 42

**Correct Answer:** 35

**Candidate Answer:** 35

**QID : 260** - Average of 10 numbers is 14. If each number is multiplied by 6, then what will be the new average?

10 संख्याओं का औसत 14 है। यदि प्रत्येक संख्या को 6 से गुणा किया जाए, तो नया औसत क्या होगा?

**Options:**

- 1) 70
- 2) 84
- 3) 56
- 4) 92

**Correct Answer:** 84

**Candidate Answer:** 84

**QID : 261** - The simple interest on a sum is 5/9 of the principal for 25 years. What is the rate (in percentage) of interest per annum?

एक राशि पर 25 वर्षों का साधारण ब्याज मूलधन का 5/9 है। वार्षिक ब्याज दर (प्रतिशत में) क्या है?

**Options:**

- 1) 25/9
- 2) 9/2
- 3) 20/9
- 4) 15/4

**Correct Answer:** 20/9

**Candidate Answer:** 20/9

**QID : 262** - If selling price and cost price of an article are Rs 684.25 and Rs 595 respectively, then what is the profit percentage?

यदि एक वस्तु का विक्रय मूल्य तथा क्रय मूल्य क्रमशः 684.25 रु तथा 595 रु है, तो लाभ प्रतिशत क्या है?

**Options:**

1) 15

2) 10

3) 12.5

4) 20

**Correct Answer:** 15

**Candidate Answer:** 15

**QID : 263** - The marked price of a book is Rs 4200. The shopkeeper gives two successive discounts of 25% and  $y\%$  to the customer. If the customer pays Rs 2898 for the book, then what is the value (in percentage) of  $y$ ?

एक पुस्तक का अंकित मूल्य 4200 रु है। दुकानदार ग्राहक को 25% तथा  $y\%$  की दो क्रमिक छूट देता है। यदि ग्राहक पुस्तक के लिए 2898 रु चूकाता है, तो  $y$  का मान (प्रतिशत में) क्या है?

**Options:**

1) 7

2) 8

3) 6

4) 5

**Correct Answer:** 8

**Candidate Answer:** 8

**QID : 264** - What is the value of  $[(\sqrt{529}) + (\sqrt{5.29}) + (\sqrt{0.0529})]$ ?

$[(\sqrt{529}) + (\sqrt{5.29}) + (\sqrt{0.0529})]$  का मान क्या है?

**Options:**

1) 25.323

2) 25.53

3) 23.253

4) 23.53

**Correct Answer:** 25.53

**Candidate Answer:** 25.53

**QID : 265** - P and Q undertook to do a work for Rs 7200. P alone could do it in 20 days and Q alone in 12 days. With the assistance of R they finished the work in 5 days. What is the share (in Rs) of R?

P तथा Q ने किसी कार्य को करने का 7200 रु का ठेका लिया। P अकेला इस कार्य को 20 दिन में कर सकता है तथा Q अकेला इस कार्य को 12 दिन में कर सकता है। R की सहायता से उन्होंने यह कार्य 5 दिन में पूरा कर लिया। R का हिस्सा (रु में) क्या है?

**Options:**

1) 1800

2) 2400

3) 2800

4) 2600

**Correct Answer:** 2400

**Candidate Answer:** [ NOT ANSWERED ]

**QID : 266** - A boat covers 143 km upstream in 13 hours and the same distance downstream in 11 hours. What is the speed (in km/hr) of the boat in still water?

एक नाव 13 घंटे में 143 कि.मी. धारा के प्रतिकूल तथा 11 घंटे में समान दूरी धारा के अनूकूल तय करती है। स्थिर जल में नाव की गति (कि.मी./घंटा में) क्या है?

**Options:**

1) 10

2) 12

3) 14

4) 8

**Correct Answer:** 12

**Candidate Answer:** 12



QID : 267 -

The line graph shows the production of steel of a certain country. Study the diagram and answer the following questions.

यह रेखा ग्राफ एक विशिष्ट देश के इस्पात के उत्पादन को दर्शाता है। इस आरेख का अध्ययन करें और निम्नलिखित प्रश्नों के उत्तर दें।



In which year was the steel production lesser than that of the previous year?

पिछले वर्ष की तुलना में किस वर्ष में इस्पात का उत्पादन कम था?

**Options:**

1) 2013

2) 2014

3) 2012

4) 2016

**Correct Answer:** 2013

**Candidate Answer:** 2013

QID : 268 -

The line graph shows the production of steel of a certain country. Study the diagram and answer the following questions.

यह रेखा ग्राफ एक विशिष्ट देश के इस्पात के उत्पादन को दर्शाता है। इस आरेख का अध्ययन करें और निम्नलिखित प्रश्नों के उत्तर दें।



What was the difference (in million tonnes) in the steel production between the years 2011 and 2015?

2011 और 2015 के बीच हुए इस्पात उत्पादन में कितना अंतर (दस लाख टन में) था?

**Options:**

- 1) 10
- 2) 5
- 3) 15
- 4) 20

**Correct Answer:** 10

**Candidate Answer:** 10

QID : 269 -

The line graph shows the production of steel of a certain country. Study the diagram and answer the following questions.

यह रेखा ग्राफ एक विशिष्ट देश के इस्पात के उत्पादन को दर्शाता है। इस आरेख का अध्ययन करें और निम्नलिखित प्रश्नों के उत्तर दें।



The steel production in 2012 were greater than that in 2015 by \_\_\_\_\_.

2015 की तुलना में 2012 में इस्पात का उत्पादन \_\_\_\_\_ से अधिक था।

**Options:**

- 1) 80%
- 2) 73.6%
- 3) 200%
- 4) 280%

**Correct Answer:** 280%

**Candidate Answer:** 280%

QID : 270 -

The line graph shows the production of steel of a certain country. Study the diagram and answer the following questions.

यह रेखा ग्राफ एक विशिष्ट देश के इस्पात के उत्पादन को दर्शाता है। इस आरेख का अध्ययन करें और निम्नलिखित प्रश्नों के उत्तर दें।



If 1 tonne of steel costs Rs 30,000, then what was the cost (in Rs billion) of the steel production in the year 2017?

यदि 1 टन इस्पात की लागत 30,000 रुपये है, तो 2017 में इस्पात उत्पादन की लागत (अरब रुपये में) क्या थी?

**Options:**

- 1) 240
- 2) 3000
- 3) 2400
- 4) 300

**Correct Answer:** 2400

**Candidate Answer:** 240

QID : 271 - The perimeter of a square is 26 cm. Find its area (in  $\text{cm}^2$ ).

एक वर्गाकार की परिमाप 26 सेंटीमीटर है। इसका क्षेत्रफल (वर्ग सेंटीमीटर में) ज्ञात करें।

**Options:**

- 1) 42.25
- 2) 84.5
- 3) 39.25
- 4) 78.5

**Correct Answer:** 42.25

**Candidate Answer:** 42.25

QID : 272 - The area of a circle is  $616 \text{ cm}^2$ . Find its radius (in cm).

एक वृत्त का क्षेत्रफल  $616$  वर्ग सेंटीमीटर है। इसकी त्रिज्या (सेंटीमीटर में) ज्ञात करें।

**Options:**

- 1) 14
- 2) 28
- 3) 11
- 4) 22

**Correct Answer:** 14

**Candidate Answer:** 14

QID : 273 - Find the surface area (in  $\text{cm}^2$ ) of a sphere of diameter 14 cm.

14 सेंटीमीटर व्यास वाले गोले के सतह का क्षेत्रफल (वर्ग सेंटीमीटर में) ज्ञात करें।

**Options:**

- 1) 616
- 2) 4699
- 3) 8628
- 4) 6922

**Correct Answer:** 616

**Candidate Answer:** 616

**QID : 274** - What is the value of  $(1/\sqrt{3} - \sin 45^\circ)$  ?

$(1/\sqrt{3} - \sin 45^\circ)$  का मान क्या है?

**Options:**

- 1)  $1/2\sqrt{3}$
- 2)  $(\sqrt{2}-\sqrt{3})/\sqrt{6}$
- 3)  $1-\sqrt{2}$
- 4)  $(4-\sqrt{3})/2$

**Correct Answer:**  $(\sqrt{2}-\sqrt{3})/\sqrt{6}$

**Candidate Answer:**  $(\sqrt{2}-\sqrt{3})/\sqrt{6}$

**QID : 275** - In  $\Delta PQR$  measure of angle Q is  $90^\circ$ . If  $\cot P = 8/15$ , and  $PQ = 4$  cm, then what is the length (in cm) of side PR?

$\Delta PQR$  में कोण Q का माप  $90^\circ$  है। यदि  $\cot P = 8/15$  और  $PQ = 4$  सेंटीमीटर है, तो भुजा PR की लंबाई (सेंटीमीटर में) क्या है?

**Options:**

- 1) 8.5
- 2) 7.5
- 3) 5
- 4) 4

**Correct Answer:** 8.5

**Candidate Answer:** [ NOT ANSWERED ]

**QID : 276** - Voting rights in the IMF are distributed on the basis of \_\_\_\_\_.

आईएमएफ (IMF) में वोटिंग अधिकार \_\_\_\_\_ के आधार पर वितरित किए जाते हैं।

**Options:**

- 1) one country one vote  
एक देश एक वोट
- 2) proportion to the share of the income of the country in the world income  
विश्व की आय में देश की आय के हिस्से के अनुपात
- 3) proportion to contributions given by each country  
प्रत्येक देश द्वारा दिए गए योगदानों के अनुपात
- 4) proportion to quota allotted to countries from time to time  
समय-समय पर देशों को आवंटित कोटा के अनुपात

**Correct Answer:** proportion to quota allotted to countries from time to time  
समय-समय पर देशों को आवंटित कोटा के अनुपात

**Candidate Answer:** [ NOT ANSWERED ]

**QID : 277** - The purpose of land reforms was to achieve \_\_\_\_\_.

भूमि सुधारों का उद्देश्य \_\_\_\_\_ करना था।

**Options:**

- 1) increase in production  
उत्पादन में वृद्धि
- 2) increase the purchasing power of the rural population  
ग्रामीण आबादी की क्रय शक्ति में वृद्धि
- 3) ensure distributive justice with economic growth  
आर्थिक विकास के साथ वितरण न्याय सुनिश्चित
- 4) All options are correct.  
सभी विकल्प सही हैं।

**Correct Answer:** All options are correct.  
सभी विकल्प सही हैं।

**Candidate Answer:** All options are correct.  
सभी विकल्प सही हैं।

**QID : 278** - What is called the residual eroded mounds sporadically located in Karst Plains?

कार्स्ट मैदानों में यत्र-तत्र स्थित अवशिष्ट टीलों को क्या कहा जाता है?

**Options:**

1) Monadnock

मोनेडनॉक

2) Pediplain

पेडीप्लेन

3) Hum

हम्म

4) No option is correct.

कोई विकल्प सही नहीं है।

**Correct Answer:** Hum

हम्म

**Candidate Answer:** [ NOT ANSWERED ]

**QID : 279** - Which of the following rivers of peninsular India is distinct from the remaining three?

प्रायद्वीपीय भारत की निम्न नदियों में से कौन शेष तीन से विशिष्ट रूप से भिन्न है?

**Options:**

1) Narmada

नर्मदा

2) Cauvery

कावेरी

3) Krishna

कृष्णा

4) Godavari

गोदावरी

**Correct Answer:** Narmada

नर्मदा

**Candidate Answer:** Narmada

नर्मदा

**QID : 280** - A couple burial was found from which of the following Harappan sites?

निम्न में से किस हड़प्पाकालीन स्थल से एक युग्म शवाधन मिला था?

**Options:**

1) Mohenjodaro

मोहनजोदड़ो

2) Harappa

हड़प्पा

3) Chanhudado

चन्हुदाड़ो

4) Lothal

लोथल

**Correct Answer:** Lothal

लोथल

**Candidate Answer:** Mohenjodaro

मोहनजोदड़ो

**QID : 281** - The Indian Council of 1892 Act was based on which plan?

1892 का भारतीय परिषद् अधिनियम किस योजना पर आधारित था?

**Options:**

1) Northbrook Plan

नोर्थब्रुक योजना

2) Dufferin Plan

डफरिन योजना

3) Ripon Plan

रिपन योजना

4) Gladstone Plan

ग्लैडस्टोन योजना

**Correct Answer:** Dufferin Plan

डफरिन योजना

**Candidate Answer:** [ NOT ANSWERED ]

**QID : 282** - In which area did Nandalal Bose earn fame?

नन्दलाल बोस ने किस क्षेत्र में ख्याति अर्जित की?

**Options:**

1) Painting

चित्रकला

2) Folk Art

लोककला

3) Dance

नृत्य

4) Politics

राजनीति

**Correct Answer:** Painting  
चित्रकला

**Candidate Answer:** Politics  
राजनीति

**QID : 283** - Which country in October 2017 announced to allow women into three sports stadium for the first time from 2018?

किस देश ने पहली बार फरवरी 2018 से देश में खेल के तीन स्टेडियमों में महिलाओं को जाने की अनुमति की घोषणा अक्टूबर 2017 में की है?

**Options:**

- 1) UAE  
यूएई
- 2) Qatar  
कतर
- 3) Saudi Arabia  
सऊदी अरब
- 4) Kuwait  
कुवैत

**Correct Answer:** Saudi Arabia  
सऊदी अरब

**Candidate Answer:** Saudi Arabia  
सऊदी अरब

**QID : 284** - In January 2018, Aziz Ansari became the first Indian-American and first Asian to win a Golden Globe award for which comedy series?

जनवरी 2018 में, अजीज अंसारी किस भारतीय कॉमेडी सीरीज के लिए गोल्डन ग्लोब पुरस्कार जीतने वाले पहले भारतीय-अमेरिकी और प्रथम एशियाई बने?

**Options:**

- 1) Parent Trap  
पैरेंट ट्रेप
- 2) Running North  
रनिंग नॉर्थ
- 3) Master of None  
मास्टर ऑफ नन
- 4) Gone with the wind  
गोन विथ द विन्ड

**Correct Answer:** Master of None  
मास्टर ऑफ नन

**Candidate Answer:** [ NOT ANSWERED ]

**QID : 285** - Who among the following is the author of Sri Lanka's national anthem?

निम्नलिखित में से कौन श्रीलंका के राष्ट्रीय गान के रचयिता हैं?

**Options:**

- 1) Ananda Samarkone  
आनंद समरकोन
- 2) Kumaratunga Munidasa  
कुमारतंगा मुनिदास
- 3) Siri Gunasinghe  
सिरी गुनासिंगे
- 4) P.B. Jayasekara  
पी. बी. जयसेकरा

**Correct Answer:** Ananda Samarkone  
आनंद समरकोन

**Candidate Answer:** [ NOT ANSWERED ]

**QID : 286** - Which of the following group does **NOT** follow Newlands Law of Octaves?

निम्नलिखित में से कौन सा समूह न्यूलैंड्स के अष्टक सिद्धांत का अनुसरण **नहीं** करता है?

**Options:**

- 1) Li, Na
- 2) Be, Mg
- 3) C, Si
- 4) Mn, Hg

**Correct Answer:** Mn, Hg

**Candidate Answer:** [ NOT ANSWERED ]

**QID : 287** - Which of the following is an example of compound?

निम्नलिखित में से कौन सा यौगिक का एक उदाहरण है?

**Options:**

- 1) Manganese  
मेन्नीज
- 2) Air  
वायु
- 3) Ozone  
ओजोन
- 4) Ammonia gas  
अमोनिया गैस

**Correct Answer:** Ammonia gas  
अमोनिया गैस

**Candidate Answer:** Ammonia gas  
अमोनिया गैस

**QID : 288** - Which Schedule of Indian Constitution was added by 73<sup>rd</sup> Constitutional Amendment Act?

73 वें संवैधानिक संशोधन अधिनियम के द्वारा भारतीय संविधान में कौन सी अनुसूची जोड़ी गई थी?

**Options:**

- 1) Eight Schedule  
आठवीं अनुसूची
- 2) Ninth Schedule  
नौवीं अनुसूची
- 3) Tenth Schedule  
दसवीं अनुसूची
- 4) Eleventh Schedule  
ग्यारहवीं अनुसूची

**Correct Answer:** Eleventh Schedule  
ग्यारहवीं अनुसूची

**Candidate Answer:** Eleventh Schedule  
ग्यारहवीं अनुसूची

**QID : 289** - In India, which among the following can be amended by Special Majority of Parliament and Consent of States?

- I. Election of President and its manner
- II. Any of the lists in Seventh Schedule
- III. Amendment in Fundamental Right

भारत में, निम्नलिखित में से किसे संशोधित करने के लिए संसद की विशेष बहुमत तथा राज्यों की सहमती चाहिए होती है?

- I. राष्ट्रपति की चुनाव तथा उसका तरीका
- II. सातवीं अनुसूची की कोई भी सूची
- III. मौलिक अधिकार में संशोधन

**Options:**

- 1) Only I  
केवल I
- 2) Only II  
केवल II
- 3) Both I and II  
I तथा II दोनों
- 4) All I, II and III  
I, II तथा III सभी

**Correct Answer:** Both I and II  
I तथा II दोनों

**Candidate Answer:** [ NOT ANSWERED ]

**QID : 290** - Blood is a connective tissue embedded in which type of intercellular matrix?

रक्त एक संयोजी ऊतक है जो किस प्रकार के अंतरकोशिकीय आधात्री में धँसी होती है?

**Options:**

- 1) Jelly like  
जैली की तरह
- 2) Fluid  
तरल
- 3) Dense  
सघन
- 4) No option is correct  
कोई विकल्प सही नहीं है

**Correct Answer:** Fluid  
तरल

**Candidate Answer:** [ NOT ANSWERED ]

**QID : 291** - Slow-growing large coloured patches on the bark of trees are the examples of symbiotic life forms called \_\_\_\_\_.

वृक्षों की छाल पर धीरे-धीरे बढ़ने वाले बड़े-बड़े रंगीन धब्बे \_\_\_\_\_ कहलाने वाली सहजीवी जीव रूपों का उदाहरण है।



**Options:**

- 1) Aphids  
एफिड्स
- 2) Egreys  
एग्रेट्स
- 3) Lichens  
लाइकेन
- 4) Shrimps  
श्रिम्स

**Correct Answer:** Lichens  
लाइकेन

**Candidate Answer:** [ NOT ANSWERED ]

**QID : 292** - On 17 October 2017, who launched the online Campaign 'women for women : #IAmThatWomen' to end gender bias?

17 अक्टूबर 2017 को, लिंग पक्षपात को समाप्त करने के लिए ऑनलाइन अभियान 'विमेन फॉर विमेन : #आईएमदैटविमेन' को किसने लोकार्पित किया था?

**Options:**

- 1) Nirmala Sitharan  
निर्मला सीतारमण
- 2) Sushma Swaraj  
सुषमा स्वराज
- 3) Sonia Gandhi  
सोनिया गांधी
- 4) Maneka Gandhi  
मेनका गांधी

**Correct Answer:** Maneka Gandhi  
मेनका गांधी

**Candidate Answer:** Maneka Gandhi  
मेनका गांधी

**QID : 293** - India was declared free from which infective eye disorder on 9 December, 2017?

9 दिसम्बर 2017 को, भारत किस संक्रामित नेत्र विकार से मुक्त घोषित कर दिया गया था?

**Options:**

- 1) Blepharitis  
ब्लेफेराइटिस
- 2) Chalazia  
चलजिया
- 3) Pinkeye  
गुलाबी आँखे
- 4) Trachoma  
ट्रैकोमा

**Correct Answer:** Trachoma  
ट्रैकोमा

**Candidate Answer:** Trachoma  
ट्रैकोमा

**QID : 294** - On 25 October 2017, government announced a recapitalisation plan for state-owned banks. How much amount was announced for Banks' recapitalisation?

25 अक्टूबर 2017 को, सरकार ने सरकारी बैंकों के लिए एक पुनर्पूँजीकरण योजना की घोषणा की। बैंकों के पुनर्पूँजीकरण के लिए कितनी राशि की घोषणा की गई थी?

**Options:**

- 1) Rs 3.11 lakh crore  
3.11 लाख करोड़ रु
- 2) Rs 5.1 lakh crore  
5.1 लाख करोड़ रु
- 3) Rs 2.11 lakh crore  
2.11 लाख करोड़ रु
- 4) Rs 7 lakh crore  
7 लाख करोड़ रु

**Correct Answer:** Rs 2.11 lakh crore  
2.11 लाख करोड़ रु

**Candidate Answer:** [ NOT ANSWERED ]

**QID : 295** - On 22 November 2017, cabinet approved expansion of "Beti Bacho Beti Padhao" for a Pan India coverage in how many districts of the country?

22 नवम्बर 2017 को, कैबिनेट ने देश के कितने जिलों में "बेटी बचाओ बेटी पढ़ाओ" के विस्तार के लिए एक पैन इंडिया कवरेज को मंजूरी दे दी?

**Options:**

- 1) 640
- 2) 820
- 3) 1000
- 4) 1100

**Correct Answer:** 640

**Candidate Answer:** [ NOT ANSWERED ]

**QID : 296** - What is the heat generated (in J) in a heating element of resistance 800  $\Omega$  when a current of 0.2 A passes through it for 40 seconds?

800 $\Omega$  प्रतिरोधक वाले विद्युतीय पदार्थ में 0.2A की धारा 40 सेकंड तक प्रवाहित करने पर कितनी ऊष्मा (जूल में) उत्पन्न होगी?

**Options:**

1) 6400

2) 1280

3) 640

4) 3200

**Correct Answer:** 1280

**Candidate Answer:** [ NOT ANSWERED ]

**QID : 297** - When an object is thrown vertically upwards, at its maximum height its \_\_\_\_\_.

यदि किसी वस्तु को उर्ध्वाधर दिशा में ऊपर की ओर फेंका जाता है तो अधिकतम ऊंचाई पर इसकी \_\_\_\_\_

**Options:**

1) potential energy is zero

स्थितिज ऊर्जा शून्य होती है

2) momentum is maximum

संवेग अधिकतम होता है

3) kinetic energy is zero

गतिज ऊर्जा शून्य होती है

4) gravitational force is maximum

गुरुत्वाकर्षण बल अधिकतम होता है

**Correct Answer:** kinetic energy is zero

गतिज ऊर्जा शून्य होती है

**Candidate Answer:** [ NOT ANSWERED ]

**QID : 298** - \_\_\_\_\_ contributes towards global warming so it is called a greenhouse gas.

\_\_\_\_\_ वैश्विक उष्मन में योगदान देती है अतः इसे ग्रीनहाउस गैस कहा जाता है।

**Options:**

1) Oxygen

ऑक्सीजन

2) Nitrogen

नाइट्रोजन

3) Hydrogen

हाइड्रोजन

4) Methane

मीथेन

**Correct Answer:** Methane

मीथेन

**Candidate Answer:** Methane

मीथेन

**QID : 299** - Which of the statements given below are **correct**?

- A) United Arab Emirates hosted the Tennis 2017 ATP World Tour Finals.
- B) In 2017, Per Mertesacker captained the Premier League team Manchester United.
- C) In 2017, Stephen Curry played for the NBA team Golden State Warriors.

निम्नलिखित में से कौन सा कथन **सत्य** है?

- A) संयुक्त अरब अमीरात ने टेनिस 2017 एटीपी वर्ल्ड टूर फाइनल्स की मेजबानी की।
- B) 2017 में पेर मर्टेसैकर ने प्रीमियर लीग टीम मैनचेस्टर यूनाइटेड की कप्तानी की।
- C) वर्ष 2017 में स्टीफन करी एनबीए टीम गोल्डन स्टेट वॉरियर्स के लिए खेले।

**Options:**

1) Only A

केवल A

2) Only B

केवल B

3) Only C

केवल C

4) A, B and C

A, B और C

**Correct Answer:** Only C

केवल C

**Candidate Answer:** [ NOT ANSWERED ]

**QID : 300** - In Microsoft Excel, Ctrl+ right arrow key leads to \_\_\_\_\_ cell movement on spreadsheet.

माइक्रोसॉफ्ट एक्सेल में, Ctrl और दायीं ओर तीर के निशान वाली कुंजी दबाकर स्प्रेडशीट में \_\_\_\_\_ जाया जा सकता है।

**Options:**

1) End of column

कॉलम के अंत में

2) End of row

पंक्ति के अंत में

3) One cell Left

एक सेल बाएं

4) One cell right

एक सेल दायें

**Correct Answer:** End of row

पंक्ति के अंत में

**Candidate Answer:** [ NOT ANSWERED ]