



Staff Selection Commission
(Government Of India)

REGISTRATION NUMBER : KVCLASSES
EXAM DATE : 8-March-2018
EXAM NAME : SSC Examination
TOTAL MARKS : 200

CANDIDATE NAME : KVCLASSES
EXAM START TIME : 13:30:00
EXAM DURATION : 01:00 Hrs
TOTAL NO OF QUESTIONS : 100

QID : 101 - In the following question, some part of the sentence may have errors. Find out which part of the sentence has an error and select the appropriate option. If a sentence is free from error, select 'No Error'.

She has (1)/ reduced her (2)/ consumption to considerably. (3)/ No error (4)

Options:

- 1) 1
- 2) 2
- 3) 3
- 4) 4

Correct Answer: 3

Candidate Answer: 3

QID : 102 - In the following question, some part of the sentence may have errors. Find out which part of the sentence has an error and select the appropriate option. If a sentence is free from error, select 'No Error'.

Liquid water cannot exist on the surface of Mars as to low (1)/ atmospheric pressure, which is less than 1% of Earth's, (2)/ except at the lowest elevations for short periods. (3)/ No error (4)

Options:

- 1) 1
- 2) 2
- 3) 3
- 4) 4

Correct Answer: 1

Candidate Answer: 1

QID : 103 - In the following question, the sentence given with blank to be filled in with an appropriate word. Select the correct alternative out of the four and indicate it by selecting the appropriate option.

That is _____ cars I know.

Options:

- 1) the worst
- 2) worst
- 3) mostly worst
- 4) one of the worst

Correct Answer: one of the worst

Candidate Answer: one of the worst

QID : 104 - In the following question, the sentence given with blank to be filled in with an appropriate word. Select the correct alternative out of the four and indicate it by selecting the appropriate option.

The _____ of many archaic and dilatory procedures have proved to be extremely damaging to our governance and society.

Options:

- 1) caution
- 2) translation
- 3) imposition
- 4) revolution

Correct Answer: imposition

Candidate Answer: imposition

QID : 105 - In the following question, out of the given four alternatives, select the one which best expresses the meaning of the given word.

Curtail

Options:

- 1) Prolong
- 2) Downsize
- 3) Lengthen
- 4) Extend

Correct Answer: Downsize

Candidate Answer: Downsize

QID : 106 - In the following question, out of the given four alternatives, select the one which best expresses the meaning of the given word.

Inference

Options:

- 1) Beginning
- 2) Conclusion
- 3) Preparation
- 4) Discovery

Correct Answer: Conclusion
Candidate Answer: Beginning

QID : 107 - In the following question, out of the given four alternatives, select the one which is opposite in meaning of the given word.

Consensus

Options:

- 1) Accord
- 2) Discord
- 3) Consent
- 4) Unity

Correct Answer: Discord

Candidate Answer: Discord

QID : 108 - In the following question, out of the given four alternatives, select the one which is opposite in meaning of the given word.

Mould

Options:

- 1) Genuine
- 2) Shape
- 3) Slice
- 4) Sculpt

Correct Answer: Genuine

Candidate Answer: Genuine

QID : 109 - Rearrange the parts of the sentence in correct order.

In developing countries today

P : urban health conditions

Q : than rural health conditions

R : seem to be better

Options:

- 1) PRQ
- 2) PQR
- 3) QRP
- 4) RPQ

Correct Answer: PRQ

Candidate Answer: PRQ

QID : 110 - A sentence has been given in Active/Passive Voice. Out of the four given alternatives, select the one which best expresses the same sentence in Passive/Active Voice.

The workers are building the house.

Options:

- 1) The house was being built by the workers.
- 2) The house was built by the workers.
- 3) The house is built by the workers.
- 4) The house is being built by the workers.

Correct Answer: The house is being built by the workers.

Candidate Answer: The house is being built by the workers.

QID : 111 - A sentence has been given in Direct/Indirect Speech. Out of the four given alternatives, select the one which best expresses the same sentence in Indirect/Direct Speech.

Sneha said to Arjun, "Go away."

Options:

- 1) Sneha ordered Arjun to go away.
- 2) Sneha asked Arjun that he should go away.
- 3) Sneha say to Arjun to go away.
- 4) Sneha inquired Arjun to go away.

Correct Answer: Sneha ordered Arjun to go away.

Candidate Answer: Sneha ordered Arjun to go away.

QID : 112 - In the following question, a word has been written in four different ways out of which only one is correctly spelt . Select the correctly spelt word?

Options:

- 1) Aggrression
- 2) Aggrresion
- 3) Aggression
- 4) Agressson

Correct Answer: Aggression

Candidate Answer: Aggression

QID : 113 - In the following passage, some of the words have been left out. Read the passage carefully and select the correct answer for the given blank out of the four alternatives.

When the kerosene burned, the fuel in the tank below would be _____ pressure, and _____ a small circular flame would appear in the burner. The valve had to be opened to let more kerosene vapour to the burner and pumping resumed. With the increase in pressure, the burner flame would spread _____ a loud noise. To lower the flame, the valve had to be _____ opened to reduce the pressure and then tightened until the desired flame size was achieved. _____ you wanted the flame to be bigger, you had to hit the piston again. Pump stoves are still in vogue.

below would be _____ pressure

Options:

- 1) inside
- 2) into
- 3) about
- 4) under

Correct Answer: under

Candidate Answer: under

QID : 114 - In the following passage, some of the words have been left out. Read the passage carefully and select the correct answer for the given blank out of the four alternatives.

When the kerosene burned, the fuel in the tank below would be _____ pressure, and _____ a small circular flame would appear in the burner. The valve had to be opened to let more kerosene vapour to the burner and pumping resumed. With the increase in pressure, the burner flame would spread _____ a loud noise. To lower the flame, the valve had to be _____ opened to reduce the pressure and then tightened until the desired flame size was achieved. _____ you wanted the flame to be bigger, you had to hit the piston again. Pump stoves are still in vogue.

and _____ a small circular flame

Options:

- 1) slow
- 2) slowly
- 3) slower
- 4) slowest

Correct Answer: slowly

Candidate Answer: slowly

QID : 115 - In the following passage, some of the words have been left out. Read the passage carefully and select the correct answer for the given blank out of the four alternatives.

When the kerosene burned, the fuel in the tank below would be _____ pressure, and _____ a small circular flame would appear in the burner. The valve had to be opened to let more kerosene vapour to the burner and pumping resumed. With the increase in pressure, the burner flame would spread _____ a loud noise. To lower the flame, the valve had to be _____ opened to reduce the pressure and then tightened until the desired flame size was achieved. _____ you wanted the flame to be bigger, you had to hit the piston again. Pump stoves are still in vogue.

would spread _____ a loud noise.

Options:

- 1) within
- 2) with
- 3) at
- 4) during

Correct Answer: with

Candidate Answer: with

QID : 116 - In the following passage, some of the words have been left out. Read the passage carefully and select the correct answer for the given blank out of the four alternatives.

When the kerosene burned, the fuel in the tank below would be _____ pressure, and _____ a small circular flame would appear in the burner. The valve had to be opened to let more kerosene vapour to the burner and pumping resumed. With the increase in pressure, the burner flame would spread _____ a loud noise. To lower the flame, the valve had to be _____ opened to reduce the pressure and then tightened until the desired flame size was achieved. _____ you wanted the flame to be bigger, you had to hit the piston again. Pump stoves are still in vogue.

had to be _____ opened to reduce

Options:

- 1) partly
- 2) some
- 3) none
- 4) everything

Correct Answer: partly

Candidate Answer: partly

QID : 117 - In the following passage, some of the words have been left out. Read the passage carefully and select the correct answer for the given blank out of the four alternatives.

When the kerosene burned, the fuel in the tank below would be _____ pressure, and _____ a small circular flame would appear in the burner. The valve had to be opened to let more kerosene vapour to the burner and pumping resumed. With the increase in pressure, the burner flame would spread _____ a loud noise. To lower the flame, the valve had to be _____ opened to reduce the pressure and then tightened until the desired flame size was achieved. _____ you wanted the flame to be bigger, you had to hit the piston again. Pump stoves are still in vogue.

was achieved. _____ you wanted the flame

Options:

- 1) If
- 2) Nor
- 3) So
- 4) Thus

Correct Answer: If

Candidate Answer: If

QID : 118 - In the following question, out of the four alternatives, select the alternative which best expresses the meaning of the idiom/phrase.

A bone of contention

Options:

- 1) The only part to which two arguing parties agree.
- 2) An issue over which there is continuing disagreement.
- 3) A very expensive inherited property.
- 4) To be happy with only a few things.

Correct Answer: An issue over which there is continuing disagreement.

Candidate Answer: An issue over which there is continuing disagreement.

QID : 119 - In the following question, out of the four alternatives, select the alternative which best expresses the meaning of the idiom/phrase.

Zip your lip

Options:

- 1) Keep quiet about something.
- 2) To talk fast.
- 3) To not think before speaking.
- 4) The silence before a storm.

Correct Answer: Keep quiet about something.

Candidate Answer: Keep quiet about something.

QID : 120 - In the following question, out of the four alternatives, select the alternative which is the best substitute of the words/sentence.

A military or political group that rules a country after taking power by force

Options:

- 1) Junta
- 2) Suffrage
- 3) Emancipation
- 4) Egalitarianism

Correct Answer: Junta

Candidate Answer: Emancipation

QID : 121 - In the following question, out of the four alternatives, select the alternative which is the best substitute of the words/sentence.

A person who lives outside his native country

Options:

- 1) Indigenous
- 2) Natal
- 3) Expatriate
- 4) Intrinsic

Correct Answer: Expatriate

Candidate Answer: Expatriate

QID : 122 - In the following question, out of the four alternatives, select the alternative which will improve the bracketed part of the sentence. In case no improvement is needed, select "no improvement".

At the micro level, the dialectical process of development in India (**has now heading**) towards another direction.

Options:

- 1) had now heading
- 2) now heading
- 3) is now heading
- 4) no improvement

Correct Answer: is now heading

Candidate Answer: is now heading

QID : 123 - In the following question, out of the four alternatives, select the alternative which will improve the bracketed part of the sentence. In case no improvement is needed, select "no improvement".

I wondered what one would have thought some 40 years ago if you (**had said**) you could heat liquid using a plastic container.

Options:

- 1) having said
- 2) had say
- 3) have saying
- 4) no improvement

Correct Answer: no improvement

Candidate Answer: no improvement

QID : 124 - The question below consists of a set of labelled sentences. Out of the four options given, select the most logical order of the sentences to form a coherent paragraph.

Cars were owned by

A-only a privileged few and

B-my class of society was

C-as yet untouched by it

Options:

- 1) ABC
- 2) CBA
- 3) CAB
- 4) BCA

Correct Answer: ABC

Candidate Answer: ABC

QID : 125 - In the following question, four words are given out of which one word is correctly spelt. Select the correctly spelt word .

Options:

- 1) arogance
- 2) arroganse
- 3) aroganse
- 4) arrogance

Correct Answer: arrogance

Candidate Answer: arrogance

QID : 126 - In the following question, select the related word pair from the given alternatives.

Current : Ampere :: ? : ?

निम्नलिखित प्रश्न में दिए गए विकल्पों में से संबंधित शब्द युग्म को चुनिए।

विद्युत प्रवाह : एम्पियर :: ? : ?

Options:

1) Air : Kilogram

वायु : किलोग्राम

2) Work : Joule

कार्य : जूल

3) Pressure : Speed

दाब : गति

4) Temperature : Metre

तापमान : मीटर

Correct Answer: Work : Joule

कार्य : जूल

Candidate Answer: Work : Joule

कार्य : जूल

QID : 127 - In the following question, select the related number from the given alternatives.

14 : 16 :: 22 : ?

निम्नलिखित प्रश्न में दिए गए विकल्पों में से संबंधित संख्या को चुनिए।

14 : 16 :: 22 : ?

Options:

1) 26

2) 29

3) 24

4) 28

Correct Answer: 24

Candidate Answer: 24

QID : 128 - In the following question, select the related letter/letters from the given alternatives.

ART : BSU :: MRV : ?

निम्नलिखित प्रश्न में दिए गए विकल्पों में से संबंधित अक्षर/अक्षरों को चुनिए।

ART : BSU :: MRV : ?

Options:

1) KFT

2) NSW

3) MFG

4) NRV

Correct Answer: NSW

Candidate Answer: NSW

QID : 129 - In the following question, select the odd word from the given alternatives.

निम्नलिखित प्रश्न में दिए गए विकल्पों में से विषम शब्द को चुनिए।

Options:

1) Car

कार

2) Cycle

साइकिल

3) Tyre

टायर

4) Truck

ट्रक

Correct Answer: Tyre

टायर

Candidate Answer: Tyre

टायर

QID : 130 - In the following question, four number pairs are given. The number on left side of (-) is related to the number of the right side of (-) with some Logic/Rule/Relation. Three are similar on basis of same Logic/Rule/Relation. Select the odd one out from the given alternatives.

नीचे दिए गए प्रश्न में, चार संख्या युग्म दिए गए हैं। (-) के बायीं ओर दी संख्या (-) के दायीं ओर दी गई संख्या से तर्क/नियम से सम्बंधित है। तीन उसी एक तर्क/नियम के आधार पर समान हैं। दिए गए विकल्पों में से भिन्न को चुनिए।

Options:

1) 10 - 121

2) 12 - 169

3) 14 - 225

4) 16 - 279

Correct Answer: 16 - 279

Candidate Answer: 16 - 279

QID : 131 - In the following question, select the odd letter/letters from the given alternatives.

निम्नलिखित प्रश्न में दिए गए विकल्पों में से विषम अक्षर/अक्षरों को चुनिए।

Options:

- 1) RTVX
- 2) GIKM
- 3) DFIK
- 4) LNPR

Correct Answer: DFIK

Candidate Answer: DFIK

QID : 132 - Arrange the given words in the sequence in which they occur in the dictionary.

1. Journey
2. Judge
3. Jingling
4. Jingle
5. Judgement

निम्नलिखित शब्दों को शब्दकोश में आने वाले क्रम के अनुसार लिखें।

1. Journey
2. Judge
3. Jingling
4. Jingle
5. Judgement

Options:

- 1) 32541
- 2) 53142
- 3) 43125
- 4) 15342

Correct Answer: 43125

Candidate Answer: 43125

QID : 133 - In the following question, select the missing number from the given series.

11, 13, 16, 18, 21, ?

निम्नलिखित प्रश्न में दिए गए विकल्पों में से लुप्त अंक ज्ञात कीजिए।

11, 13, 16, 18, 21, ?

Options:

- 1) 29
- 2) 25
- 3) 27
- 4) 23

Correct Answer: 23

Candidate Answer: 23

QID : 134 - A series is given with one term missing. Select the correct alternative from the given ones that will complete the series.

IM, JO, KQ, LS, ?

एक अनुक्रम दिया गया है, जिसमें से एक पद लुप्त है। दिए गए विकल्पों में से वह सही विकल्प चुनिए, जो अनुक्रम को पूरा करे।

IM, JO, KQ, LS, ?

Options:

- 1) NV
- 2) MU
- 3) MY
- 4) NT

Correct Answer: MU

Candidate Answer: MU

QID : 135 - In a row of boys, Punit's position from the left end is 33rd and Ankit's position from the right end is 25th. After interchanging their position, Punit's position becomes 45th from the left end. How many boys are there in the row?

लड़कों की एक पंक्ति में, पुनीत का स्थान बायें छोर से 33-वाँ है तथा अंकित का स्थान दायें छोर से 25-वाँ है। उनके स्थानों को परस्पर बदलने के पश्चात, पुनीत का स्थान बायें छोर से 45-वाँ हो जाता है। पंक्ति में कितने लड़कें हैं?

Options:

- 1) 70
- 2) 71
- 3) 69
- 4) 74

Correct Answer: 69

Candidate Answer: 69

QID : 136 - From the given alternatives, select the word which **CANNOT** be formed using the letters of the given word.

Threatened

दिए गए विकल्पों में से वह शब्द चुनिए जो दिए गए शब्द के अक्षरों का प्रयोग करके नहीं बनाया जा सकता है।

Threatened

Options:

- 1) Heart
- 2) Detain
- 3) Treat
- 4) Heated

Correct Answer: Detain

Candidate Answer: Detain

QID : 137 - In a certain code language, "book is tough" is written as "fu la mi", "tough can easy" is written as "fu muk po" and "easy not book" is written as "ti po la". What is the code for "tough" in that code language?

एक विशिष्ट कोड भाषा में, "book is tough" को "fu la mi" लिखा जाता है, "tough can easy" को "fu muk po" लिखा जाता है तथा "easy not book" को "ti po la" लिखा जाता है। इस कोड भाषा में "tough" का कोड क्या है?

Options:

- 1) mi
- 2) po
- 3) la
- 4) fu

Correct Answer: fu

Candidate Answer: mi

QID : 138 - In a certain code language, '+' represents '+', '+' represents 'x', 'x' represents '÷' and '÷' represents '-'. Find out the answer to the following question.

$$2 - 12 + 10 \times 5 \div 12 = ?$$

किसी निश्चित कोड भाषा में '+', '+' को प्रदर्शित करता है, 'x', 'x' को प्रदर्शित करता है, '÷', '÷' को प्रदर्शित करता है और '÷', '-' को प्रदर्शित करता है। निम्नलिखित प्रश्न का उत्तर ज्ञात करें।

$$2 - 12 + 10 \times 5 \div 12 = ?$$

Options:

- 1) 32
- 2) 8
- 3) 4
- 4) 14

Correct Answer: 14

Candidate Answer: 14

QID : 139 - The following equation is incorrect. Which two signs should be interchanged to correct the equation?

$$1 \div 14 \times 30 + 20 - 10 = 12$$

निम्नलिखित समीकरण गलत है। इस समीकरण को सही करने के लिए किन दो चिन्हों को आपस में अदला-बदली करना चाहिए?

$$1 \div 14 \times 30 + 20 - 10 = 12$$

Options:

- 1) - and +
- और +
- 2) ÷ and x
÷ और x
- 3) x and -
x और -
- 4) + and ÷
+ और ÷

Correct Answer: + and ÷

+ और ÷

Candidate Answer: + and ÷

+ और ÷

QID : 140 - If $8*2 = 3$, $14*18 = -2$ and $18*2 = 8$, then find the value of $14*10 = ?$

यदि $8*2 = 3$, $14*18 = -2$ और $18*2 = 8$, तो $14*10$ का मान ज्ञात करें।

Options:

- 1) 2
- 2) -5
- 3) -2
- 4) 6

Correct Answer: 2

Candidate Answer: [NOT ANSWERED]

QID : 141 - Which of the following terms follows the trend of the given list?

XxXXXXX, XXxXXXX, XXXxXXX, XXXXxXX, XXXXXxX, _____.

निम्नलिखित में से कौन सा पद दी गयी सूची के क्रम के अनुसार है?

XxXXXXX, XXxXXXX, XXXxXXX, XXXXxXX, XXXXXxX, _____.

Options:

- 1) xXXXXXX
- 2) XxXXXXX
- 3) XXXXXxX
- 4) XXxXXXX

Correct Answer: XXXXXxX

Candidate Answer: XXXXXxX

QID : 142 - An auto-rickshaw picks a passenger and travels North 6.5 km, then it turns to its left and rides for another 1.5 km, then it turns South and rides for 2.5 km, then it turns to its left and rides 1.5 km. Where is the auto now with respect to its starting position?

एक ऑटो रिक्शा वाला एक यात्री को अपनी रिक्शा में बिठाता है और उत्तर की ओर 6.5 कि.मी. की यात्रा करता है, फिर वह अपनी बाईं तरफ मुड़ जाता है और आगे 1.5 कि.मी. तक जाता है, फिर वह दक्षिण की तरफ मुड़ता है और आगे 2.5 कि.मी. तक जाता है, फिर वह अपनी बाईं तरफ मुड़ता है और आगे 1.5 कि.मी. तक जाता है। अपनी शुरुआती स्थिति के संबंध में वह ऑटो अब कहाँ है?

Options:

- 1) 9 km North
9 कि.मी. उत्तर
- 2) 4 km South
4 कि.मी. दक्षिण
- 3) 4 km North
4 कि.मी. उत्तर
- 4) 9 km South
9 कि.मी. दक्षिण

Correct Answer: 4 km North

4 कि.मी. उत्तर

Candidate Answer: 4 km North

4 कि.मी. उत्तर

QID : 143 - In the question two statements are given, followed by two conclusions, I and II. You have to consider the statements to be true even if it seems to be at variance from commonly known facts. You have to decide which of the given conclusions, if any, follows from the given statements.

Statement I: No bikes are two-wheelers

Statement II: All wheels are bikes

Conclusion I: No two-wheelers are wheels

Conclusion II: All wheels are two-wheelers

प्रश्न में दो कथन दिये गये हैं जिसके आगे दो निष्कर्ष I और II निकाले गये हैं। आपको मानना है कि दोनों कथन सत्य है चाहे वह सामान्यतः ज्ञात तथ्यों से भिन्न प्रतीत होते हों। आपको निर्णय करना है की दिए गए निष्कर्षों में से कौन-सा/कौन-से निश्चित रूप से कथन द्वारा सही निकाला जा सकता है/सकते हैं, यदि कोई हो।

कथन I: कोई भी बाइक्स दोपहिया वाहन नहीं होते

कथन II: सभी पहिये बाइक्स होते हैं

निष्कर्ष I: कोई भी दोपहिया वाहन पहिये नहीं होते

निष्कर्ष II: सभी पहिये दोपहिया वाहन होते हैं

Options:

- 1) Only conclusion I follows
केवल निष्कर्ष I सही है
- 2) Only conclusion II follows
केवल निष्कर्ष II सही है
- 3) Both conclusions I and II follow
दोनों निष्कर्ष I और II सही है
- 4) Neither conclusion I nor conclusion II follows
ना तो निष्कर्ष I सही है ना ही निष्कर्ष II

Correct Answer: Only conclusion I follows

केवल निष्कर्ष I सही है

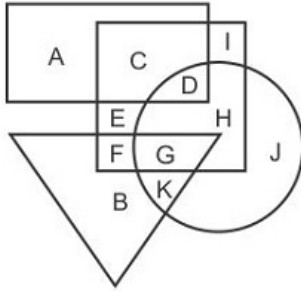
Candidate Answer: Only conclusion I follows

केवल निष्कर्ष I सही है

QID : 144 -

In the following figure, rectangle represents Physicians, circle represents Floral designers, triangle represents Sculptors and square represents Americans. Which set of letters represents Americans who are either Floral designers or Sculptors?

निम्नलिखित आकृति में, आयत चिकित्सकों को प्रदर्शित करता है, वृत्त पुष्प डिजाइनरों को प्रदर्शित करता है, त्रिभुज मूर्तिकारों को प्रदर्शित करता है और वर्ग अमेरिकियों को प्रदर्शित करता है। अक्षरों का कौन सा समूह उन अमेरिकियों को प्रदर्शित करता है जो पुष्प डिजाइनर या मूर्तिकार हैं?



Options:

1) FGDH

2) FGK

3) FHJD

4) GK

Correct Answer: FGDH

Candidate Answer: FHJD

QID : 145 - A series is given with one term missing. Select the correct alternative from the given ones that will complete the series.

LOP, MPQ, NQR, ORS, ?

एक अनुक्रम दिया गया है, जिसमें से एक पद लुप्त है। दिए गए विकल्पों में से वह सही विकल्प चुनिए, जो अनुक्रम को पूरा करे।

LOP, MPQ, NQR, ORS, ?

Options:

1) QTU

2) QST

3) PST

4) PTU

Correct Answer: PST

Candidate Answer: PST

QID : 146 - In the following question, select the missing number from the given series.

10, 12, 14, 16, 18, ?

निम्नलिखित प्रश्न में दिए गए विकल्पों में से लुप्त अंक ज्ञात कीजिए।

10, 12, 14, 16, 18, ?

Options:

1) 22

2) 24

3) 20

4) 26

Correct Answer: 20

Candidate Answer: 20

QID : 147 - In the following question, four groups of three numbers are given. In each group the second and third number are related to the first number by a Logic/Rule/Relation. Three are similar on basis of same Logic/Rule/Relation. Select the odd one out from the given alternatives.

नीचे दिए गए प्रश्न में, तीन संख्याओं के चार समूह दिये गए हैं। प्रत्येक समूह में दूसरी तथा तीसरी संख्या पहली संख्या से किसी एक तर्क/नियम से सम्बंधित है। तीन उसी एक तर्क/नियम के आधार पर समान हैं। दिए गए विकल्पों में से भिन्न को चुनिए।

Options:

- 1) (2, 3, 4)
- 2) (4, 5, 6)
- 3) (6, 7, 8)
- 4) (4, 6, 8)

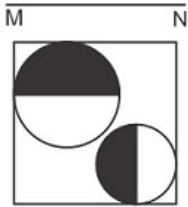
Correct Answer: (4, 6, 8)

Candidate Answer: [NOT ANSWERED]

QID : 148 -

If a mirror is placed on the line MN, then which of the answer figures is the right image of the given figure?

यदि एक दर्पण को MN रेखा पर रखा जाए तो दी गयी उत्तर आकृतियों में से कौन-सी आकृति प्रश्न आकृति का सही प्रतिबिम्ब होगी?



Options:

1)



2)



3)



4)



Correct Answer:



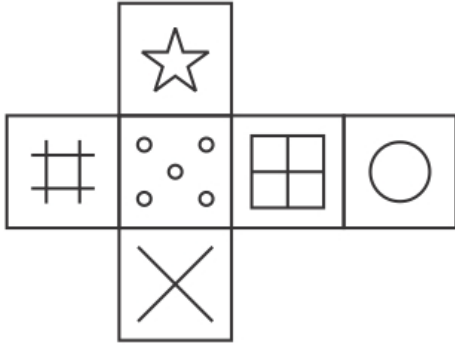
Candidate Answer:



QID : 149 -

Which of the following cube in the answer figure cannot be made based on the unfolded cube in the question figure?

निम्नलिखित उत्तर आकृति में से कौन सा घन दिए गए प्रश्न आकृति में से खुले घन से बनाया नहीं जा सकता?



Options:

1)



2)



3)



4)



Correct Answer:



Candidate Answer:



QID : 150 -

A word is represented by only one set of numbers as given in any one of the alternatives. The sets of numbers given in the alternatives are represented by two classes of alphabets as shown in the given two matrices. The columns and rows of Matrix-I are numbered from 0 to 4 and that of Matrix-II are numbered from 5 to 9. A letter from these matrices can be represented first by its row and next by its column, for example 'H' can be represented by 12, 34 etc and 'Q' can be represented by 95, 86 etc. Similarly, you have to identify the set for the word 'BURN'.

एक शब्द केवल एक संख्या-समूह द्वारा दर्शाया गया है, जैसा कि विकल्पों में से किसी एक में दिया गया है। विकल्पों में दिए गए संख्या-समूह अक्षरों के दो वर्गों द्वारा दर्शाए गए हैं, जैसा कि दिए गए दो आव्यूहों में है। आव्यूह-I के स्तम्भ और पंक्ति की संख्या 0 से 4 और आव्यूह-II की 5 से 9 है। इन आव्यूहों से एक अक्षर को पहले उसकी पंक्ति और बाद में स्तम्भ संख्या द्वारा दर्शाया जा सकता है। उदाहरण के लिए 'H' को 12, 34 आदि द्वारा दर्शाया जा सकता है तथा 'Q' को 95, 86 आदि द्वारा दर्शाया जा सकता है। इसी तरह से आपको प्रश्न में दिए शब्द 'BURN' के लिए समूह को पहचानना है।

Matrix I आव्यूह - I						Matrix II आव्यूह - II					
	0	1	2	3	4		5	6	7	8	9
0	M	J	I	J	F	5	Z	X	W	O	Z
1	B	F	H	F	B	6	R	Y	S	W	O
2	L	D	A	B	A	7	Y	P	S	W	R
3	K	C	C	D	H	8	Y	Q	R	Z	Y
4	B	F	K	I	K	9	N	Z	S	U	S

Options:

1) 43,69,13,56

2) 30,75,11,97

3) 10,98,79,95

4) 44,79,11,57

Correct Answer: 10,98,79,95

Candidate Answer: 10,98,79,95

QID : 151 -

Find the common factor of $(37^{57} + 43^{57})$ and $(37^{37} + 43^{37})$.

$(37^{57} + 43^{57})$ और $(37^{37} + 43^{37})$ का समापवर्तक ज्ञात कीजिये।

Options:

1) $(43 - 37)$

2) $(43 + 37)$

3) $(37^{37} + 43^{37})$

4) 10

Correct Answer: $(43 + 37)$

Candidate Answer: [NOT ANSWERED]

QID : 152 -

Calculate the value of $\frac{(61681 \times 61681 - 31681 \times 31681)}{30000}$.

$\frac{(61681 \times 61681 - 31681 \times 31681)}{30000}$ का मान ज्ञात कीजिये।

Options:

1) 93352

2) 94362

3) 93362

4) 95362

Correct Answer: 93362

Candidate Answer: 93362

QID : 153 - For which value of 'g' the linear graph of $6x + 12y + 9 = 0$ and $2x + gy + 3 = 0$ has infinite number of solutions?

'g' के किस मान के लिए, $6x + 12y + 9 = 0$ और $2x + gy + 3 = 0$ के रेखीय ग्राफ में समाधानों की अनंत संख्या है?

Options:

1) 3

2) 4

3) 6

4) 9

Correct Answer: 4

Candidate Answer: 4

QID : 154 - What is the area (in square units) of the figure enclosed by the graphs of the lines $x = -4$, $x = 2$, $y = -2$ and $y = 3$?

$x = -4$, $x = 2$, $y = -2$ और $y = 3$ रेखाओं के ग्राफ़ द्वारा संलग्न आंकड़े का क्षेत्रफल (स्क्वायर इकाइयों में) क्या है?

Options:

1) 12

2) 24

3) 15

4) 60

Correct Answer: 15

Candidate Answer: 15

QID : 155 - AB is a chord of the circle and its center is "O". ON is perpendicular to AB. If the length of AB=20 cm, ON=($2\sqrt{11}$) cm, find the radius (in cm) of the circle.

AB वृत्त की जीवा है और वृत्त का केंद्र "O" है। यदि AB की लम्बाई 20 सें. मी., ON=($2\sqrt{11}$) सें. मी. है, तो वृत्त की त्रिज्या (सें. मी. में) ज्ञात कीजिये।

Options:

1) 10

2) 12

3) 13

4) 15

Correct Answer: 12

Candidate Answer: 12

QID : 156 - The largest chord of the circle has a length of 20.4 cm. The radius of the circle will be _____.

वृत्त की सबसे बड़ी जीवा की लंबाई 20.4 सेमी है। वृत्त का त्रिज्या _____ है।

Options:

1) 10.2 cm

10.2 सेमी

2) greater than 10.2 cm

10.2 सेमी से बड़ी

3) greater than and equal to 10.2 cm

10.2 सेमी से बड़ी या बराबर

4) less than 10.2 cm

10.2 सेमी से कम

Correct Answer: 10.2 cm

10.2 सेमी

Candidate Answer: 10.2 cm

10.2 सेमी

QID : 157 - Length and breadth of a rectangle are increased by 40% and 70% respectively. What will be the percentage increase in the area of rectangle?

एक आयत की लम्बाई तथा चौड़ाई को क्रमशः 40% तथा 70% से बढ़ाया गया है। आयत के क्षेत्रफल में कितने प्रतिशत की वृद्धि होगी?

Options:

1) 118

2) 110

3) 138

4) 128

Correct Answer: 138

Candidate Answer: 138

QID : 158 - Rs 6300 is divided among A, B and C in the ratio of $1/2 : 1 : 3/5$. What is the share (in Rs) of B?

6300 रु को A, B तथा C में $1/2 : 1 : 3/5$ के अनुपात में विभाजित किया गया है। B का हिस्सा (रु में) क्या है?

Options:

1) 3300

2) 2700

3) 3000

4) 4200

Correct Answer: 3000

Candidate Answer: 3000

QID : 159 - U and V started a business by investing amounts Rs 184000 and Rs 224000 respectively. If U's share in the profit received at the end of year is Rs 20700, then what will be the total profit (in Rs) earned by them together?

U तथा V ने क्रमशः 184000 रु तथा 224000 रु की राशि निवेश करके एक व्यापार शुरू किया। यदि वर्ष के अंत में प्राप्त हुए लाभ में U का हिस्सा 20700 रु है, तो उनके द्वारा मिलकर कमाया गया कुल लाभ (रु में) क्या होगा?

Options:

1) 43200

2) 45900

3) 52300

4) 56400

Correct Answer: 45900

Candidate Answer: 45900

QID : 160 - What is the average of first 19 odd numbers?

प्रथम 19 विषम संख्याओं का औसत क्या है?

Options:

1) 9.5

2) 15.5

3) 19

4) 38

Correct Answer: 19

Candidate Answer: 19

QID : 161 - A sum becomes Rs 1392 in 2 years and Rs 1488 in 3 years at simple interest. What is the rate (in percentage) of interest per annum?

एक राशि साधारण ब्याज से 2 वर्षों में 1392 रु तथा 3 वर्षों में 1488 रु हो जाती है। प्रति वर्ष ब्याज की दर (प्रतिशत में) क्या है?

Options:

1) 8

2) 10

3) 12

4) 8.5

Correct Answer: 8

Candidate Answer: 8

QID : 162 - Selling price of a table is Rs 2808. If profit percentage is 17%, then what is the cost price (in Rs) of table?

एक मेज़ का विक्रय मूल्य 2808 रु है। यदि लाभ प्रतिशत 17% है, तो मेज़ का क्रय मूल्य (रु में) क्या है?

Options:

1) 2288

2) 2300

3) 2400

4) 3285

Correct Answer: 2400

Candidate Answer: 2400

QID : 163 - The marked price of a chair is 40% more than its cost price. If the chair is sold for Rs 520 after a discount of Rs 40, then what will be the profit percentage?

एक कुर्सी का अंकित मूल्य उसके क्रय मूल्य से 40% अधिक है। यदि कुर्सी को 40 रु की छूट के पश्चात 520 रु में बेचा गया है, तो लाभ प्रतिशत क्या होगा?

Options:

1) 33

2) 40

3) 25

4) 30

Correct Answer: 30

Candidate Answer: 30

QID : 164 - Which of the following statement(s) is/are **TRUE**?

I. $2\sqrt{3} > 3\sqrt{2}$

II. $4\sqrt{2} > 2\sqrt{8}$

निम्नलिखित में से कौन सा/से कथन सत्य है/हैं?

I. $2\sqrt{3} > 3\sqrt{2}$

II. $4\sqrt{2} > 2\sqrt{8}$

Options:

1) Only I

केवल I

2) Only II

केवल II

3) Neither I nor II

न तो I न ही II

4) Both I and II

I तथा II दोनों

Correct Answer: Neither I nor II

न तो I न ही II

Candidate Answer: Neither I nor II

न तो I न ही II

QID : 165 - X, Y and Z can do a piece of work in 30, 40 and 50 days respectively. All three of them began the work together but Y left 4 days before completion of the work. In how many days was the work completed?

X, Y तथा Z एक कार्य को क्रमशः 30, 40 तथा 50 दिनों में पूरा कर सकते हैं। तीनों मिलकर कार्य की शुरुआत करते हैं परंतु Y कार्य समाप्त होने से 4 दिन पूर्व कार्य छोड़कर चला जाता है। कार्य कितने दिनों में पूरा हुआ होगा?

Options:

- 1) 660/47
- 2) 640/47
- 3) 680/47
- 4) 665/47

Correct Answer: 660/47

Candidate Answer: 660/47

QID : 166 - A train is moving at the speed of 72 km/hr. How many seconds will it take to cover a distance of 1400 m ?

एक रेलगाड़ी 72 कि.मी./घंटा की गति से चल रही है। 1400 मी. की दूरी तय करने में वह कितने सेकण्ड लेगी?

Options:

- 1) 70
- 2) 80
- 3) 72
- 4) 84

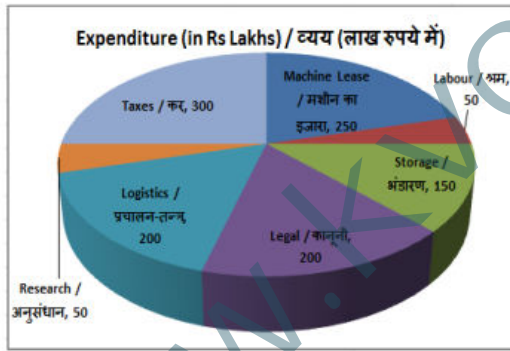
Correct Answer: 70

Candidate Answer: 70

QID : 167 -

The pie chart shows the breakup of expenditure of a mining company for the year 2017. Study the diagram and answer the following questions.

यह पाइ चार्ट वर्ष 2017 के लिए खनन कंपनी के व्यय का विभाजन प्रदर्शित करता है। इस आरेख का अध्ययन करें और निम्नलिखित प्रश्नों के उत्तर दें।



The second highest expenditure is for which item?

दूसरा सर्वाधिक व्यय किस मद पर किया जाता है ?

Options:

- 1) Labour
श्रम
- 2) Storage
भंडारण
- 3) Legal
कानूनी
- 4) Machine Lease
मशीन का इजारा

Correct Answer: Machine Lease

मशीन का इजारा

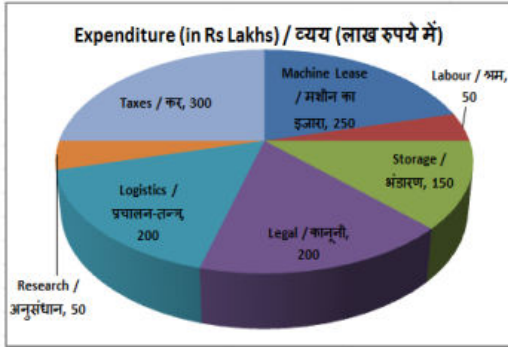
Candidate Answer: Machine Lease

मशीन का इजारा

QID : 168 -

The pie chart shows the breakup of expenditure of a mining company for the year 2017. Study the diagram and answer the following questions.

यह पाइ चार्ट वर्ष 2017 के लिए खनन कंपनी के व्यय का विभाजन प्रदर्शित करता है। इस आरेख का अध्ययन करें और निम्नलिखित प्रश्नों के उत्तर दें।



What is the total expenditure (in Rs lakhs)?

कुल व्यय (लाख रु में) क्या है ?

Options:

- 1) 1200
- 2) 900
- 3) 1000
- 4) 1100

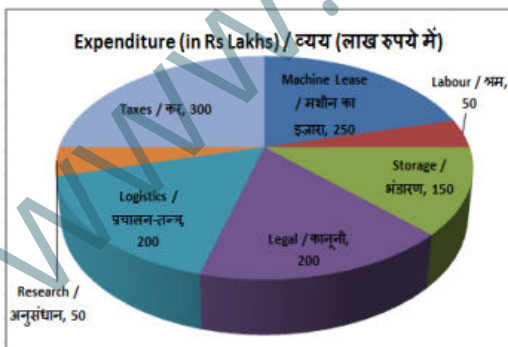
Correct Answer: 1200

Candidate Answer: 1200

QID : 169 -

The pie chart shows the breakup of expenditure of a mining company for the year 2017. Study the diagram and answer the following questions.

यह पाइ चार्ट वर्ष 2017 के लिए खनन कंपनी के व्यय का विभाजन प्रदर्शित करता है। इस आरेख का अध्ययन करें और निम्नलिखित प्रश्नों के उत्तर दें।



The measure of the central angle of the sector representing Machine Lease is _____ degrees.

मशीन का इजारा का प्रतिनिधित्व करने वाले क्षेत्र के केंद्रीय कोण का माप _____ डिग्री है।

Options:

- 1) 70
- 2) 75
- 3) 80
- 4) 90

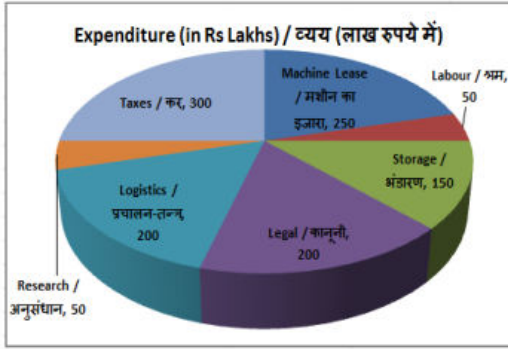
Correct Answer: 75

Candidate Answer: 75

QID : 170 -

The pie chart shows the breakup of expenditure of a mining company for the year 2017. Study the diagram and answer the following questions.

यह पाइ चार्ट वर्ष 2017 के लिए खनन कंपनी के व्यय का विभाजन प्रदर्शित करता है। इस आरेख का अध्ययन करें और निम्नलिखित प्रश्नों के उत्तर दें।



Expenditure on Labour and Research constitute what percent of total expenditure?

श्रम और अनुसंधान पर किया जाने वाला व्यय कुल व्यय का कितना प्रतिशत है?

Options:

- 1) 10%
- 2) 12%
- 3) 7.5%
- 4) 8.33%

Correct Answer: 8.33%

Candidate Answer: 8.33%

QID : 171 - The length of the diagonal and the breadth of a rectangle are 17 cm and 8 cm respectively. Find its perimeter (in cm).

एक आयत की विकर्ण की लंबाई और उसकी चौड़ाई क्रमशः 17 सें.मी. और 8 सें.मी. है। इसका परिमाण (सें.मी. में) ज्ञात करें।

Options:

- 1) 92
- 2) 46
- 3) 42
- 4) 84

Correct Answer: 46

Candidate Answer: 46

QID : 172 - The area of a semicircle is 1925 cm^2 . Calculate its perimeter (in cm).

एक अर्धवृत्त का क्षेत्रफल 1925 वर्ग सें.मी. है। इसके परिमाण (सें.मी. में) की गणना करें।

Options:

- 1) 360
- 2) 80
- 3) 160
- 4) 180

Correct Answer: 180

Candidate Answer: 180

QID : 173 - The surface area of a sphere is 5544 cm^2 . Find its diameter (in cm).

एक गोले के सतह का क्षेत्रफल 5544 वर्ग सें.मी. है। इसका व्यास (सें.मी. में) ज्ञात करें।

Options:

- 1) 42
- 2) 21
- 3) 84
- 4) 63

Correct Answer: 42

Candidate Answer: 42

QID : 174 - $\triangle ABC$ is right angled at B. If $m\angle A = 45^\circ$, then find the value of $(\operatorname{cosec} C + 1/\sqrt{3})$.

$\triangle ABC$ में B पर समकोण है। यदि $m\angle A = 45^\circ$ है, तो $(\operatorname{cosec} C + 1/\sqrt{3})$ का मान ज्ञात करें।

Options:

- 1) $(3\sqrt{2}+1)/3$
- 2) $(2+\sqrt{3})/2$
- 3) $5/\sqrt{3}$
- 4) $(\sqrt{6}+1)/\sqrt{3}$

Correct Answer: $(\sqrt{6}+1)/\sqrt{3}$

Candidate Answer: $(\sqrt{6}+1)/\sqrt{3}$

QID : 175 - In ΔUVW measure of angle V is 90° . If $\text{cosec}U = 13/12$, and $UV = 2.5\text{cm}$, then what is the length (in cm) of side VW ?

ΔUVW में कोण V का माप 90° है। यदि $\text{cosec}U = 13/12$ और $UV = 2.5$ सें.मी., तो भुजा VW की लंबाई (सें.मी. में) क्या है?

Options:

- 1) 6.5
- 2) 6
- 3) 4
- 4) 5.6

Correct Answer: 6

Candidate Answer: 6

QID : 176 - In which of the following types of economy are the factors of production owned individually?

निम्नलिखित अर्थव्यवस्था में से कौन उत्पादन के कारकों पर व्यक्तिगत स्वामित्व रखता है?

Options:

- 1) Capitalist
पूंजीवादी
- 2) Socialist
समाजवादी
- 3) Mixed
मिश्रित
- 4) Both Capitalist and Socialist
पूंजीवादी और समाजवादी दोनों

Correct Answer: Capitalist

पूंजीवादी

Candidate Answer: Capitalist

पूंजीवादी

QID : 177 - Which committee was set up to review the concept of the poverty line?

गरीबी रेखा की अवधारणा की समीक्षा के लिए कौन-सी समिति गठित की गई थी?

Options:

- 1) S Tendulkar Committee
एस तेंदुलकर समिति
- 2) Lakdawala Committee
लकड़ावाला समिति
- 3) Wanchoo Committee
वांचू समिति
- 4) Dutt Committee
दत्त समिति

Correct Answer: S Tendulkar Committee

एस तेंदुलकर समिति

Candidate Answer: [NOT ANSWERED]

QID : 178 - Which of the following places presents the oldest evidence of Neolithic Era?

निम्न में से कौन-सा स्थल नवपाषाण युग का प्राचीनतम प्रमाण प्रस्तुत करता है?

Options:

- 1) Chirnd
चिरंद
- 2) Mehrgarh
मेहरगढ़
- 3) Burghome
बुर्जहोम
- 4) Daimabad
दैमाबाद

Correct Answer: Mehrgarh

मेहरगढ़

Candidate Answer: Daimabad

दैमाबाद

QID : 179 - Which mosque is considered to be the style of Bengal style in Agra?

आगरा में किस मस्जिद पर बंगाल शैली का प्रभाव माना जाता है?

Options:

- 1) Nagina Masjid
नगीना मस्जिद
- 2) Moti Masjid
मोती मस्जिद
- 3) Jama Masjid
जामा मस्जिद
- 4) Badshahi Masjid
बादशाही मस्जिद

Correct Answer: Nagina Masjid
नगीना मस्जिद

Candidate Answer: Jama Masjid
जामा मस्जिद

QID : 180 - According to the distance of planets from the Sun, which of the following order is correct?

सूर्य से बढ़ती दूरी के अनुसार ग्रहों का निम्नलिखित में से कौन-सा क्रम सही है?

Options:

1) Mercury, Venus, Earth, Mars

बुध, शुक्र, पृथ्वी, मंगल

2) Mercury, Earth, Mars, Venus

बुध, पृथ्वी, मंगल, शुक्र

3) Mercury, Mars, Earth, Venus

बुध, मंगल, पृथ्वी, शुक्र

4) Mercury, Mars, Venus, Earth

बुध, मंगल, शुक्र, पृथ्वी

Correct Answer: Mercury, Venus, Earth, Mars

बुध, शुक्र, पृथ्वी, मंगल

Candidate Answer: Mercury, Venus, Earth, Mars

बुध, शुक्र, पृथ्वी, मंगल

QID : 181 - How many states of India have sea-shore?

भारत के कितने राज्यों में समुद्र तट हैं?

Options:

1) 7

2) 8

3) 9

4) 10

Correct Answer: 9

Candidate Answer: 10

QID : 182 - Amir Khusrow was the disciple of whom?

अमीर खुसरो किसके शिष्य थे?

Options:

1) Mirza Ghiyas Beg

मिर्ज़ा ग्यासबेग

2) Nizamuddin Auliya

निजामुद्दीन औलिया

3) Asadulla Beg

असदुल्ला बेग

4) Sheikh Salim Chisti

शेख सलीम चिश्ती

Correct Answer: Nizamuddin Auliya

निजामुद्दीन औलिया

Candidate Answer: Asadulla Beg

असदुल्ला बेग

QID : 183 - Which year has been set as goal for completing the Mumbai-Ahmedabad bullet train project operated with the help of Japan?

जापान की सहायता से संचालित मुंबई-अहमदाबाद बुलेट ट्रेन परियोजना को पूरा करने के लिए किस वर्ष का लक्ष्य निर्धारित किया गया है?

Options:

1) 2022

2) 2023

3) 2024

4) 2025

Correct Answer: 2023

Candidate Answer: 2022

QID : 184 - Krishna Sobti is the recipient of the 53rd Jnanpith Award. Which of the following books has not been written by her?

कृष्णा सोबती 53वें ज्ञानपीठ पुरस्कार की प्राप्तकर्ता हैं। निम्नलिखित में से कौन-सी पुस्तक उनके द्वारा नहीं लिखी गई है?

Options:

1) Daar Se Bichhudi

डर से बिछुड़ी

2) Mitro Marjani

मित्रो मरजानी

3) Zindaginama

ज़िंदगीनामा

4) Vishw Mithok Sarit Sagar

विश्व मिथक सरित सागर

Correct Answer: Vishw Mithok Sarit Sagar

विश्व मिथक सरित सागर

Candidate Answer: Vishw Mithok Sarit Sagar

विश्व मिथक सरित सागर

QID : 185 - Which of the following countries border does not touch China?

निम्नलिखित में किस देश की सीमा चीन से नहीं लगती है?

Options:

- 1) Cambodia
कम्बोडिया
- 2) Laos
लाओस
- 3) Vietnam
वियतनाम
- 4) Myanmar
म्यांमार

Correct Answer: Cambodia
कम्बोडिया

Candidate Answer: Laos
लाओस

QID : 186 - Rayon is obtained from which among the following?

रेयॉन निम्नलिखित में से किससे प्राप्त किया जाता है?

Options:

- 1) Silk
रेशम
- 2) Wood pulp
काष्ठ लुगदी
- 3) Wool
ऊन
- 4) Cotton
कपास

Correct Answer: Wood pulp
काष्ठ लुगदी

Candidate Answer: Silk
रेशम

QID : 187 - Which of the following can be beaten and converted into thin sheets?

निम्नलिखित में से किसको पीटकर पतली चादर में परिवर्तित किया जा सकता है?

Options:

- 1) Zinc
जस्ता
- 2) Phosphorus
फॉस्फोरस
- 3) Sulphur
सल्फर
- 4) Oxygen
ऑक्सीजन

Correct Answer: Zinc
जस्ता

Candidate Answer: Zinc
जस्ता

QID : 188 - Prime Minister of India is de-facto head of which of the following bodies?

- I. NITI Aayog
- II. National Integration Council
- III. Indian Board of Wildlife

भारत के प्रधानमंत्री निम्नलिखित में से किन निकायों के वस्तुतः मुखिया होते हैं?

- I. नीति आयोग
- II. राष्ट्रीय एकता परिषद्
- III. भारतीय वन्य जीव बोर्ड

Options:

- 1) Only I
केवल I
- 2) Only II
केवल II
- 3) Both II and III
II तथा III दोनों
- 4) All I, II and III
I, II तथा III सभी

Correct Answer: All I, II and III
I, II तथा III सभी

Candidate Answer: All I, II and III
I, II तथा III सभी

QID : 189 - Which type of city administration controls larger urban area?

नगर प्रशासन का कौन सा प्रकार बड़े शहरी क्षेत्रों का नियंत्रण करता है?

Options:

- 1) Nagar Panchayat
नगर पंचायत
- 2) Municipal Council
नगरपालिका परिषद
- 3) Municipal Corporation
नगर निगम
- 4) No option is correct.
कोई विकल्प सही नहीं है।

Correct Answer: Municipal Corporation
नगर निगम

Candidate Answer: Municipal Corporation
नगर निगम

QID : 190 - Which among the following is **NOT** an event during the photosynthesis process?

निम्नलिखित में से कौन सी प्रकाश संश्लेषण प्रक्रम के दौरान एक घटना **नहीं** है?

Options:

- 1) Absorption of light energy by chlorophyll
पर्णहरित (क्लोरोफिल) द्वारा प्रकाश उर्जा का अवशोषण
- 2) Conversion of light energy to chemical energy
प्रकाश उर्जा को रासायनिक उर्जा में रूपांतरण
- 3) Splitting of water molecules into hydrogen and oxygen
जल अणुओं का हाइड्रोजन तथा ऑक्सीजन में अपघटन
- 4) Oxidation of carbon dioxide to carbohydrates
कार्बन डाइऑक्साइड का कार्बोहाइड्रेट में ऑक्सीकरण

Correct Answer: Oxidation of carbon dioxide to carbohydrates
कार्बन डाइऑक्साइड का कार्बोहाइड्रेट में ऑक्सीकरण

Candidate Answer: Oxidation of carbon dioxide to carbohydrates
कार्बन डाइऑक्साइड का कार्बोहाइड्रेट में ऑक्सीकरण

QID : 191 - The smallest blood vessels which are one-cell thick, are called _____.

सबसे छोटी वाहिकाएँ जो एक कोशिकीय मोटी होती हैं, _____ कहलाती हैं।

Options:

- 1) vena cava
महाशिरा
- 2) arteries
धमनियाँ
- 3) veins
शिराएँ
- 4) capillaries
केशिकाएँ

Correct Answer: capillaries
केशिकाएँ

Candidate Answer: capillaries
केशिकाएँ

QID : 192 - In September 2017, who launched 'Pradhan Mantri LPG Panchayat Yojna'?

सितम्बर 2017 में, 'प्रधानमंत्री एलपीजी पंचायत योजना' का लोकार्पण किसने किया?

Options:

- 1) Narendra Modi
नरेंद्र मोदी
- 2) Dharmendra Pradhan
धर्मेंद्र प्रधान
- 3) Piyush Goyal
पीयूष गौयल
- 4) R.K. Singh
आर.के. सिंह

Correct Answer: Dharmendra Pradhan
धर्मेंद्र प्रधान

Candidate Answer: Narendra Modi
नरेंद्र मोदी

QID : 193 - What are the names of the two identical long tailed macaques cloned by the Chinese Scientists?

चीन के वैज्ञानिकों द्वारा क्लोन किए गए दो अभिन्न लंबी-पूँछ वाले मकैकों के नाम क्या हैं?

Options:

- 1) Long Hong and Zhua Zhua
लॉन्ग हॉन्ग तथा झुआ झुआ
- 2) Zhong-Zhong and Hua Hua
झॉन्ग-झॉन्ग तथा हुआ हुआ
- 3) Tailong and Shanua
तैलंग तथा शानुआ
- 4) Rongla and Shamone
रोंगला तथा शमौने

Correct Answer: Zhong-Zhong and Hua Hua
झॉन्ग-झॉन्ग तथा हुआ हुआ

Candidate Answer: [NOT ANSWERED]

QID : 199 - Which of the statements given below are correct?

- A) United Arab Emirates hosted the Badminton 2017 BWF World Senior Championships.
- B) Johanna Konta won the Tennis 2017 Miami Open Women's Singles.
- C) Grigor Dimitrov won the Tennis 2017 US Open Men's Singles.

निम्नलिखित में से कौन सा कथन सत्य है?

- A) संयुक्त अरब अमीरात ने बैडमिन्टन 2017 बीडब्ल्यूएफ वर्ल्ड सीनियर चैम्पियनशिप की मेजबानी की।
- B) जोहाना कोंटा ने टेनिस 2017 मियामी ओपन वूमैस सिंगल्स जीता।
- C) ग्रिगोर दिमित्रोव ने टेनिस 2017 यूएस ओपन मेन्स सिंगल्स जीता।

Options:

- 1) Only B
केवल B
- 2) Only C
केवल C
- 3) B and C
B और C
- 4) A, B and C
A, B और C

Correct Answer: Only B
केवल B

Candidate Answer: [NOT ANSWERED]

QID : 200 - In Microsoft Word, under character formatting _____ is used to apply colors to the characters.

माइक्रोसॉफ्ट वर्ड में, कैरेक्टर फॉर्मेटिंग के अंतर्गत, ____ का उपयोग संप्रतीकों को रंगने के लिए किया जाता है।

Options:

- 1) Font style
फॉन्ट शैली
- 2) Font color
फॉन्ट का रंग
- 3) Effects
प्रभाव
- 4) Size
आकार

Correct Answer: Font color
फॉन्ट का रंग

Candidate Answer: Effects
प्रभाव

www.kvcl assesses.com