



**Staff Selection Commission**  
(Government Of India)

**REGISTRATION NUMBER :** WWW.QMATHS.IN  
**EXAM DATE :** 15-March-2018  
**EXAM NAME :** SSC Examination TOTAL  
**MARKS :** 200

**CANDIDATE NAME :** WWW.QMATHS.IN  
**EXAM START TIME :** 13:30:00 EXAM  
**DURATION :** 01:00 Hrs **TOTAL NO OF QUESTIONS :** 100

**QID : 101** - In the following question, some part of the sentence may have errors. Find out which part of the sentence has an error and select the appropriate option. If a sentence is free from error, select 'No Error'.

The fire in the (1)/ chemistry lab was (2)/ difficult to put off. (3)/ No error (4)

**Options:**

- 1) 1
- 2) 2
- 3) 3
- 4) 4

**Correct Answer:** 3

**Candidate Answer:** 2

**QID : 102** - In the following question, some part of the sentence may have errors. Find out which part of the sentence has an error and select the appropriate option. If a sentence is free from error, select 'No Error'.

Saving water and ensuring that our stocks of water (1)/ are fair distributed to everyone who needs them, (2)/ is absolutely crucial for keeping us alive. (3)/ No error (4)

**Options:**

- 1) 1
- 2) 2
- 3) 3
- 4) 4

**Correct Answer:** 2

**Candidate Answer:** 3

**QID : 103** - In the following question, the sentence given with blank to be filled in with an appropriate word. Select the correct alternative out of the four and indicate it by selecting the appropriate option.

She \_\_\_\_\_ in a small European country.

**Options:**

- 1) nourished
- 2) better
- 3) satisfied
- 4) lived

**Correct Answer:** lived

**Candidate Answer:** lived

**QID : 104** - In the following question, the sentence given with blank to be filled in with an appropriate word. Select the correct alternative out of the four and indicate it by selecting the appropriate option.

When bad things happen to good people they become \_\_\_\_\_ not worse.

**Options:**

- 1) authentic
- 2) unrealistic
- 3) better
- 4) ideal

**Correct Answer:** better

**Candidate Answer:** ideal

**QID : 105** - In the following question, out of the given four alternatives, select the one which best expresses the meaning of the given word.

**Glib**

**Options:**

- 1) Quiet
- 2) Artful
- 3) Dull
- 4) Hard

**Correct Answer:** Artful

**Candidate Answer:** Quiet

**QID : 106** - In the following question, out of the given four alternatives, select the one which best expresses the meaning of the given word.

**Indissoluble**

**Options:**

- 1) Fundamental
- 2) Permanent
- 3) Detachment
- 4) Inactive

**Correct Answer:** Permanent

**Candidate Answer:** Fundamental

**QID : 107** - In the following question, out of the given four alternatives, select the one which is opposite in meaning of the given word.

**Hummock**

**Options:**

- 1) Ridge
- 2) Hill
- 3) Upland
- 4) Ditch

**Correct Answer:** Ditch

**Candidate Answer:** Ridge

**QID : 108** - In the following question, out of the given four alternatives, select the one which is opposite in meaning of the given word.

**Chaste**

**Options:**

- 1) Proper
- 2) Neat
- 3) Corrupt
- 4) Controlled

**Correct Answer:** Corrupt

**Candidate Answer:** Proper

**QID : 109** - Rearrange the parts of the sentence in correct order.

**North India**

**P :** needs a more holistic solution

**Q :** to the toxic air that residents

**R :** breathe at the onset of winter

**Options:**

- 1) PRQ
- 2) PQR
- 3) RPQ
- 4) QRP

**Correct Answer:** PQR

**Candidate Answer:** RPQ

**QID : 110** - A sentence has been given in Active/Passive Voice. Out of the four given alternatives, select the one which best expresses the same sentence in Passive/Active Voice.

**The girl is ascending the Everest.**

**Options:**

- 1) The Everest is being ascended by the girl.
- 2) The Everest was being ascended by the girl.
- 3) The girl ascended the Everest.
- 4) The Everest ascended by the girl.

**Correct Answer:** The Everest is being ascended by the girl.

**Candidate Answer:** The Everest is being ascended by the girl.

**QID : 111** - A sentence has been given in Direct/Indirect Speech. Out of the four given alternatives, select the one which best expresses the same sentence in Indirect/Direct Speech.

**The contractor said, "She has finished the designs."**

**Options:**

- 1) The contractor said that she had finished the designs.
- 2) The contractor says she had finished the designs.
- 3) The contractor said that she have finished the designs.
- 4) The contractor said that she has finished the designs.

**Correct Answer:** The contractor said that she had finished the designs.

**Candidate Answer:** The contractor said that she has finished the designs.

**QID : 112** - In the following question, a word has been written in four different ways out of which only one is correctly spelt. Select the correctly spelt word.

**Options:**

- 1) Vaccuumm
- 2) Vacuum
- 3) Vaecum
- 4) Wacuum

**Correct Answer:** Vacuum

**Candidate Answer:** Vacuum

**QID : 113 - In the following passage, some of the words have been left out. Read the passage carefully and select the correct answer for the given blank out of the four alternatives.**

The abuse of phrases and the misuse of words rife among us can be checked \_\_\_\_\_ diligent exercises in good English, such as this book provides. \_\_\_\_\_ exercises, in conjunction \_\_\_\_\_ others to be found in different volumes by the same author, will serve to correct careless diction and slovenly speech, and lead to the art of speaking and writing correctly; for, after all, \_\_\_\_\_ in the use of words is more a matter of habit than of theory, and once it is acquired it becomes just as easy to speak or to write good English \_\_\_\_\_ bad English.

**can be checked \_\_\_\_\_ diligent exercises**

**Options:**

- 1) by
- 2) to
- 3) at
- 4) so

**Correct Answer:** by

**Candidate Answer:** by

**QID : 114 - In the following passage, some of the words have been left out. Read the passage carefully and select the correct answer for the given blank out of the four alternatives.**

The abuse of phrases and the misuse of words rife among us can be checked \_\_\_\_\_ diligent exercises in good English, such as this book provides. \_\_\_\_\_ exercises, in conjunction \_\_\_\_\_ others to be found in different volumes by the same author, will serve to correct careless diction and slovenly speech, and lead to the art of speaking and writing correctly; for, after all, \_\_\_\_\_ in the use of words is more a matter of habit than of theory, and once it is acquired it becomes just as easy to speak or to write good English \_\_\_\_\_ bad English.

**this book provides. \_\_\_\_\_ exercises,**

**Options:**

- 1) This
- 2) These
- 3) That
- 4) Those

**Correct Answer:** These

**Candidate Answer:** These

**QID : 115 - In the following passage, some of the words have been left out. Read the passage carefully and select the correct answer for the given blank out of the four alternatives.**

The abuse of phrases and the misuse of words rife among us can be checked \_\_\_\_\_ diligent exercises in good English, such as this book provides. \_\_\_\_\_ exercises, in conjunction \_\_\_\_\_ others to be found in different volumes by the same author, will serve to correct careless diction and slovenly speech, and lead to the art of speaking and writing correctly; for, after all, \_\_\_\_\_ in the use of words is more a matter of habit than of theory, and once it is acquired it becomes just as easy to speak or to write good English \_\_\_\_\_ bad English.

**in conjunction \_\_\_\_\_ others to be found**

**Options:**

- 1) between
- 2) midst
- 3) with
- 4) in

**Correct Answer:** with

**Candidate Answer:** with

**QID : 116 - In the following passage, some of the words have been left out. Read the passage carefully and select the correct answer for the given blank out of the four alternatives.**

The abuse of phrases and the misuse of words rife among us can be checked \_\_\_\_\_ diligent exercises in good English, such as this book provides. \_\_\_\_\_ exercises, in conjunction \_\_\_\_\_ others to be found in different volumes by the same author, will serve to correct careless diction and slovenly speech, and lead to the art of speaking and writing correctly; for, after all, \_\_\_\_\_ in the use of words is more a matter of habit than of theory, and once it is acquired it becomes just as easy to speak or to write good English \_\_\_\_\_ bad English.

**after all, \_\_\_\_\_ in the use of words**

**Options:**

- 1) accurate
- 2) accuracy
- 3) accurately
- 4) accuratenesses

**Correct Answer:** accuracy

**Candidate Answer:** accurate

**QID : 117 - In the following passage, some of the words have been left out. Read the passage carefully and select the correct answer for the given blank out of the four alternatives.**

The abuse of phrases and the misuse of words rife among us can be checked \_\_\_\_\_ diligent exercises in good English, such as this book provides. \_\_\_\_\_ exercises, in conjunction \_\_\_\_\_ others to be found in different volumes by the same author, will serve to correct careless diction and slovenly speech, and lead to the art of speaking and writing correctly; for, after all, \_\_\_\_\_ in the use of words is more a matter of habit than of theory, and once it is acquired it becomes just as easy to speak or to write good English \_\_\_\_\_ bad English.

**write good English \_\_\_\_\_ bad English.**

**Options:**

- 1) so
- 2) such
- 3) as
- 4) like

**Correct Answer:** as

**Candidate Answer:** such

**QID : 118 - In the following question, out of the four alternatives, select the alternative which best expresses the meaning of the idiom/phrase.**

**Be glad to see the back of**

**Options:**

- 1) Be always welcome whenever you go back.
- 2) Talk bad about somebody you hate behind their back.
- 3) Be happy when a person leaves.
- 4) Feel happy that you backed off from a fruitless plan.

**Correct Answer:** Be happy when a person leaves.

**Candidate Answer:** Talk bad about somebody you hate behind their back.

**QID : 119 - In the following question, out of the four alternatives, select the alternative which best expresses the meaning of the idiom/phrase.**

**Crunch time**

**Options:**

- 1) A time when everything seems to go wrong.
- 2) A time to hit the gym do some heavy exercise.
- 3) A critical moment near the end of a game when decisive action is needed.
- 4) The capable standout during tough situations.

**Correct Answer:** A critical moment near the end of a game when decisive action is needed.

**Candidate Answer:** A critical moment near the end of a game when decisive action is needed.

**QID : 120 - In the following question, out of the four alternatives, select the alternative which is the best substitute of the words/sentence.**

**Place or insert between one thing and another**

**Options:**

- 1) Oust
- 2) Efface
- 3) Purge
- 4) Interpose

**Correct Answer:** Interpose

**Candidate Answer:** Interpose

**QID : 121 - In the following question, out of the four alternatives, select the alternative which is the best substitute of the words/sentence.**

**Making or spreading scandalous claims about someone with the intention of damaging their reputation**

**Options:**

- 1) Exemplary
- 2) Laudable
- 3) Scurrilous
- 4) Stellar

**Correct Answer:** Scurrilous

**Candidate Answer:** Scurrilous

**QID : 122 - In the following question, out of the four alternatives, select the alternative which will improve the bracketed part of the sentence. In case no improvement is needed, select "no improvement".**

No two individuals (**arriving**) at the same conclusions and associations.

**Options:**

- 1) will arrive
- 2) to arrive
- 3) been arrived
- 4) no improvement

**Correct Answer:** will arrive

**Candidate Answer:** been arrived

**QID : 123 - In the following question, out of the four alternatives, select the alternative which will improve the bracketed part of the sentence. In case no improvement is needed, select "no improvement".**

The bigger a group the less are the chances of an individual (**get**) the requisite attention when necessary.

**Options:**

- 1) getting
- 2) to get
- 3) got
- 4) no improvement

**Correct Answer:** getting

**Candidate Answer:** to get

**QID : 124** - The question below consists of a set of labelled sentences. Out of the four options given, select the most logical order of the sentences to form a coherent paragraph.

**I am also a**

**A**-mother of three children in their

**B**-the wanderlust generation

**C**-twenties who belong to

**Options:**

- 1) ABC
- 2) CAB
- 3) ACB
- 4) BAC

**Correct Answer:** ACB

**Candidate Answer:** BAC

**QID : 125** - In the following question, four words are given out of which one word is correctly spelt. Select the correctly spelt word.

**Options:**

- 1) falsefication
- 2) falsification
- 3) falsifikation
- 4) falsefikation

**Correct Answer:** falsification

**Candidate Answer:** falsification

**QID : 126** - In the following question, select the related word pair from the given alternatives.

**Pressure : Pascal :: ? : ?**

निम्नलिखित प्रश्न में दिए गए विकल्पों में से संबंधित शब्द युग्म को चुनिए।

**दाब : पास्कल :: ? : ?**

**Options:**

- 1) Length : Litre  
लम्बाई : लीटर
- 2) Resistance : Ohm  
प्रतिरोध : ओम
- 3) Litre : Volume  
लीटर : आयतन
- 4) Area : Second  
क्षेत्रफल : सेकण्ड

**Correct Answer:** Resistance : Ohm

प्रतिरोध : ओम

**Candidate Answer:** Resistance : Ohm

प्रतिरोध : ओम

**QID : 127** - In the following question, select the related number from the given alternatives.

**31 : 3 :: 23 : ?**

निम्नलिखित प्रश्न में दिए गए विकल्पों में से संबंधित संख्या को चुनिए।

**31 : 3 :: 23 : ?**

**Options:**

- 1) 7
- 2) 6
- 3) 5
- 4) 8

**Correct Answer:** 6

**Candidate Answer:** 6

**QID : 128** - In the following question, select the related letter/letters from the given alternatives.

**KMN : OQR :: SUV : ?**

निम्नलिखित प्रश्न में दिए गए विकल्पों में से संबंधित अक्षर/अक्षरों को चुनिए।

**KMN : OQR :: SUV : ?**

**Options:**

- 1) VWY
- 2) WXZ
- 3) WYZ
- 4) XYZ

**Correct Answer:** WYZ

**Candidate Answer:** WYZ

**QID : 129** - In the following question, select the odd word pair from the given alternatives.

निम्नलिखित प्रश्न में दिए गए विकल्पों में से विषम शब्द युग्म को चुनिए।

**Options:**

- 1) January – 31,  
जनवरी – 31
- 2) July – 30  
जुलाई – 30
- 3) June – 30  
जून – 30
- 4) September – 30  
सितम्बर – 30

**Correct Answer:** July – 30

जुलाई – 30

**Candidate Answer:** July – 30

जुलाई – 30

**QID : 130** - In the following question, four number pairs are given. The number on left side of (–) is related to the number on the right side of (–) with some Logic/Rule/Relation. Three are similar on basis of same Logic/Rule/Relation. Select the odd one out from the

नीचे दिए गए प्रश्न में, चार संख्या युग्म दिए गए हैं। (–) के बायीं ओर दी संख्या (–) के दायीं ओर दी गई संख्या से तर्क/नियम से सम्बंधित है। तीन उसी एक तर्क/नियम के आधार पर समान हैं। दिए गए विकल्पों में से भिन्न को चुनिए।

**Options:**

- 1) 15 – 45
- 2) 11 – 33
- 3) 15 – 55
- 4) 19 – 57

**Correct Answer:** 15 – 55

**Candidate Answer:** [ NOT ANSWERED ]

**QID : 131** - In the following question, select the odd letter/letters from the given alternatives.

निम्नलिखित प्रश्न में दिए गए विकल्पों में से विषम अक्षर/अक्षरों को चुनिए।

**Options:**

- 1) BGK
- 2) HMR
- 3) LQV
- 4) FKP

**Correct Answer:** BGK

**Candidate Answer:** LQV

**QID : 132** - From the given alternatives, according to dictionary, which word will come at **LAST** position?

1. Armed
2. Atlas
3. Armour
4. Aspirin
5. Arrival

दिए गए विकल्पों में से, शब्दकोश के अनुसार, कौन सा शब्द **अंतिम** स्थान पर आयेगा?

1. Armed
2. Atlas
3. Armour
4. Aspirin
5. Arrival

**Options:**

- 1) Arrival
- 2) Atlas
- 3) Armed
- 4) Aspirin

**Correct Answer:** Atlas

**Candidate Answer:** Arrival

**QID : 133** - In the following question, select the missing number from the given series.

42, 21, 21, ?, 63, 157.5

निम्नलिखित प्रश्न में दिए गए विकल्पों में से लुप्त अंक ज्ञात कीजिए।

42, 21, 21, ?, 63, 157.5

**Options:**

- 1) 30.75
- 2) 32.5
- 3) 31.5
- 4) 33.75

**Correct Answer:** 31.5

**Candidate Answer:** 31.5

**QID : 134** - A series is given with one term missing. Select the correct alternative from the given ones that will complete the series.

F, J, M, Q, T, X, ?

एक अनुक्रम दिया गया है, जिसमें से एक पद लुप्त है। दिए गए विकल्पों में से वह सही विकल्प चुनिए, जो अनुक्रम को पूरा करे।

F, J, M, Q, T, X, ?

**Options:**

- 1) B
- 2) Z
- 3) Y
- 4) A

**Correct Answer:** A

**Candidate Answer:** A

**QID : 135** - In a row of students, Ankit is 26<sup>th</sup> from the left end. Poonam is 18 ranks to the right of Ankit. If Poonam is 32<sup>nd</sup> from the right end, then what will be the rank of Ankit from the right end?

छात्रों की एक पंक्ति में, अंकित बायें छोर से 26-वाँ है। पूनम, अंकित से 18 स्थान दायीं ओर है। यदि पूनम दायें छोर से 32-वीं है, तो दायें छोर से अंकित का स्थान क्या होगा?

**Options:**

- 1) 52
- 2) 51
- 3) 76
- 4) 50

**Correct Answer:** 50

**Candidate Answer:** 50

**QID : 136** - From the given alternatives, select the word which **CANNOT** be formed using the letters of the given word.

**Commensurate**

दिए गए विकल्पों में से वह शब्द चुनिए जो दिए गए शब्द के अक्षरों का प्रयोग करके **नहीं** बनाया जा सकता है।

**Commensurate**

**Options:**

- 1) Rate
- 2) Sure
- 3) Men
- 4) Company

**Correct Answer:** Company

**Candidate Answer:** Sure

**QID : 137** - In a certain code language, "TRUCKS" is written as "WPXANQ". How is "MOPERS" written in that code language?

एक विशिष्ट कोड भाषा में, "TRUCKS" को "WPXANQ" लिखा जाता है। इस कोड भाषा में "MOPERS" को किस प्रकार लिखा जाएगा?

**Options:**

- 1) XMSCNO
- 2) PMSCUQ
- 3) MXPMNQ
- 4) UCSMXQ

**Correct Answer:** PMSCUQ

**Candidate Answer:** PMSCUQ

**QID : 138** - In a certain code language, '!' represents '+', '+' represents 'x', 'x' represents '÷' and '÷' represents '!'. Find out the answer to the following question.

$16 \times 4 \div 15 - 9 + 4 = ?$

किसी निश्चित कोड भाषा में '!', '+' को प्रदर्शित करता है, '+' को प्रदर्शित करता है, 'x', '÷' को प्रदर्शित करता है और '÷', '!' को प्रदर्शित करता है। निम्नलिखित प्रश्न का उत्तर ज्ञात करें।

$16 \times 4 \div 15 - 9 + 4 = ?$

**Options:**

- 1) 10
- 2) 21
- 3) 41
- 4) 25

**Correct Answer:** 25

**Candidate Answer:** 21

**QID : 139** - The following equation is incorrect. Which two signs should be interchanged to correct the equation?

$$15 \times 2 + 10 - 8 \div 20 = 15$$

निम्नलिखित समीकरण गलत है। इस समीकरण को सही करने के लिए किन दो चिन्हों को आपस में अदला-बदली करना चाहिए?

$$15 \times 2 + 10 - 8 \div 20 = 15$$

**Options:**

- 1) - and +  
- और +
- 2)  $\div$  and  $\times$   
 $\div$  और  $\times$
- 3) + and  $\div$   
+ और  $\div$
- 4)  $\times$  and -  
 $\times$  और -

**Correct Answer:** + and  $\div$

+ और  $\div$

**Candidate Answer:**  $\div$  and  $\times$

$\div$  और  $\times$

**QID : 140** - If  $15\#2 = 26$ ,  $11\#3 = 16$  and  $10\#9 = 2$ , then find the value of  $11\#4 = ?$

यदि  $15\#2 = 26$ ,  $11\#3 = 16$  और  $10\#9 = 2$ , तो  $11\#4 = ?$  का मान ज्ञात करें।

**Options:**

- 1) 4
- 2) 6
- 3) 14
- 4) 16

**Correct Answer:** 14

**Candidate Answer:** 6

**QID : 141** - Which of the following terms follows the trend of the given list?

$YXZYXYXY, YXYXZYXY, YXYXYXZY, YZXYXYXY, YXYZYXYX, \underline{\hspace{2cm}}$ .

निम्नलिखित में से कौन सा पद दी गयी सूची के क्रम के अनुसार है?

$YXZYXYXY, YXYXZYXY, YXYXYXZY, YZXYXYXY, YXYZYXYX, \underline{\hspace{2cm}}$ .

**Options:**

- 1) ZYXYXYXY
- 2) YXZYXYXY
- 3) YXYXZYXY
- 4) YXYXZYXY

**Correct Answer:** YXYXZYXY

**Candidate Answer:** YXZYXYXY

**QID : 142** - Two women A and B start their morning run from the same point. A runs 3 km North, then turns West and runs 2 km, then turns to her right and runs 5.5 km. B runs 4 km West then turns to her right and runs 8.5 km. Where is B with respect to A now?

दो महिलाएं A और B एक ही स्थान से अपने सुबह के सैर की शुरुआत करती हैं। A उत्तर की तरफ 3 कि.मी. चलती है, फिर पश्चिम की तरफ मुड़ जाती है और 2 कि.मी. दूर तक जाती है, फिर अपने दाहिनी ओर मुड़ जाती है और 5.5 कि.मी. दूर तक जाती है। B पश्चिम की तरफ 4 कि.मी. चलती है, फिर अपने दाहिनी ओर मुड़ जाती है और 8.5 कि.मी. तक दौड़ती है। अब A के संदर्भ में B कहाँ है?

**Options:**

- 1) 6 km West  
6 कि.मी. पश्चिम
- 2) 2 km East  
2 कि.मी. पूर्व
- 3) 6 km East  
6 कि.मी. पूर्व
- 4) 2 km West  
2 कि.मी. पश्चिम

**Correct Answer:** 2 km West

2 कि.मी. पश्चिम



**Candidate Answer:** 6 km East  
6 कि.मी. पूर्व

**QID : 143** - In the question two statements are given, followed by two conclusions, I and II. You have to consider the statements to be true even if it seems to be at variance from commonly known facts. You have to decide which of the given conclusions, if any, follows from the given statements.

**Statement I:** No cans are jars  
**Statement II:** All tins are cans

**Conclusion I:** All jars are tins  
**Conclusion II:** No tins are jars

प्रश्न में दो कथन दिये गये हैं जिसके आगे दो निष्कर्ष I और II निकाले गये हैं। आपको मानना है कि दोनों कथन सत्य है चाहे वह सामान्यतः ज्ञात तथ्यों से भिन्न प्रतीत होते हों। आपको निर्णय करना है की दिए गए निष्कर्षों में से कौन-सा/कौन-से निश्चित रूप से कथन द्वारा सही निकाला जा सकता है/सकते हैं, यदि कोई हो।

**कथन I:** कोई भी डिब्बे जार नहीं होते हैं  
**कथन II:** सभी टिन डिब्बे होते हैं

**निष्कर्ष I:** सभी जार टिन होते हैं  
**निष्कर्ष II:** कोई भी टिन जार नहीं होता है

**Options:**

- 1) Only conclusion I follows  
केवल निष्कर्ष I सही है
- 2) Only conclusion II follows  
केवल निष्कर्ष II सही है
- 3) Both conclusions I and II follow  
दोनों निष्कर्ष I और II सही है
- 4) Neither conclusion I nor conclusion II follows  
ना तो निष्कर्ष I सही है ना ही निष्कर्ष II

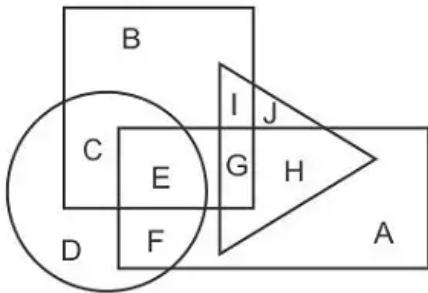
**Correct Answer:** Only conclusion II follows  
केवल निष्कर्ष II सही है

**Candidate Answer:** Both conclusions I and II follow  
दोनों निष्कर्ष I और II सही है

**QID : 144** -

In the following figure, rectangle represents Plumbers, circle represents Bakers, triangle represents Jugglers and square represents Joggers. Which set of letters represents Plumbers who are either Bakers or Jugglers?

निम्नलिखित आकृति में, आयत प्लंबर्स को प्रदर्शित करता है, वृत्त बेकर्स को प्रदर्शित करता है, त्रिभुज जगलर्स को प्रदर्शित करता है और वर्ग जॉगर्स को प्रदर्शित करता है। अक्षरों का कौन सा समूह उन प्लंबर्स को प्रदर्शित करता है जो या तो बेकर्स है या जगलर्स है?



**Options:**

- 1) HEG
- 2) AHG
- 3) FEGH
- 4) FE

**Correct Answer:** FEGH

**Candidate Answer:** FEGH

**QID : 145** - A series is given with one term missing. Select the correct alternative from the given ones that will complete the series.

**HIG, EFD, BCA, ?, VWU**

एक अनुक्रम दिया गया है, जिसमें से एक पद लुप्त है। दिए गए विकल्पों में से वह सही विकल्प चुनिए, जो अनुक्रम को पूरा करे।

**HIG, EFD, BCA, ?, VWU**

**Options:**

- 1) ABZ
- 2) XYW
- 3) ZAY
- 4) YZX

**Correct Answer:** YZX

**Candidate Answer:** ZAY

**QID : 146** - In the following question, select the missing number from the given series.

**3, 5, 7, 9, ?**

निम्नलिखित प्रश्न में दिए गए विकल्पों में से लुप्त अंक ज्ञात कीजिए।

**3, 5, 7, 9, ?**

**Options:**

- 1) 10
- 2) 11
- 3) 12
- 4) 13

**Correct Answer:** 11

**Candidate Answer:** 13

**QID : 147** - In the following question, four groups of three numbers are given. In each group the second and third number are related to the first number by a Logic/Rule/Relation. Three are similar on basis of same Logic/Rule/Relation. Select the odd one out from the given alternatives.

नीचे दिए गए प्रश्न में, तीन संख्याओं के चार समूह दिए गए हैं। प्रत्येक समूह में दूसरी तथा तीसरी संख्या पहली संख्या से किसी एक तर्क/नियम से सम्बंधित है। तीन उसी एक तर्क/नियम के आधार पर समान हैं। दिए गए विकल्पों में से भिन्न को चुनिए।

**Options:**

- 1) (23, 28, 33)
- 2) (14, 19, 25)
- 3) (26, 31, 36)
- 4) (17, 22, 27)

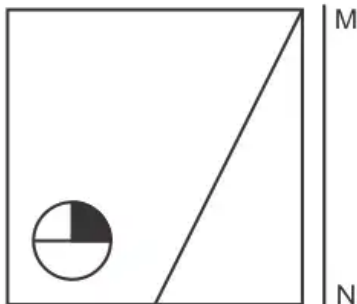
**Correct Answer:** (14, 19, 25)

**Candidate Answer:** (14, 19, 25)

**QID : 148** -

If a mirror is placed on the line MN, then which of the answer figures is the right image of the given figure?

यदि एक दर्पण को MN रेखा पर रखा जाए तो दी गयी उत्तर आकृतियों में से कौन-सी आकृति प्रश्न आकृति का सही प्रतिबिम्ब होगी?

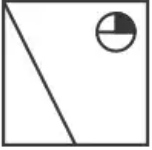


Options:

1)



2)



3)



4)



Correct Answer:



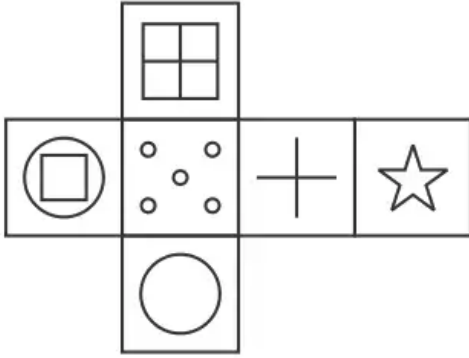
Candidate Answer:



QID : 149 -

Which of the following cube in the answer figure cannot be made based on the unfolded cube in the question figure?

निम्नलिखित उत्तर आकृति में से कौन सा घन दिए गए प्रश्न आकृति में से खुले घन से बनाया नहीं जा सकता?

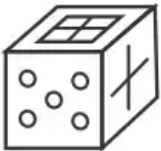


Options:

1)




2)



3)



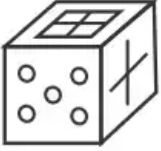
4)



Correct Answer:



Candidate Answer:



QID : 150 -

A word is represented by only one set of numbers as given in any one of the alternatives. The sets of numbers given in the alternatives are represented by two classes of alphabets as shown in the given two matrices. The columns and rows of Matrix-I are numbered from 0 to 4 and that of Matrix-II are numbered from 5 to 9. A letter from these matrices can be represented first by its row and next by its column, for example 'B' can be represented by 34, 42 etc and 'W' can be represented by 97, 89 etc. Similarly, you have to identify the set for the word 'DAMP'.

एक शब्द केवल एक संख्या-समूह द्वारा दर्शाया गया है, जैसा कि विकल्पों में से किसी एक में दिया गया है। विकल्पों में दिए गए संख्या-समूह अक्षरों के दो वर्गों द्वारा दर्शाए गए हैं, जैसा कि दिए गए दो आव्यूहों में है। आव्यूह-I के स्तम्भ और पंक्ति की संख्या 0 से 4 और आव्यूह-II की 5 से 9 है। इन आव्यूहों से एक अक्षर को पहले उसकी पंक्ति और बाद में स्तम्भ संख्या द्वारा दर्शाया जा सकता है। उदाहरण के लिए 'B' को 34, 42 आदि द्वारा दर्शाया जा सकता है तथा 'W' को 97, 89 आदि द्वारा दर्शाया जा सकता है। इसी तरह से आपको प्रश्न में दिए शब्द 'DAMP' के लिए समूह को पहचानना है।

Matrix I आव्यूह - I					
	0	1	2	3	4
0	L	C	L	B	J
1	A	E	K	F	J
2	K	M	I	A	D
3	J	F	M	D	B
4	D	G	B	M	E

Matrix II आव्यूह - II					
	5	6	7	8	9
5	X	O	T	X	S
6	Z	T	T	R	R
7	N	Y	N	T	P
8	T	X	Y	V	W
9	P	S	W	U	X

Options:

- 1) 24,10,32,79
- 2) 33,95,24,97
- 3) 32,57,40,55
- 4) 30,55,24,67

Correct Answer: 24,10,32,79

Candidate Answer: 32,57,40,55

QID : 151 -

Find the unit place digit in  $(192)^{102} + (193)^{103}$ .

$(192)^{102} + (193)^{103}$  में इकाई स्थान अंक ज्ञात करें।

Options:

- 1) 0
- 2) 1
- 3) 3
- 4) 5

Correct Answer: 1

Candidate Answer: 3

QID : 152 -

Find the greatest number among  $(2)^{\frac{1}{3}}, (3)^{\frac{1}{2}}, 1, (5)^{\frac{1}{6}}$ .

$(2)^{\frac{1}{3}}, (3)^{\frac{1}{2}}, 1, (5)^{\frac{1}{6}}$  में से सबसे बड़ी संख्या ज्ञात करें।

Options:

1)

$$(2)^{\frac{1}{3}}$$

2)

$$(3)^{\frac{1}{2}}$$

3)

1

4)

$$(5)^{\frac{1}{8}}$$

Correct Answer:

$$(3)^{\frac{1}{2}}$$

Candidate Answer:

$$(3)^{\frac{1}{2}}$$

QID : 153 -

Find the value of  $27a^3 + \frac{1}{a^3}$ , if  $9a^2 + \frac{1}{a^2} = 43$ .

$27a^3 + \frac{1}{a^3}$  का मान ज्ञात करें, यदि  $9a^2 + \frac{1}{a^2} = 43$  है।

Options:

1) 240

2) 280

3) 320

4) 360

Correct Answer: 280

Candidate Answer: 240

QID : 154 -

If  $y = \sqrt{3} - \sqrt{2}$ , then find the value of  $\left(\frac{1}{y^3} - y^3\right)$ .

यदि  $y = \sqrt{3} - \sqrt{2}$  है, तो  $\left(\frac{1}{y^3} - y^3\right)$  का मान ज्ञात करें।

Options:

1)

11

2)

$$11\sqrt{2}$$

3)

22

4)

$$22\sqrt{2}$$

Correct Answer:

$$22\sqrt{2}$$

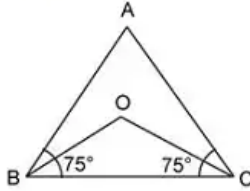
Candidate Answer:

11

**QID : 155 -**

In the given figure, the angle bisectors of B and C of an isosceles triangle intersect at point O. Find the angle BOC (in degree), when  $\angle ABC = \angle ACB = 75^\circ$ .

दी गयी आकृति में, समद्विबाहु त्रिभुज के कोण B और कोण C के समद्विभाजक O बिंदु पर मिलते हैं। कोण BOC का मान (डिग्री में) ज्ञात करें, जब  $\angle ABC = \angle ACB = 75^\circ$  है।



**Options:**

- 1) 105
- 2) 147.5
- 3) 160
- 4) 170

**Correct Answer:** 105

**Candidate Answer:** 105

**QID : 156 -** Find the in-radius (in cm) of an equilateral triangle whose sides are 6 cm each.

एक समतुल्य त्रिभुज के अंतःकेंद्र की त्रिज्या (सेमी में) ज्ञात करें, जिसकी प्रत्येक भुजा की लम्बाई 6 सेमी है।

**Options:**

- 1)  $\sqrt{3}$
- 2)  $2\sqrt{3}$
- 3)  $3\sqrt{3}$
- 4)  $4\sqrt{3}$

**Correct Answer:**

- $\sqrt{3}$
- Candidate Answer:**
- $2\sqrt{3}$

**QID : 157 -** What is the value of 64% of 75% of 8100?

8100 के 75% के 64% का मान क्या है?

**Options:**

- 1) 4212
- 2) 3426
- 3) 2916
- 4) 3888

**Correct Answer:** 3888

**Candidate Answer:** 3426

**QID : 158 -** If  $A : B = 3 : 5$ , then what is the value of  $A + B : B$ ?

यदि  $A : B = 3 : 5$  है, तो  $A + B : B$  का मान क्या है?

**Options:**

- 1) 2 : 1
- 2) 6 : 5
- 3) 8 : 5
- 4) 8 : 3

**Correct Answer:** 8 : 5

**Candidate Answer:** 8 : 5

**QID : 159 -** In a mixture, water and milk are in the ratio of 3 : 5. In the second mixture, the ratio of water and milk is 9 : 11. If these two mixtures be mixed to form a new mixture in which water and milk are in ratio 5 : 7, then what is the ratio of these two mixtures in the new mixture?

एक मिश्रण में, जल तथा दूध 3 : 5 के अनुपात में है। दूसरे मिश्रण में जल तथा दूध का अनुपात 9 : 11 है। यदि इन दोनों मिश्रणों को मिलाकर एक नया मिश्रण बनाया जाए जिसमें जल तथा दूध 5 : 7 के अनुपात में हैं, तो नए मिश्रण में इन दोनों मिश्रणों का अनुपात क्या है?

**Options:**

- 1) 1 : 2
- 2) 3 : 2
- 3) 4 : 5
- 4) 4 : 7

**Correct Answer:** 4 : 5

**Candidate Answer:** 3 : 2

**QID : 160** - The average of 10 numbers is 30. If at the time of calculation one number was wrongly taken as 36 instead of 69, then what will be the correct average?

10 संख्याओं का औसत 30 है। यदि गणना के समय एक संख्या 69 के बजाय गलती से 36 ले ली गई थी, तो सही औसत क्या होगा?

**Options:**

- 1) 33
- 2) 33.3
- 3) 36
- 4) 39

**Correct Answer:** 33.3

**Candidate Answer:** 39

**QID : 161** - Two equal sum are invested in two different schemes. One scheme gives simple interest and the other gives compound interest (annual compounding). The sum of interest obtained after 2 years from both the schemes is Rs 3717. If both scheme have 13% per annum interest rate, then what is the first year interest (in Rs) for simple interest scheme?

दो बराबर धनराशियों को दो अलग-अलग योजनाओं में लगाया गया। एक योजना साधारण ब्याज तथा दूसरी चक्रवृद्धि ब्याज (वार्षिक संयोजन) देती है। 2 वर्ष पश्चात दोनों योजनाओं से कुल ब्याज 3717 रु प्राप्त होता है। यदि दोनों योजनाओं में 13% प्रति वर्ष की दर से ब्याज है, तो साधारण ब्याज वाली योजना से पहले वर्ष का ब्याज (रु में) क्या है?

**Options:**

- 1) 900
- 2) 1200
- 3) 1500
- 4) 600

**Correct Answer:** 900

**Candidate Answer:** 900

**QID : 162** - If 70% of total articles are sold at a profit of 20% and remaining articles are sold at a loss of 20%, then what will be the overall profit percentage?

यदि कुल वस्तुओं के 70% को 20% के लाभ पर बेचा गया है तथा शेष वस्तुओं को 20% की हानि पर बेचा गया है, तो कुल लाभ प्रतिशत क्या होगा?

**Options:**

- 1) 8
- 2) 12
- 3) 16
- 4) 6

**Correct Answer:** 8

**Candidate Answer:** 12

**QID : 163** - A shopkeeper purchased a chair whose marked price is Rs 1400, at two successive discount of 20% and 30% respectively. If he sells the chair for Rs 1176, then what is the profit percentage?

एक दुकानदार एक कुर्सी जिसका अंकित मूल्य 1400 रु है, को क्रमशः 20% तथा 30% की दो क्रमिक छूट पर खरीदता है। यदि वह कुर्सी को 1176 रु में बेचता है, तो लाभ प्रतिशत क्या है?

**Options:**

- 1) 50
- 2) 33.33
- 3) 37.5
- 4) 57.5

**Correct Answer:** 50

**Candidate Answer:** 50

**QID : 164** -

What is the value of  $\frac{\sqrt[3]{64} \times \sqrt{121}}{\sqrt{289} - \sqrt{169}}$  ?

$\frac{\sqrt[3]{64} \times \sqrt{121}}{\sqrt{289} - \sqrt{169}}$  का मान क्या है?

**Options:**

- 1) 12
- 2) 11
- 3) 1/11
- 4) 1/12

**Correct Answer:** 11

**Candidate Answer:** 1/11



**QID : 165** - X is 25% more efficient than Y. If Y alone can make a chair in 10 days, then X alone can make the chair in how many days?

X, Y से 25% अधिक कार्यकुशल है। यदि Y अकेला एक कुर्सी को 10 दिन में बना सकता है, तो X अकेला कुर्सी को कितने दिनों में बना सकता है?

**Options:**

- 1) 8
- 2) 12
- 3) 12.5
- 4) 7.5

**Correct Answer:** 8

**Candidate Answer:** 8

**QID : 166** - A train starts moving from X at 5:00 p.m. and move towards Y with speed of 55 km/hr. Another train starts moving from Y at 7:00 p.m. move towards X with speed of 40 km/hr. Both of them meet at 11:00 p.m. at Z. What is the ratio of XZ and YZ?

X से एक रेलगाड़ी 5:00 बजे अपराह्न (पी.एम.) चलना आरंभ करती है तथा Y की ओर 55 कि.मी./घंटा की गति से चलती है। एक अन्य रेलगाड़ी Y से 7:00 बजे अपराह्न (पी.एम.) चलना आरंभ करती है तथा X की ओर 40 कि.मी./घंटा की गति से चलती है। दोनों रेलगाड़ियों Z पर 11:00 बजे अपराह्न (पी.एम.) मिलती है। XZ तथा YZ का अनुपात क्या है?

**Options:**

- 1) 33 : 16
- 2) 7 : 5
- 3) 29 : 27
- 4) 11 : 9

**Correct Answer:** 33 : 16

**Candidate Answer:** 33 : 16

**QID : 167** -

The line graph shows the number of vacancies for accountants in a certain company. Study the diagram and answer the following questions.

यह रेखा ग्राफ एक विशिष्ट कंपनी के अकाउंटेंट के लिए रिक्तियों की संख्या को दर्शाता है। इस आरेख का अध्ययन करें और निम्नलिखित प्रश्नों के उत्तर दें।



In which year were the number of vacancies lesser than that of the previous year?

पिछले वर्ष की तुलना में किस वर्ष में रिक्तियों की संख्या कम थी ?

**Options:**

- 1) 2015
- 2) 2014
- 3) 2016
- 4) 2017

**Correct Answer:** 2014

**Candidate Answer:** 2015

QID : 168 -

The line graph shows the number of vacancies for accountants in a certain company. Study the diagram and answer the following questions.

यह रेखा ग्राफ एक विशिष्ट कंपनी के अकाउंटेंट के लिए रिक्तियों की संख्या को दर्शाता है। इस आरेख का अध्ययन करें और निम्नलिखित प्रश्नों के उत्तर दें।



What was the difference in the number of vacancies between the years 2012 and 2014?

वर्ष 2012 और 2014 के बीच रिक्तियों की संख्या में क्या अंतर था?

**Options:**

- 1) 40
- 2) 70
- 3) 60
- 4) 50

**Correct Answer:** 50

**Candidate Answer:** 50

QID : 169 -

The line graph shows the number of vacancies for accountants in a certain company. Study the diagram and answer the following questions.

यह रेखा ग्राफ एक विशिष्ट कंपनी के अकाउंटेंट के लिए रिक्तियों की संख्या को दर्शाता है। इस आरेख का अध्ययन करें और निम्नलिखित प्रश्नों के उत्तर दें।



The number of vacancies in 2014 were lesser than that in 2015 by \_\_\_\_\_.

2015 की तुलना में 2014 में रिक्तियों की संख्या \_\_\_\_\_ से कम थी।

**Options:**

- 1) 20%
- 2) 16.7%
- 3) 10%
- 4) 8.50%

**Correct Answer:** 20%

**Candidate Answer:** 16.7%



**Candidate Answer:** 4.5

**QID : 174** -  $\Delta XYZ$  is right angled at Y. If  $m\angle Z = 45^\circ$ , then find the value of  $(\operatorname{cosec} X - 2/\sqrt{3})$ .

$\Delta XYZ$  में Y पर समकोण है। यदि  $m\angle Z = 45^\circ$  है, तो  $(\operatorname{cosec} X - 2/\sqrt{3})$  का मान ज्ञात करें।

**Options:**

- 1)  $(2-\sqrt{3})/2\sqrt{3}$
- 2)  $(1-\sqrt{6})/\sqrt{2}$
- 3)  $(\sqrt{6}-2)/\sqrt{3}$
- 4)  $-1/\sqrt{3}$

**Correct Answer:**  $(\sqrt{6}-2)/\sqrt{3}$

**Candidate Answer:**  $(\sqrt{6}-2)/\sqrt{3}$

**QID : 175** - In  $\Delta PQR$  measure of angle Q is  $90^\circ$ . If  $\tan P = 4/3$ , and  $PQ = 1.5\text{cm}$ , then what is the length (in cm) of side PR?

$\Delta PQR$  में कोण Q का माप  $90^\circ$  है। यदि  $\tan P = 4/3$  और  $PQ = 1.5$  सेंटीमीटर है, तो भुजा PR की लंबाई (सेंटीमीटर में) क्या है?

**Options:**

- 1) 2
- 2) 2.5
- 3) 3
- 4) 4.8

**Correct Answer:** 2.5

**Candidate Answer:** [ NOT ANSWERED ]

**QID : 176** - Rate of the growth of an economy is measured in terms of \_\_\_\_\_.

अर्थव्यवस्था की वृद्धि दर \_\_\_\_\_ के अनुसार मापा जाता है।

**Options:**

- 1) National income  
राष्ट्रीय आय
- 2) Monthly family income  
मासिक पारिवारिक आय
- 3) Number of people who have been lifted above the poverty line  
गरीबी रेखा से ऊपर उठाए गए लोगों की संख्या
- 4) Industrial Development  
औद्योगिक विकास

**Correct Answer:** National income

राष्ट्रीय आय

**Candidate Answer:** Number of people who have been lifted above the poverty line

गरीबी रेखा से ऊपर उठाए गए लोगों की संख्या

**QID : 177** - Which of the following Five Year Plan can be strategically associated with the Green Revolution?

निम्नलिखित किस पंचवर्षीय योजना को रणनीतिक रूप से हरित क्रांति से जोड़ा जा सकता है?

**Options:**

- 1) Second Five Year Plan  
दूसरी पंचवर्षीय योजना
- 2) Seventh Five Year Plan  
सातवीं पंचवर्षीय योजना
- 3) Fourth Five Year Plan  
चौथी पंचवर्षीय योजना
- 4) Sixth Five Year Plan  
छठी पंचवर्षीय योजना

**Correct Answer:** Fourth Five Year Plan

चौथी पंचवर्षीय योजना

**Candidate Answer:** Second Five Year Plan

दूसरी पंचवर्षीय योजना

**QID : 178** - Which of the following is a Block Mountain?

निम्नलिखित में से कौन भ्रंशोत्थ पर्वत (Block Mountain) है?

**Options:**

- 1) Vosges  
वॉस्जेस
- 2) Black forest  
ब्लैक फ़ॉरेस्ट
- 3) Sierra Nevada  
सियरा नेवादा
- 4) All options are correct.  
सभी विकल्प सही हैं।

**Correct Answer:** All options are correct.

सभी विकल्प सही हैं।

**Candidate Answer:** Vosges

वॉस्जेस

**QID : 179** - Burzil Pass is situated in which of the following states?

बुर्जिल दर्रा निम्नलिखित में से किस राज्य में स्थित है?

**Options:**

- 1) Himachal Pradesh  
हिमाचल प्रदेश
- 2) Jammu and Kashmir  
जम्मू-कश्मीर
- 3) Sikkim  
सिक्किम
- 4) Uttarakhand  
उत्तराखंड

**Correct Answer:** Jammu and Kashmir

जम्मू-कश्मीर

**Candidate Answer:** Uttarakhand

उत्तराखंड

**QID : 180** - Kautilya was the Prime Minister of:

कौटिल्य प्रधानमंत्री थे:

**Options:**

- 1) Chandragupta Vikramaditya  
चन्द्रगुप्त विक्रमादित्य के
- 2) Ashok  
अशोक के
- 3) Chandragupta Maurya  
चन्द्रगुप्त मौर्य के
- 4) King Kanak  
राजा कनक के

**Correct Answer:** Chandragupta Maurya

चन्द्रगुप्त मौर्य के

**Candidate Answer:** Chandragupta Maurya

चन्द्रगुप्त मौर्य के

**QID : 181** - Whom did Lord Minto send to Ranjit Singh to make a peace immediate before the Treaty of Amritsar (1809)?

लॉर्ड मिंटो ने अमृतसर की संधि (1809) से ठीक पहले शांति स्थापित करने के लिए रंजीत सिंह के पास किसे भेजा था?

**Options:**

- 1) Robert Rebert  
रॉबर्ट रिबर्ट
- 2) Joshua Child  
जोशुआ चाइल्ड
- 3) Ochterlony  
ऑक्टरलोनी
- 4) Charles Metcalfe  
चार्ल्स मेटाकाफ

**Correct Answer:** Charles Metcalfe

चार्ल्स मेटाकाफ

**Candidate Answer:** Ochterlony

ऑक्टरलोनी

**QID : 182** - S. Balachander is associated to which musical instrument?

एस. बालचंद्र किस वाद्ययंत्र से संबंधित हैं?

**Options:**

- 1) Sitar  
सितार
- 2) Santoor  
संतूर
- 3) Veena  
वीणा
- 4) Sarangi  
सारंगी

**Correct Answer:** Veena

वीणा

**Candidate Answer:** Veena

वीणा

**QID : 183** - Which country has replaced Saudi Arabia for the first time to become India's top crude oil supplier in the current fiscal year?

सऊदी अरब को पीछे छोड़कर कौन-सा देश वर्तमान वित्तीय वर्ष में भारत का सबसे बड़ा कच्चे तेल का आपूर्तिकर्ता बन गया है?

**Options:**

- 1) Iran  
ईरान
- 2) Iraq  
इराक
- 3) UAE  
यूएई
- 4) USA  
यूएसए

**Correct Answer:** Iraq  
इराक

**Candidate Answer:** Iraq  
इराक

**QID : 184** - In January 2018, who has been awarded the 9<sup>th</sup> Infosys award for engineering and computer science?

जनवरी 2018 में इंजीनियरिंग और कंप्यूटर विज्ञान के लिए नौवें इंफोसिस पुरस्कार से किसे सम्मानित किया गया है?

**Options:**

- 1) Sanghamitra Bondopadhyaya  
संघमित्रा बंदोपाध्याय
- 2) Ananya J. Kabir  
अनन्या जे. कबीर
- 3) Upinder Singh Bhalla  
उपिन्दर सिंह भल्ला
- 4) Ritabrata Munsri  
रिताब्रता मुंशी

**Correct Answer:** Sanghamitra Bondopadhyaya  
संघमित्रा बंदोपाध्याय

**Candidate Answer:** Ritabrata Munsri  
रिताब्रता मुंशी

**QID : 185** - The oldest form of cultivation in Sri Lanka is known as \_\_\_\_\_.

श्रीलंका में सबसे पुरानी खेती \_\_\_\_\_ के रूप में जाना जाता है

**Options:**

- 1) Ladang  
लदांग
- 2) Chena  
चेना
- 3) Jhumming  
झुमिंग
- 4) Tamarai  
तमाराइ

**Correct Answer:** Chena  
चेना

**Candidate Answer:** Chena  
चेना

**QID : 186** - What charge is present on a neutron?

एक न्यूट्रॉन पर कौन से आवेश होता है?

**Options:**

- 1) positive  
धनावेश
- 2) negative  
ऋणावेश
- 3) no charge  
कोई आवेश नहीं
- 4) No option is correct.  
कोई विकल्प सही नहीं है।

**Correct Answer:** no charge  
कोई आवेश नहीं

**Candidate Answer:** negative  
ऋणावेश

**QID : 187** - Which of the following statements are **CORRECT**?

- I. Esters are sweet smelling substance.
- II Esters are used in making perfumes.
- III. Functional group of ester is R-O-R'.

निम्नलिखित में से कौन से कथन **सही** हैं?

- I. एस्टर मृदु गंध वाले पदार्थ होते हैं।
- II. एस्टर का उपयोग इत्र बनाने में होता है।
- III. एस्टर का प्रकर्यात्मक समूह R-O-R' है।

**Options:**

- 1) Only I and II  
केवल I तथा II
- 2) Only I and III  
केवल I तथा III
- 3) Only II and III  
केवल II तथा III
- 4) All I, II and III  
I, II तथा III सभी

**Correct Answer:** Only I and II  
केवल I तथा II

**Candidate Answer:** Only I and III  
केवल I तथा III

**QID : 188** - Article 12 to Article 35 of Indian Constitution mainly deals with Fundamental Rights, given in \_\_\_\_\_ of Indian Constitution.

भारतीय संविधान के अनुच्छेद 12 से अनुच्छेद 35 मुख्यतः मौलिक अधिकारों से संबंधित है जो की भारतीय संविधान के \_\_\_\_\_ में दिए हुए है।

**Options:**

- 1) Part I  
भाग I
- 2) Part II  
भाग II
- 3) Part III  
भाग III
- 4) Part IV  
भाग IV

**Correct Answer:** Part III  
भाग III

**Candidate Answer:** Part III  
भाग III

**QID : 189** - Out of the 22 parts of the Indian Constitution that originally existed during its formation, the only part which has been deleted is \_\_\_\_\_.

भारतीय संविधान के 22 भागों में से, जो संविधान के गठन के समय थे, उनमें से हटाया गया एकमात्र भाग, \_\_\_\_\_ है।

**Options:**

- 1) Part V  
भाग V
- 2) Part VI  
भाग VI
- 3) Part VII  
भाग VII
- 4) Part VIII  
भाग VIII

**Correct Answer:** Part VII  
भाग VII

**Candidate Answer:** Part V  
भाग V

**QID : 190** - The skin, the lining of the mouth, the lining of the blood vessels, lung alveoli and kidney tubules are all made of which type of tissue?

त्वचा, मुँह, आहारनली, रक्त वाहिनी नली का अस्तर, फेफड़ों की कूपिका तथा वृक्कीय नली आदि सभी किस प्रकार के ऊतक से बने होते हैं?

**Options:**

- 1) Epithelial tissue  
एपिथीलियमी ऊतक
- 2) Connective tissue  
संयोजी ऊतक
- 3) Muscular tissue  
पेशीय ऊतक
- 4) Nervous tissue  
तंत्रिक ऊतक

**Correct Answer:** Epithelial tissue  
एपिथीलियमी ऊतक

**Candidate Answer:** Connective tissue  
संयोजी ऊतक



**QID : 191** - Which of the following represents the **CORRECT** scheme of sub-groups at various levels in classification?

निम्नलिखित में से कौन सा वर्गीकरण में विभिन्न स्तरों पर उप समूहों की सही व्यवस्था दर्शाता है?

**Options:**

- 1) Kingdom → Phylum → Class → order → Family → Genus → Species  
जगत → फाइलम → वर्ग → गण → कुल → वंश → जाति
- 2) Kingdom → Order → Class → Family → Genus → Species → Phylum  
जगत → गण → वर्ग → कुल → वंश → जाति → फाइलम
- 3) Kingdom → Phylum → Order → Genus → Species → Class → Family  
जगत → फाइलम → गण → वंश → जाति → वर्ग → कुल
- 4) Phylum → Kingdom → Class → Order → Genus → Family → Species  
फाइलम → जगत → वर्ग → गण → वंश → कुल → जाति

**Correct Answer:** Kingdom → Phylum → Class → order → Family → Genus → Species  
जगत → फाइलम → वर्ग → गण → कुल → वंश → जाति

**Candidate Answer:** Kingdom → Phylum → Class → order → Family → Genus → Species  
जगत → फाइलम → वर्ग → गण → कुल → वंश → जाति

**QID : 192** - In September 2017, a Nation Wide campaign was launched to sensitise women about the preventive care for cancer. The theme of this Campaign was 'Nurturing the Nurturer'. Who launched this Campaign?

सितम्बर 2017 में, महिलाओं को कैंसर की रोकथाम के बारे में संवेदनशील बनाने हेतु एक राष्ट्रव्यापी अभियान लोकार्पित किया गया है। इस अभियान का विषय 'नर्चरिंग द नर्चर' है। इस अभियान को किसने लोकार्पित किया?

**Options:**

- 1) Anupriya Patel  
अनुप्रिया पटेल
- 2) Rajiv Gauba  
राजीव गाबा
- 3) Hasmukh Adhiya  
हसमुख अधिया
- 4) Injeti Srinivas  
इंजैती श्रीनिवास

**Correct Answer:** Anupriya Patel  
अनुप्रिया पटेल

**Candidate Answer:** Anupriya Patel  
अनुप्रिया पटेल

**QID : 193** - What is the name of the balloon – borne instrument set to be launch by NASA to study heavy cosmic particles?

भारी ब्रह्मांडीय कणों का अध्ययन करने के लिए नासा द्वारा प्रक्षेपित किया जाने वाले बैलून-जनित उपकरण का क्या नाम है?

**Options:**

- 1) Super LAMBA  
सुपर लम्बा
- 2) Super TIGER  
सुपर टाइगर
- 3) Super LION  
सुपर लायन
- 4) Super MAMA  
सुपर मामा

**Correct Answer:** Super TIGER  
सुपर टाइगर

**Candidate Answer:** Super LAMBA  
सुपर लम्बा

**QID : 194** - According to World Economic Forum Global Gender Gap Report 2017, Indian has closed \_\_\_\_\_ percentage of its gender gap.

विश्व आर्थिक मंच के वैश्विक लिंग अंतर 2017 के अनुसार, भारत में लिंग अंतर \_\_\_\_\_ प्रतिशत से कम हुआ है।

**Options:**

- 1) 39
- 2) 67
- 3) 53
- 4) 91

**Correct Answer:** 67

**Candidate Answer:** 53

**QID : 195** - Who has been appointed as the Head of the Committee constituted to frame guidelines on playing National Anthem in cinemas?

सिनेमाघरों में राष्ट्रगान चलाने हेतु दिशा निर्देश तैयार करने के लिए गठित समिति का अध्यक्ष किसे नियुक्त किया गया है?

**Options:**

- 1) B. R. Sharma  
बी. आर. शर्मा
- 2) Dinesh Sharma  
दिनेश शर्मा
- 3) Govind Jain  
गोविंद जैन
- 4) Jayant Gupta  
जयंत गुप्ता

**Correct Answer:** B. R. Sharma  
बी. आर. शर्मा

**Candidate Answer:** Dinesh Sharma  
दिनेश शर्मा

**QID : 196** - A force of 200 N displaces a body by 4 m, calculate the work done (in J).

किसी वस्तु पर 200N का बल लगाने पर उसमें 4 मीटर का विस्थापन होता है। किये गए कार्य की गणना (जूल में) करें।

**Options:**

- 1) 40
- 2) 500
- 3) 80
- 4) 800

**Correct Answer:** 800

**Candidate Answer:** 800

**QID : 197** - The \_\_\_\_\_ of a substance is defined as the mass per unit volume.

किसी पदार्थ का \_\_\_\_\_ उसके एकांक आयतन के द्रव्यमान को कहते हैं।

**Options:**

- 1) density  
घनत्व
- 2) viscosity  
श्यानता
- 3) porosity  
सरंध्रता
- 4) luminosity  
दीप्ति (प्रकाश)

**Correct Answer:** density  
घनत्व

**Candidate Answer:** density  
घनत्व

**QID : 198** - \_\_\_\_\_ is produced from incomplete burning of fuels such as petrol and diesel.

पेट्रोल तथा डीज़ल जैसे इंधनों के अपूर्ण दहन से \_\_\_\_\_ उत्पन्न होती है।

**Options:**

- 1) Carbon dioxide  
कार्बन डाईऑक्साइड
- 2) Carbon monoxide  
कार्बन मोनोऑक्साइड
- 3) Nitric oxide  
नाइट्रिक ऑक्साइड
- 4) Nitrogen dioxide  
नाइट्रोजन डाईऑक्साइड

**Correct Answer:** Carbon monoxide  
कार्बन मोनोऑक्साइड

**Candidate Answer:** Carbon monoxide  
कार्बन मोनोऑक्साइड

**QID : 199** - Which of the statements given below are correct?

- A) Garbine Muguruza won the Tennis 2017 French Open Women's Singles.
- B) Rafael Nadal won the Tennis 2017 US Open Men's Singles.
- C) Valtteri Bottas won the Formula One 2017 Brazilian Grand Prix.

निम्नलिखित में से कौन सा कथन सत्य है?

- A) गार्बिन मुगुरुजा ने टेनिस 2017 फ्रेंच ओपन वूमैस सिंगल्स जीती।
- B) रफ़ाएल नडाल ने 2017 यूएस ओपन मेन्स सिंगल्स जीता।
- C) वाल्टेरी बोटास ने फ़ॉर्मूला वन 2017 ब्राज़ीलियन ग्रैंड प्रिक्स जीती।

**Options:**

- 1) Only A  
केवल A
- 2) Only B  
केवल B
- 3) Only C  
केवल C
- 4) Both A and B  
A और B दोनों

**Correct Answer:** Only B  
केवल B

**Candidate Answer:** Both A and B  
A और B दोनों

**QID : 200** - In Microsoft Word, \_\_\_\_\_ is a position we set for placing and aligning text on a page.

माइक्रोसॉफ्ट वर्ड में, \_\_\_\_ एक स्थिति होती है जो हम किसी पृष्ठ पर पाठ्य को स्थापित और संरेखित करने के लिए निर्धारित करते हैं।

**Options:**

- 1) Standard tool bar  
स्टैंडर्ड टूलबार
- 2) View Buttons  
व्यू बटन्स
- 3) Formatting tool bar  
फॉर्मेटिंग टूलबार
- 4) Tab stop  
टैब स्टॉप

**Correct Answer:** Tab stop  
टैब स्टॉप

**Candidate Answer:** Formatting tool bar  
फॉर्मेटिंग टूलबार

www.qmaths.in