



Staff Selection Commission
(Government Of India)

REGISTRATION NUMBER : WWW.QMATHS.IN
EXAM DATE : 11-March-2018
EXAM NAME : SSC Examination TOTAL
MARKS : 200

CANDIDATE NAME : WWW.QMATHS.IN
EXAM START TIME : 16:30:00 EXAM
DURATION : 01:00 Hrs TOTAL NO OF
QUESTIONS : 100

QID : 401 - In the following question, some part of the sentence may have errors. Find out which part of the sentence has an error and select the appropriate option. If a sentence is free from error, select 'No Error'.

Information that comes (1)/ through conversations (2)/ get imprinted in the mind. (3)/ No error (4)

Options:

- 1) 1
- 2) 2
- 3) 3
- 4) 4

Correct Answer: 3

Candidate Answer: 2

QID : 402 - In the following question, some part of the sentence may have errors. Find out which part of the sentence has an error and select the appropriate option. If a sentence is free from error, select 'No Error'.

Passive voice sentences tend to be more wordy and (1)/ vague but could still be useful in some (2)/ situations, such as formal or scientific writing. (3)/ No error (4)

Options:

- 1) 1
- 2) 2
- 3) 3
- 4) 4

Correct Answer: 2

Candidate Answer: [NOT ANSWERED]

QID : 403 - In the following question, the sentence given with blank to be filled in with an appropriate word. Select the correct alternative out of the four and indicate it by selecting the appropriate option.

The company's interviews will ____ next month.

Options:

- 1) begin on
- 2) began by
- 3) begin by
- 4) begin at

Correct Answer: begin by

Candidate Answer: begin on

QID : 404 - In the following question, the sentence given with blank to be filled in with an appropriate word. Select the correct alternative out of the four and indicate it by selecting the appropriate option.

Going by her grades the teacher is sure that she _____ the exam.

Options:

- 1) will ace
- 2) would have aced
- 3) will be aced
- 4) will have aced

Correct Answer: will ace

Candidate Answer: [NOT ANSWERED]

QID : 405 - In the following question, out of the given four alternatives, select the one which best expresses the meaning of the given word.

Whinny

Options:

- 1) Lazy
- 2) Stop
- 3) Calm
- 4) Loud

Correct Answer: Loud

Candidate Answer: Loud

QID : 406 - In the following question, out of the given four alternatives, select the one which best expresses the meaning of the given word.

Perennial

Options:

- 1) Dangerous
- 2) Lasting
- 3) Dry
- 4) Perishable

Correct Answer: Lasting

Candidate Answer: [NOT ANSWERED]

QID : 407 - In the following question, out of the given four alternatives, select the one which is opposite in meaning of the given word.

Assiduous**Options:**

- 1) Active
- 2) Neglectful
- 3) Diligent
- 4) Zealous

Correct Answer: Neglectful

Candidate Answer: [NOT ANSWERED]

QID : 408 - In the following question, out of the given four alternatives, select the one which is opposite in meaning of the given word.

Convulsion**Options:**

- 1) Cramp
- 2) Shaking
- 3) Restful
- 4) Disaster

Correct Answer: Restful

Candidate Answer: [NOT ANSWERED]

QID : 409 - Rearrange the parts of the sentence in correct order.

Before 1974,**P :** World Bank were relatively small**Q :** loans provided by the**R :** the reconstruction and development**Options:**

- 1) RQP
- 2) QPR
- 3) PRQ
- 4) RPQ

Correct Answer: RQP

Candidate Answer: RQP

QID : 410 - A sentence has been given in Active/Passive Voice. Out of the four given alternatives, select the one which best expresses the same sentence in Passive/Active Voice.

I bought her a computer.**Options:**

- 1) A computer was bought for her by me.
- 2) A computer bought for her by me.
- 3) A computer was buy for her by me.
- 4) A computer is being bought for her by me.

Correct Answer: A computer was bought for her by me.

Candidate Answer: A computer was bought for her by me.

QID : 411 - A sentence has been given in Direct/Indirect Speech. Out of the four given alternatives, select the one which best expresses the same sentence in Indirect/Direct Speech.

"How clever you are!" he said.**Options:**

- 1) He exclaimed that she is clever.
- 2) He said how clever she was.
- 3) How clever she was, he said.
- 4) He exclaimed that she was very clever.

Correct Answer: He exclaimed that she was very clever.

Candidate Answer: He exclaimed that she was very clever.

QID : 412 - In the following question, a word has been written in four different ways out of which only one is correctly spelt. Select the correctly spelt word.

Options:

- 1) Mischievous
- 2) Mischievous
- 3) Mischeivious
- 4) Mischievous

Correct Answer: Mischievous

Candidate Answer: Mischievous

QID : 413 - In the following passage, some of the words have been left out. Read the passage carefully and select the correct answer for the given blank out of the four alternatives.

Living as _____ educated individual in a free society, I felt that we continue to unknowingly hold some biases that we develop _____ time. It requires many maturity updates to install in your psychological system, and at _____ conscious efforts to develop a good sense of _____. I was small at that time, but with age and experience I absolutely _____ and approved each and every word my uncle had said that day.

Living as _____ educated individual in a free society,

Options:

- 1) a
- 2) the
- 3) an
- 4) one of

Correct Answer: an

Candidate Answer: an

QID : 414 - In the following passage, some of the words have been left out. Read the passage carefully and select the correct answer for the given blank out of the four alternatives.

Living as _____ educated individual in a free society, I felt that we continue to unknowingly hold some biases that we develop _____ time. It requires many maturity updates to install in your psychological system, and at _____ conscious efforts to develop a good sense of _____. I was small at that time, but with age and experience I absolutely _____ and approved each and every word my uncle had said that day.

that we develop _____ time. It requires

Options:

- 1) on
- 2) over
- 3) top
- 4) above

Correct Answer: over

Candidate Answer: on

QID : 415 - In the following passage, some of the words have been left out. Read the passage carefully and select the correct answer for the given blank out of the four alternatives.

Living as _____ educated individual in a free society, I felt that we continue to unknowingly hold some biases that we develop _____ time. It requires many maturity updates to install in your psychological system, and at _____ conscious efforts to develop a good sense of _____. I was small at that time, but with age and experience I absolutely _____ and approved each and every word my uncle had said that day.

system, and at _____ conscious efforts

Options:

- 1) times
- 2) time
- 3) timely
- 4) timing

Correct Answer: times

Candidate Answer: [NOT ANSWERED]

QID : 416 - In the following passage, some of the words have been left out. Read the passage carefully and select the correct answer for the given blank out of the four alternatives.

Living as _____ educated individual in a free society, I felt that we continue to unknowingly hold some biases that we develop _____ time. It requires many maturity updates to install in your psychological system, and at _____ conscious efforts to develop a good sense of _____. I was small at that time, but with age and experience I absolutely _____ and approved each and every word my uncle had said that day.

a good sense of _____. I was small

Options:

- 1) judge
- 2) judgment
- 3) judgments
- 4) judgemental

Correct Answer: judgment

Candidate Answer: judgment

QID : 417 - In the following passage, some of the words have been left out. Read the passage carefully and select the correct answer for the given blank out of the four alternatives.

Living as _____ educated individual in a free society, I felt that we continue to unknowingly hold some biases that we develop _____ time. It requires many maturity updates to install in your psychological system, and at _____ conscious efforts to develop a good sense of _____. I was small at that time, but with age and experience I absolutely _____ and approved each and every word my uncle had said that day.

I absolutely _____ and approved each

Options:

- 1) understand
- 2) understood
- 3) understandable
- 4) understandably

Correct Answer: understood

Candidate Answer: understood

QID : 418 - In the following question, out of the four alternatives, select the alternative which best expresses the meaning of the idiom/phrase.

Chew something over

Options:

- 1) Discuss or consider something at length.
- 2) Grab what belongs to someone else.
- 3) Take a large bite, more than you can eat.
- 4) Talk while eating.

Correct Answer: Discuss or consider something at length.

Candidate Answer: Discuss or consider something at length.

QID : 419 - In the following question, out of the four alternatives, select the alternative which best expresses the meaning of the idiom/phrase.

On a wing and a prayer

Options:

- 1) A prayer can move mountains.
- 2) A prayer has the strength to make you achieve great heights just like wings do.
- 3) The more one gets into prayer the closer one feels to God.
- 4) With only the slightest chance of success.

Correct Answer: With only the slightest chance of success.

Candidate Answer: [NOT ANSWERED]

QID : 420 - In the following question, out of the four alternatives, select the alternative which is the best substitute of the words/sentence.

Making a loud and confused noise

Options:

- 1) Reticent
- 2) Clamorous
- 3) Laconic
- 4) Bashful

Correct Answer: Clamorous

Candidate Answer: [NOT ANSWERED]

QID : 421 - In the following question, out of the four alternatives, select the alternative which is the best substitute of the words/sentence.

Transfix or pierce with a sharp instrument

Options:

- 1) Impale
- 2) Rampart
- 3) Aegis
- 4) Bulwark

Correct Answer: Impale

Candidate Answer: [NOT ANSWERED]

QID : 422 - In the following question, out of the four alternatives, select the alternative which will improve the bracketed part of the sentence. In case no improvement is needed, select "no improvement".

They (**has rented**) the premises for fifteen rupees a month, a princely sum, considering that milk was five paise a litre.

Options:

- 1) had rented
- 2) had rent
- 3) had renting
- 4) no improvement

Correct Answer: had rented

Candidate Answer: [NOT ANSWERED]

QID : 423 - In the following question, out of the four alternatives, select the alternative which will improve the bracketed part of the sentence. In case no improvement is needed, select "no improvement".

People from all walks of life (**to enjoy**) the rather popular sport.

Options:

- 1) enjoying
- 2) is enjoy
- 3) enjoy
- 4) no improvement

Correct Answer: enjoy

Candidate Answer: enjoying

QID : 424 - The question below consists of a set of labelled sentences. Out of the four options given, select the most logical order of the sentences to form a coherent paragraph.

The skills of a

A-three categories, namely technical,

B-teacher can be classified into

C-human and enterprising

Options:

- 1) ACB
- 2) BAC
- 3) ABC
- 4) CBA

Correct Answer: BAC

Candidate Answer: BAC

QID : 425 - In the following question, four words are given out of which one word is correctly spelt. Select the correctly spelt word.

Options:

- 1) protubarance
- 2) protuberanse
- 3) protubaranse
- 4) protuberance

Correct Answer: protuberance

Candidate Answer: protuberance

QID : 426 - In the following question, select the related word pair from the given alternatives.

Yellow : Colour :: ? : ?

निम्नलिखित प्रश्न में दिए गए विकल्पों में से संबंधित शब्द युग्म को चुनिए।

पीला : रंग :: ? : ?

Options:

1) Sun : Moon

सूर्य : चंद्रमा

2) Tomato : Red

टमाटर : लाल

3) Mercury : Planet

बुध : ग्रह

4) Night : Morning

रात्रि : प्रातः

Correct Answer: Mercury : Planet

बुध : ग्रह

Candidate Answer: Mercury : Planet

बुध : ग्रह

QID : 427 - In the following question, select the related number pair from the given alternatives.

59 : 68 :: ? : ?

निम्नलिखित प्रश्न में दिए गए विकल्पों में से संबंधित संख्या युग्म को चुनिए।

59 : 68 :: ? : ?

Options:

1) 119 : 123

2) 101 : 110

3) 121 : 127

4) 109 : 113

Correct Answer: 101 : 110

Candidate Answer: 101 : 110

QID : 428 - In the following question, select the related letter/letters from the given alternatives.

STM : RSL :: VSF : ?

निम्नलिखित प्रश्न में दिए गए विकल्पों में से संबंधित अक्षर/अक्षरों को चुनिए।

STM : RSL :: VSF : ?

Options:

1) URE

2) WTG

3) UQE

4) WRG

Correct Answer: URE

Candidate Answer: URE

QID : 429 - In the following question, select the odd word from the given alternatives.

निम्नलिखित प्रश्न में दिए गए विकल्पों में से विषम शब्द को चुनिए।

Options:

1) Ball

गेंद

2) Circle

वृत्त

3) Ladyfinger

भिंडी

4) Sphere

गोला

Correct Answer: Ladyfinger

भिंडी

Candidate Answer: Circle

वृत्त

QID : 430 - In the following question, four number pairs are given. The number on left side of (-) is related to the number on the right side of (-) with some Logic/Rule/Relation. Three are similar on basis of same Logic/Rule/Relation. Select the odd one out from the given alternatives.

नीचे दिए गए प्रश्न में, चार संख्या युग्म दिए गए हैं। (-) के बायीं ओर दी संख्या (-) के दायीं ओर दी गई संख्या से तर्क/नियम से सम्बंधित है। तीन उसी एक तर्क/नियम के आधार पर समान हैं। दिए गए विकल्पों में से भिन्न को चुनिए।

Options:

1) 11 - 15

2) 13 - 17

3) 12 - 16

4) 14 - 16

Correct Answer: 14 - 16

Candidate Answer: 14 - 16

QID : 431 - In the following question, select the odd letter/letters from the given alternatives.

निम्नलिखित प्रश्न में दिए गए विकल्पों में से विषम अक्षर/अक्षरों को चुनिए।

Options:

- 1) OKGC
- 2) TPLH
- 3) XSOK
- 4) YUQM

Correct Answer: XSOK

Candidate Answer: XSOK

QID : 432 - Arrange the given words in the sequence in which they occur in the dictionary.

1. Charge
2. Character
3. Chemist
4. Cheap
5. Check

निम्नलिखित शब्दों को शब्दकोश में आने वाले क्रम के अनुसार लिखें।

1. Charge
2. Character
3. Chemist
4. Cheap
5. Check

Options:

- 1) 21453
- 2) 12345
- 3) 35241
- 4) 23451

Correct Answer: 21453

Candidate Answer: 21453

QID : 433 - In the following question, select the missing number from the given series.

3, 5, 7, 11, 13, ?

निम्नलिखित प्रश्न में दिए गए विकल्पों में से लुप्त अंक ज्ञात कीजिए।

3, 5, 7, 11, 13, ?

Options:

- 1) 19
- 2) 21
- 3) 17
- 4) 29

Correct Answer: 17

Candidate Answer: 19

QID : 434 - A series is given with one term missing. Select the correct alternative from the given ones that will complete the series.

XY, UV, RS, OP, ?

एक अनुक्रम दिया गया है, जिसमें से एक पद लुप्त है। दिए गए विकल्पों में से सही विकल्प चुनिए, जो अनुक्रम को पूरा करे।

XY, UV, RS, OP, ?

Options:

- 1) KL
- 2) GH
- 3) HI
- 4) LM

Correct Answer: LM

Candidate Answer: LM

QID : 435 - In a row, Pankaj is at 29th position from left and 33rd position from right. How many boys are there in the row?

एक पंक्ति में, पंकज बायें से 29-वें स्थान पर तथा दायें से 33-वें स्थान पर है। पंक्ति में कितने लड़के हैं?

Options:

- 1) 59
- 2) 62
- 3) 61
- 4) 60

Correct Answer: 61

Candidate Answer: 61

QID : 436 - From the given alternatives, select the word which **CANNOT** be formed using the letters of the given word.

Telepathy

दिए गए विकल्पों में से वह शब्द चुनिए जो दिए गए शब्द के अक्षरों का प्रयोग करके नहीं बनाया जा सकता है।

Telepathy

Options:

- 1) Lips
- 2) Help
- 3) Heel
- 4) Type

Correct Answer: Lips

Candidate Answer: Lips

QID : 437 - In a certain code language, "FRAK" is written as "35" and "MALT" is written as "45". How is "TRIM" written in that code language?

एक विशिष्ट कोड भाषा में, "FRAK" को "35" लिखा जाता है तथा "MALT" को "45" लिखा जाता है। इस कोड भाषा में "TRIM" को किस प्रकार लिखा जाएगा?

Options:

- 1) 60
- 2) 59
- 3) 61
- 4) 58

Correct Answer: 59

Candidate Answer: 60

QID : 438 - In a certain code language, '÷' represents 'x', '÷' represents '+', '+' represents '-' and 'x' represents '÷'. Find out the answer to the following question.

$$9 \div 12 - 15 + 4 \times 10 = ?$$

किसी निश्चित कोड भाषा में '÷', 'x' को प्रदर्शित करता है, '÷', '+' को प्रदर्शित करता है, '+' को प्रदर्शित करता है और 'x', '÷' को प्रदर्शित करता है। निम्नलिखित प्रश्न का उत्तर ज्ञात करें।

$$9 \div 12 - 15 + 4 \times 10 = ?$$

Options:

- 1) 9
- 2) 44
- 3) 8
- 4) 46

Correct Answer: 44

Candidate Answer: 44

QID : 439 - The following equation is incorrect. Which two signs should be interchanged to correct the equation?

$$6 \times 18 + 40 \div 30 - 10 = 20$$

निम्नलिखित समीकरण गलत है। इस समीकरण को सही करने के लिए किन दो चिन्हों को आपस में अदला-बदली करना चाहिए?

$$6 \times 18 + 40 \div 30 - 10 = 20$$

Options:

- 1) + and x
+ और x
- 2) + and ÷
+ और ÷
- 3) - and +
- और +
- 4) ÷ and x
÷ और x

Correct Answer: + and x

+ और x

Candidate Answer: + and x

+ और x

QID : 440 - If $6@1 = 12$, $6@2 = 24$ and $9@9 = 162$, then find the value of $4@6 = ?$

यदि $6@1 = 12$, $6@2 = 24$ और $9@9 = 162$, तो $4@6 = ?$ का मान ज्ञात करें।

Options:

- 1) 48
- 2) 4
- 3) 16
- 4) 20

Correct Answer: 48

Candidate Answer: 48

QID : 441 - Which of the following terms follows the trend of the given list?

ZWZWZWX, ZWZWXY, ZWZWXYXY, ZWZYXYXY, ZWXXYXY, _____.

निम्नलिखित में से सही सा पद दी गयी सूची के क्रम के अनुसार है?

ZWZWZWX, ZWZWXY, ZWZWXYXY, ZWZYXYXY, ZWXXYXY, _____.

Options:

- 1) XYXYXYXY
- 2) ZYXYXYXY
- 3) ZWZWZWX
- 4) ZWZWXYXY

Correct Answer: ZYXYXYXY

Candidate Answer: ZYXYXYXY

QID : 442 - A brother and sister daily leave home together to go to their respective schools. The brother goes 3 km North, then turns left and goes 1 km to reach his school. The sister goes 4 km West, then 3 km North, then turns left and goes 5 km to reach her school. Where is the brother's school with respect to the sister's school?

एक भाई और बहन अपने संबंधित स्कूलों में जाने के लिए रोज़ घर से एक साथ निकलते हैं। भाई 3 कि.मी. उत्तर की तरफ जाता है, फिर बाईं ओर मुड़ता है और 1 कि.मी चलने के बाद अपने स्कूल तक पहुंच जाता है। बहन 4 कि.मी पश्चिम की तरफ, फिर 3 कि.मी उत्तर की तरफ जाती है, फिर बाईं ओर मुड़ जाती है और अपने स्कूल तक पहुंचने के लिए आगे 5 कि.मी चलती है। बहन के स्कूल के संबंध में भाई का स्कूल कहाँ है?

Options:

- 1) 10 km East
10 कि.मी पूर्व
- 2) 8 km West
8 कि.मी पश्चिम
- 3) 10 km West
10 कि.मी पश्चिम
- 4) 8 km East
8 कि.मी पूर्व

Correct Answer: 8 km East

8 कि.मी पूर्व

Candidate Answer: 8 km East

8 कि.मी पूर्व

QID : 443 - In the question two statements are given, followed by two conclusions, I and II. You have to consider the statements to be true even if it seems to be at variance from commonly known facts. You have to decide which of the given conclusions, if any, follows from the given statements.

Statement I: No bombs are mortar

Statement II: All rockets are bombs

Conclusion I: All mortar are rockets

Conclusion II: Some bombs are rockets

प्रश्न में दो कथन दिये गये हैं जिसके आगे दो निष्कर्ष I और II निकाले गये हैं। आपको मानना है कि दोनों कथन सत्य है चाहे वह सामान्यतः ज्ञात तथ्यों से भिन्न प्रतीत होते हैं। आपको निर्णय करना है की दिए गए निष्कर्षों में से कौन-सा/कौन-से निश्चित रूप से कथन द्वारा सही निकाला जा सकता है/सकते हैं, यदि कोई हो।

कथन I: कोई भी बम मोर्टार नहीं होता है

कथन II: सभी रॉकेट बम होते हैं

निष्कर्ष I: सभी मोर्टार रॉकेट होते हैं

निष्कर्ष II: कुछ बम रॉकेट होते हैं

Options:

- 1) Only conclusion I follows
केवल निष्कर्ष I सही है
- 2) Only conclusion II follows
केवल निष्कर्ष II सही है
- 3) Both conclusions I and II follow
दोनों निष्कर्ष I और II सही है
- 4) Neither conclusion I nor conclusion II follows
ना तो निष्कर्ष I सही है ना ही निष्कर्ष II

Correct Answer: Only conclusion II follows

केवल निष्कर्ष II सही है

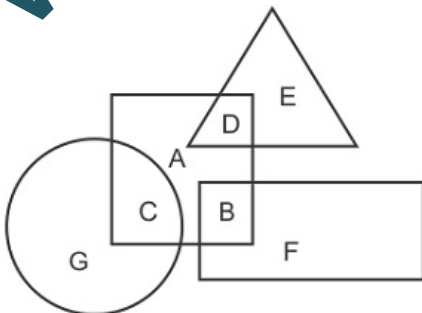
Candidate Answer: Only conclusion II follows

केवल निष्कर्ष II सही है

QID : 444 -

In the following figure, rectangle represents Programmers, circle represents Dancers, triangle represents Mountain climbers and square represents Asians. Which set of letters represents Asians who are not programmers?

निम्नलिखित आकृति में, आयत प्रोग्रामर्स को प्रदर्शित करता है, वृत्त नर्तकों को प्रदर्शित करता है, त्रिभुज पर्वतारोहियों को प्रदर्शित करता है और वर्ग एशियाई को प्रदर्शित करता है। अक्षरों का कौन सा समूह उन एशियाई लोगों को प्रदर्शित करता है जो प्रोग्रामर नहीं हैं?



Options:

- 1) CAD
- 2) B
- 3) BF
- 4) GC

Correct Answer: CAD

Candidate Answer: CAD

QID : 445 - A series is given with one term missing. Select the correct alternative from the given ones that will complete the series.

ACP, HJW, OQD, ?, CER

एक अनुक्रम दिया गया है, जिसमें से एक पद लुप्त है। दिए गए विकल्पों में से वह सही विकल्प चुनिए, जो अनुक्रम को पूरा करे।

ACP, HJW, OQD, ?, CER

Options:

- 1) VYJ
- 2) UXJ
- 3) UYK
- 4) VXK

Correct Answer: VXK

Candidate Answer: VXK

QID : 446 - In the following question, select the missing number from the given series.

1161, 1164, 1168, 1173, 1179, ?

निम्नलिखित प्रश्न में दिए गए विकल्पों में से लुप्त अंक ज्ञात कीजिए।

1161, 1164, 1168, 1173, 1179, ?

Options:

- 1) 1186
- 2) 1196
- 3) 1185
- 4) 1197

Correct Answer: 1186

Candidate Answer: 1186

QID : 447 - In the following question, four groups of three numbers are given. In each group, the second and third number are related to the first number by a Logic/Rule/Relation. Three are similar on basis of same Logic/Rule/Relation. Select the odd one out from the given alternatives.

नीचे दिए गए प्रश्न में, तीन संख्याओं के चार समूह दिए गए हैं। प्रत्येक समूह में दूसरी तथा तीसरी संख्या प्रथम संख्या से किसी एक तर्क/नियम से सम्बंधित है। तीन उसी एक तर्क/नियम के आधार पर समान हैं। दिए गए विकल्पों में से भिन्न को चुनिए।

Options:

- 1) (83, 97, 113)
- 2) (47, 61, 75)
- 3) (34, 48, 62)
- 4) (64, 78, 92)

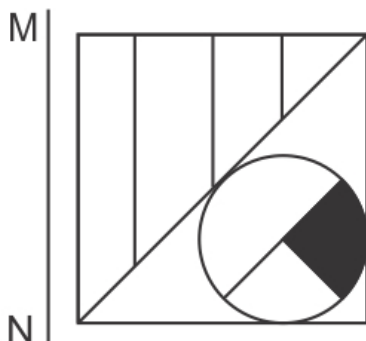
Correct Answer: (83, 97, 113)

Candidate Answer: [NOT ANSWERED]

QID : 448 -

If a mirror is placed on the line MN, then which of the answer figures is the right image of the given figure?

यदि एक दर्पण को MN रेखा पर रखा जाए तो दी गयी चार आकृतियों में से कौन-सी आकृति प्रश्न आकृति का सही प्रतिबिम्ब होगी?



Options:

1)



2)



3)



4)



Correct Answer:



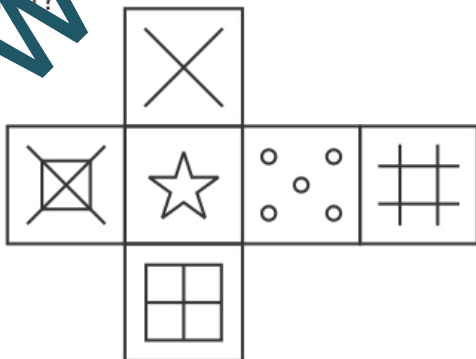
Candidate Answer:



QID : 449 -

Which of the following cube in the answer figure cannot be made based on the unfolded cube in the question figure?

निम्नलिखित उत्तर आकृति में से कौन सा घन दिए गए प्रश्न आकृति में से खुले घन से बनाया नहीं जा सकता?



Options:

1)



2)



3)



4)



Correct Answer:



Candidate Answer:



www.kvclasses.com

QID : 450 -

A word is represented by only one set of numbers as given in any one of the alternatives. The sets of numbers given in the alternatives are represented by two classes of alphabets as shown in the given two matrices. The columns and rows of Matrix-I are numbered from 0 to 4 and that of Matrix-II are numbered from 5 to 9. A letter from these matrices can be represented first by its row and next by its column, for example 'E' can be represented by 42, 23 etc and 'W' can be represented by 96, 58 etc. Similarly, you have to identify the set for the word 'DUST'.

एक शब्द केवल एक संख्या-समूह द्वारा दर्शाया गया है, जैसा कि विकल्पों में से किसी एक में दिया गया है। विकल्पों में दिए गए संख्या-समूह अक्षरों के दो वर्गों द्वारा दर्शाए गए हैं, जैसा कि दिए गए दो आव्यूहों में है। आव्यूह-I के स्तम्भ और पंक्ति की संख्या 0 से 4 और आव्यूह-II की 5 से 9 है। इन आव्यूहों से एक अक्षर को पहले उसकी पंक्ति और बाद में स्तम्भ संख्या द्वारा दर्शाया जा सकता है। उदाहरण के लिए 'E' को 42, 23 आदि द्वारा दर्शाया जा सकता है तथा 'W' को 96, 58 आदि द्वारा दर्शाया जा सकता है। इसी तरह से आपको प्रश्न में दिए शब्द 'DUST' के लिए समूह को पहचानना है।

Matrix I आव्यूह - I					Matrix II आव्यूह - II						
	0	1	2	3	4		5	6	7	8	9
0	D	E	E	F	M	5	T	O	X	W	Q
1	G	F	B	D	I	6	T	X	Q	P	S
2	E	K	F	E	E	7	X	S	V	T	V
3	L	A	I	F	G	8	V	X	O	X	X
4	D	F	E	I	A	9	U	W	R	R	Q

Options:

- 1) 20,76,11,65
- 2) 43,59,23,77
- 3) 13,95,69,78
- 4) 13,65,30,76

Correct Answer: 13,95,69,78

Candidate Answer: 13,95,69,78

QID : 451 -

Arrange them in ascending order $\sqrt[4]{6}$, $\sqrt[3]{3}$ and $\sqrt[3]{4}$

$\sqrt[4]{6}$, $\sqrt[3]{3}$ और $\sqrt[3]{4}$ को आरोही क्रम में व्यवस्थित करें।

Options:

- 1) $\sqrt[3]{3} < \sqrt[4]{6} > \sqrt[3]{4}$
- 2) $\sqrt[3]{3} > \sqrt[4]{6} > \sqrt[3]{4}$
- 3) $\sqrt[3]{3} > \sqrt[3]{4} > \sqrt[4]{6}$
- 4) $\sqrt[3]{3} < \sqrt[4]{6} < \sqrt[3]{4}$

Correct Answer:

$$\sqrt[3]{3} < \sqrt[4]{6} < \sqrt[3]{4}$$

Candidate Answer:

$$\sqrt[3]{3} < \sqrt[4]{6} > \sqrt[3]{4}$$

QID : 452 - A number 35786X625 is completely divisible by 9, find the smallest whole digit number in the place of 'X'.

एक संख्या 35786X625 पूरी तरह से 9 से विभाज्य है, 'X' की जगह में सबसे छोटी पूर्ण संख्या ज्ञात करें।

Options:

- 1) 0
- 2) 1
- 3) 2
- 4) 3

Correct Answer: 3

Candidate Answer: 3

QID : 453 - What is the value of xy if $x - y = 3$ and $x^2 + y^2 = 15$?

xy का मान ज्ञात करें, यदि $x - y = 3$ और $x^2 + y^2 = 15$ है।

Options:

- 1) 1
- 2) 3
- 3) 5
- 4) 7

Correct Answer: 3

Candidate Answer: 3

QID : 454 - Find the value of 1006×994 ?

1006×994 का मान ज्ञात करें।

Options:

- 1) 999932
- 2) 999964
- 3) 1000032
- 4) 1000064

Correct Answer: 999964

Candidate Answer: 999964

QID : 455 - If the circum radius of the equilateral triangle is 12 cm then what is the value of in radius (in cm) of the triangle?

यदि समबाहु त्रिभुज के परिवृत की त्रिज्या 12 सेमी है तो उसके अंतःवृत की त्रिज्या का मान (सेमी में) क्या है?

Options:

- 1) 3
- 2) 6
- 3) 8
- 4) 10

Correct Answer: 6

Candidate Answer: [NOT ANSWERED]

QID : 456 - If the side of the equilateral triangle is $6\sqrt{3}$ cm, then what is length (in cm) of the circum radius of the triangle?यदि समबाहु त्रिभुज की भुजा की लम्बाई $6\sqrt{3}$ सेमी है, तो उस त्रिभुज के परिवृत की त्रिज्या की लम्बाई (सेमी में) क्या है?

Options:

- 1) 4
- 2) 6
- 3) 8
- 4) 12

Correct Answer: 6

Candidate Answer: [NOT ANSWERED]

QID : 457 - If 25% of X is equal to 40% of Y, then what is the ratio of X and Y?

यदि X का 25%, Y के 40% के बराबर है, तो X तथा Y का अनुपात क्या है?

Options:

- 1) 8 : 5
- 2) 5 : 3
- 3) 9 : 5
- 4) 4 : 5

Correct Answer: 8 : 5

Candidate Answer: 8 : 5

QID : 458 - If $P/Q = R/S = T/U = 3/4$, then what is $(4P + 5R + 7T) : (3Q + 4S + 7U)$?यदि $P/Q = R/S = T/U = 3/4$ हैं, तो $(4P + 5R + 7T) : (3Q + 4S + 7U)$ क्या हैं?

Options:

- 1) 12 : 19
- 2) 6 : 7
- 3) 3 : 4
- 4) 5 : 8

Correct Answer: 6 : 7

Candidate Answer: [NOT ANSWERED]

QID : 459 - Two mixtures have milk and water in the ratio 1 : 4 and 3 : 2 respectively. In what ratio two types of mixtures have to be mixed to get a new mixture having ratio of milk and water as 1 : 1?

दो मिश्रणों में क्रमशः दूध तथा जल का अनुपात 1 : 4 तथा 3 : 2 है। दोनों प्रकार के मिश्रणों को किस अनुपात में मिलाया जाए जिससे की नए मिश्रण में दूध तथा पानी का अनुपात 1 : 1 हो जाए?

Options:

- 1) 4 : 3
- 2) 5 : 3
- 3) 3 : 2
- 4) 1 : 3

Correct Answer: 1 : 3

Candidate Answer: [NOT ANSWERED]

QID : 460 - The average height of 50 bats is 126 cm. Some bats of average height 120 cm are removed. If the new average height is 130 cm, then how many bats are remaining?

50 बल्लों की औसत ऊँचाई 126 से.मी. है। 120 से.मी. औसत ऊँचाई वाले कुछ बल्ले निकाल लिये जाते हैं। यदि नई औसत ऊँचाई 130 से.मी. है, तो कितने बल्ले बचे हुए हैं?

Options:

- 1) 12
- 2) 20
- 3) 16
- 4) 30

Correct Answer: 30

Candidate Answer: 30

QID : 461 - A sum becomes Rs 10000 in 10 years on simple interest at the rate of 10% per annum. What is the total interest (in Rs) of the 10 years?

एक राशि 10% की वार्षिक दर से साधारण ब्याज पर 10 वर्षों में 10000 रूपी हो जाती है। 10 वर्षों का कुल ब्याज (रु में) क्या है?

Options:

- 1) 4000
- 2) 5000
- 3) 2500
- 4) 4500

Correct Answer: 5000

Candidate Answer: 5000

QID : 462 - The difference between cost price and selling price is Rs 576. If the profit percentage is 16%, then what is the cost price (in Rs)?

क्रय मूल्य तथा विक्रय मूल्य के मध्य अंतर 576 रूपी है। यदि लाभ प्रतिशत 16% है, तो क्रय मूल्य (रु में) क्या है?

Options:

- 1) 3024
- 2) 4176
- 3) 3600
- 4) 3800

Correct Answer: 3600

Candidate Answer: [NOT ANSWERED]

QID : 463 - Abhishek marks the price of his laptop 60% above the cost price. If he gives a discount of 30% on the marked price, then what is the profit percentage?

अभिषेक अपने लैपटॉप के मूल्य को क्रय मूल्य से 60% अधिक अंकित करता है। यदि वह अंकित मूल्य पर 30% की छूट देता है, तो लाभ प्रतिशत क्या है?

Options:

- 1) 30
- 2) 12
- 3) 15
- 4) 14

Correct Answer: 12

Candidate Answer: 12

QID : 464 -

What is the simplified value of

$$\sqrt{\frac{(0.04)^2 + (0.21)^2 - 0.0084}{(0.04)^3 + (0.21)^3}}$$

$$\sqrt{\frac{(0.04)^2 + (0.21)^2 - 0.0084}{(0.04)^3 + (0.21)^3}}$$

का सरलीकृत मान क्या है?

Options:

- 1) 0.5
- 2) 2
- 3) (1/0.25)
- 4) (1/0.3)

Correct Answer: 2

Candidate Answer:

QID : 465 - P alone can do a piece of work in 8 days and Q alone can do the same work in 10 days. In how many days will both together complete the same work?

P अकेला एक कार्य को 8 दिन में कर सकता है तथा Q अकेला उसी कार्य को 10 दिन में कर सकता है। दोनों मिलकर उसी कार्य को कितने दिन में पूरा करेंगे?

Options:

- 1) 40/9
- 2) 20/9
- 3) 60/7
- 4) 40/7

Correct Answer: 40/9

Candidate Answer: 40/9

QID : 466 - A train of length, 245 metres, takes 20 seconds to cross a 355 metres long bridge. How much time (in seconds) will the train take to cross a 390 metres long platform?

245 मीटर लम्बाई वाली एक रेलगाड़ी एक 355 मीटर लम्बे पुल को पार करने में 20 सेकण्ड लेती है। एक 390 मीटर लम्बे प्लेटफॉर्म को पार करने में रेलगाड़ी कितना समय (सेकण्ड में) लेगी?

Options:

- 1) 6.5
- 2) 9
- 3) 21.16
- 4) 15

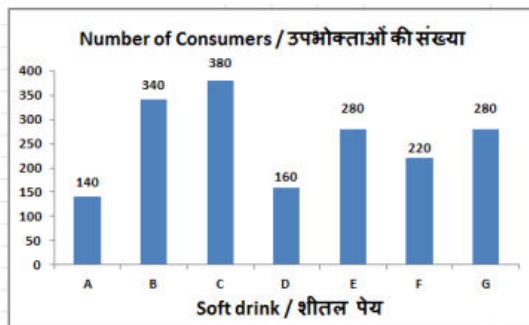
Correct Answer: 21.16

Candidate Answer: 21.16

QID : 467 -

The bar graph shows results of a survey carried out within a club. The members of the club were asked which soft drink they consumed? Study the diagram and answer the following questions.

यह बार ग्राफ एक क्लब के भीतर किए गए सर्वेक्षण के परिणामों को दिखाता है। क्लब के सदस्यों से पूछा गया कि उन्होंने कौनसा शीतल पेय पीया है? इस आरेख का अध्ययन करें और निम्नलिखित प्रश्नों के उत्तर दें।



Which soft drink was consumed the second highest?

कौनसे शीतल पेय का दूसरा उच्चतम सेवन किया गया है?

Options:

- 1) B
- 2) A
- 3) C
- 4) G

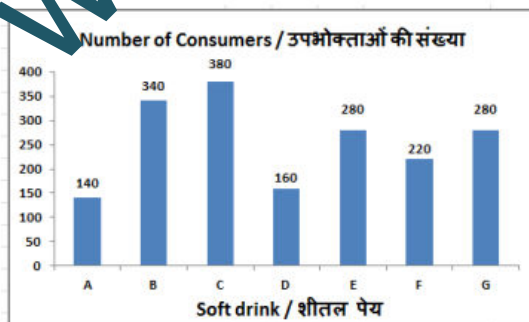
Correct Answer: B

Candidate Answer: B

QID : 468 -

The bar graph shows results of a survey carried out within a club. The members of the club were asked which soft drink they consumed? Study the diagram and answer the following questions.

यह बार ग्राफ एक क्लब के भीतर किए गए सर्वेक्षण के परिणामों को दिखाता है। क्लब के सदस्यों से पूछा गया कि उन्होंने कौनसा शीतल पेय पीया है? इस आरेख का अध्ययन करें और निम्नलिखित प्रश्नों के उत्तर दें।



What is the ratio of consumers of soft drink B to consumers of soft drink E?

शीतल पेय B के उपभोक्ताओं और शीतल पेय E के उपभोक्ताओं के बीच का अनुपात क्या है?

Options:

- 1) 14 : 17
- 2) 5 : 9
- 3) 9 : 5
- 4) 17 : 14

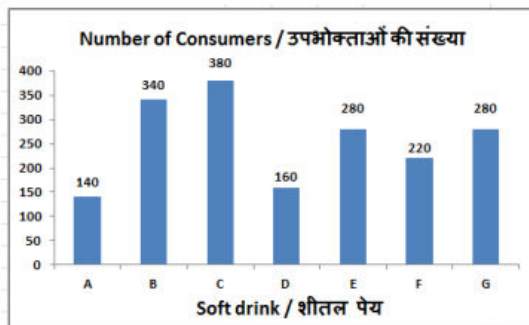
Correct Answer: 17 : 14

Candidate Answer: 17 : 14

QID : 469 -

The bar graph shows results of a survey carried out within a club. The members of the club were asked which soft drink they consumed? Study the diagram and answer the following questions.

यह बार ग्राफ एक क्लब के भीतर किए गए सर्वेक्षण के परिणामों को दिखाता है। क्लब के सदस्यों से पूछा गया कि उन्होंने कौनसा शीतल पेय पीया है? इस आरेख का अध्ययन करें और निम्नलिखित प्रश्नों के उत्तर दें।



Consumers of drink C are greater than that of drink D by _____.

पेय C के उपभोक्ताओं की संख्या पेय D की तुलना में _____ अधिक है।

Options:

- 1) 1.375
- 2) 1.175
- 3) 0.578
- 4) 0.752

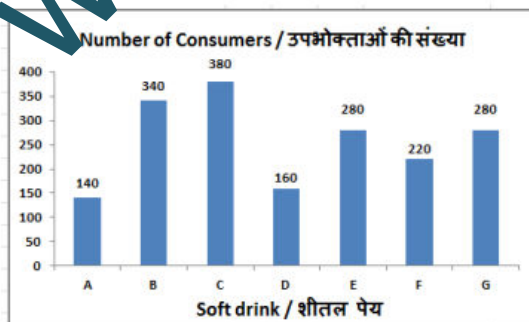
Correct Answer: 1.375

Candidate Answer: 1.375

QID : 470 -

The bar graph shows results of a survey carried out within a club. The members of the club were asked which soft drink they consumed? Study the diagram and answer the following questions.

यह बार ग्राफ एक क्लब के भीतर किए गए सर्वेक्षण के परिणामों को दिखाता है। क्लब के सदस्यों से पूछा गया कि उन्होंने कौनसा शीतल पेय पीया है? इस आरेख का अध्ययन करें और निम्नलिखित प्रश्नों के उत्तर दें।



If 20% of consumers of drink A start consuming drink E then the consumers of drink E would increase by _____.

अगर पेय A के 20% उपभोक्ता पेय E का उपभोग करते हैं तो पेय E के उपभोक्ताओं की संख्या _____ से बढ़ जायेगी।

Options:

- 1) 0.14
- 2) 0.1
- 3) 0.2
- 4) 0.28

Correct Answer: 0.1

Candidate Answer: [NOT ANSWERED]

QID : 471 - The length of one side and the diagonal of a rectangle are 5 cm and 13 cm respectively. Find its area (in cm^2).

एक आयत के एक भुजा की लंबाई और विकर्ण क्रमशः 5 सें.मी. और 13 सें.मी. है। इसका क्षेत्रफल (वर्ग सें.मी. में) ज्ञात करें।

Options:

- 1) 60
- 2) 120
- 3) 35
- 4) 70

Correct Answer: 60

Candidate Answer: 60

QID : 472 - Find the area (in cm^2) of a semi-circle of radius 28 cm.

28 सें.मी. त्रिज्या वाले एक अर्द्धवृत्त का क्षेत्रफल (वर्ग सें.मी. में) ज्ञात करें।

Options:

- 1) 2464
- 2) 832
- 3) 1232
- 4) 1664

Correct Answer: 1232

Candidate Answer: 1232

QID : 473 - Find the volume (in cm^3) of a cuboid of length, breadth and height of 8.5 cm, 6 cm and 7 cm respectively.

क्रमशः 8.5 सें.मी., 6 सें.मी. और 7 सें.मी. की लंबाई, चौड़ाई और ऊंचाई वाले एक घनाभ का आयतन (घन सें.मी. में) ज्ञात करें।

Options:

- 1) 524
- 2) 626
- 3) 603
- 4) 357

Correct Answer: 357

Candidate Answer: 357

QID : 474 - What is the value of $(1/2 - \cot 45^\circ)$?

$(1/2 - \cot 45^\circ)$ का मान क्या है?

Options:

- 1) $(2\sqrt{2}-\sqrt{3})/2$
- 2) $3/2$
- 3) $(3\sqrt{3}-1)/3$
- 4) $-1/2$

Correct Answer: $-1/2$

Candidate Answer: $-1/2$

QID : 475 - In ΔABC measure of angle B is 90° , $\sin A = 4/25$, and $AB = 1.4\text{cm}$, then what is the length (in cm) of side BC?

ΔABC में कोण B का माप 90° है। यदि $\sin A = 4/25$ और $AB = 1.4$ सें.मी. है, तो भुजा BC की लंबाई (सें.मी. में) क्या है?

Options:

- 1) 4.8
- 2) 5
- 3) 3
- 4) 5.6

Correct Answer: 4.8

Candidate Answer: 4.8

QID : 476 - If saving exceeds investment, the national income will _____.

यदि बचत निवेश से अधिक हो जाती है, तो राष्ट्रीय आय _____ जाएगी/होगी/रहेगी।

Options:

- 1) fall
गिर
- 2) fluctuate
उतार-चढ़ाव भरी
- 3) remain constant
स्थिर
- 4) rise
वृद्धि

Correct Answer: remain constant

स्थिर

Candidate Answer: [NOT ANSWERED]

QID : 477 - Which of the following Five Year Plan had the focus on 'food, work & productivity'?

निम्नलिखित में से कौन-सी पंचवर्षीय योजना 'भोजन, काम और उत्पादकता' पर केंद्रित थी?

Options:

- 1) Sixth Five Year Plan
छठी पंचवर्षीय योजना
- 2) Second Five Year Plan
दूसरी पंचवर्षीय योजना
- 3) Seventh Five Year Plan
सातवीं पंचवर्षीय योजना
- 4) Fifth Five Year Plan
पांचवीं पंचवर्षीय योजना

Correct Answer: Seventh Five Year Plan
सातवीं पंचवर्षीय योजना

Candidate Answer: [NOT ANSWERED]

QID : 478 - Which of the following is **NOT** considered as Amir Khusro's creation?

निम्नलिखित में से कौन-सी रचना अमीर खुसरो की **नहीं** मानी जाती है?

Options:

- 1) Laila Majnu
लैला मजनू
- 2) Nuh Sipahr
नूह सिपिहर
- 3) Ahsika
आशिका
- 4) Tutinama
तूतीनामा

Correct Answer: Tutinama
तूतीनामा

Candidate Answer: [NOT ANSWERED]

QID : 479 - For the first time in India, the Kisan Diwas was celebrated on which of the following years?

भारत में पहली बार किसान दिवस किस वर्ष मनाया गया था?

Options:

- 1) 1936
- 2) 1937
- 3) 1930
- 4) 1926

Correct Answer: 1936

Candidate Answer: [NOT ANSWERED]

QID : 480 - Which of the following is **NOT** correctly matched?

निम्नलिखित में कौन सुमेलित **नहीं** है?

Options:

- 1) Sandstone - conglomerate
बलुआ पत्थर - कांग्लोमेरेट
- 2) Limestone - Marble
चूना पत्थर - संगमरमर
- 3) Granite - Basalt
ग्रेनाइट - बेसाल्ट
- 4) Gabbro - Serpentine
गैब्रो - सर्पेन्टाइन

Correct Answer: Sandstone - conglomerate
बलुआ पत्थर - कांग्लोमेरेट

Candidate Answer: [NOT ANSWERED]

QID : 481 - The foothill range of Himalaya is known as which of the following name?

हिमालय की तलहटी श्रृंखला को हिमालय के किस नाम से जाना जाता है?

Options:

- 1) Trans Himalaya
ट्रांस हिमालय
- 2) Great Himalaya
महान हिमालय
- 3) Pir Panjal
पीरपंजाल
- 4) Shivalik
शिवालिक

Correct Answer: Shivalik
शिवालिक

Candidate Answer: [NOT ANSWERED]

QID : 482 - "Pandvani" is a major folk dance form of which states?

"पंडवानी" किस राज्य की प्रमुख लोक नृत्य शैली है?

Options:

- 1) Uttarakhand
उत्तराखंड
- 2) Chhattisgarh
छत्तीसगढ़
- 3) Madhya Pradesh
मध्य प्रदेश
- 4) Uttar Pradesh
उत्तर प्रदेश

Correct Answer: Chhattisgarh
छत्तीसगढ़

Candidate Answer: [NOT ANSWERED]

QID : 483 - With which country's university Indian Railways has signed an agreement for Dedicated Freight Corridor?

किस देश के विश्वविद्यालय के साथ भारतीय रेल ने डेडीकैटेड फ्रेट कॉरिडोर के लिए एक समझौता किया है?

Options:

- 1) Japan
जापान
- 2) Canada
कनाडा
- 3) Australia
ऑस्ट्रेलिया
- 4) South Korea
दक्षिण कोरिया

Correct Answer: Australia
ऑस्ट्रेलिया

Candidate Answer: [NOT ANSWERED]

QID : 484 - Who authored the book titled 'Lincoln in the Bardo', which won the Man Booker Prize 2017?

बुकर पुरस्कार 2017 जीतने वाली पुस्तक 'लिनकन इन द बार्डो' किसने लिखा है?

Options:

- 1) George Saunders
जॉर्ज सॉन्डर्स
- 2) Eliza Robertson
एलिजा रॉबर्टसन
- 3) John Grisham
जॉन ग्रिशम
- 4) Stephen Alter
स्टीफन अल्टर

Correct Answer: George Saunders
जॉर्ज सॉन्डर्स

Candidate Answer: [NOT ANSWERED]

QID : 485 - As per length, which is the longest river of China?

लम्बाई की दृष्टि से चीन की सबसे लम्बी नदी कौन-सी है?

Options:

- 1) Yangtze
यांग्जी
- 2) Mekong
मेकाँग
- 3) Ob-Irtis
ओब-इर्टिस
- 4) Amur
आमूर

Correct Answer: Yangtze
यांग्जी

Candidate Answer: Yangtze
यांग्जी

QID : 486 - What is the weight of one mole Carbon atoms?

कार्बन के एक मोल परमाणुओं का भार कितना होता है?

Options:

- 1) 12 gm
12 ग्राम
- 2) 120 gm
120 ग्राम
- 3) 1.2 gm
1.2 ग्राम
- 4) 0.12 gm
0.12 ग्राम

Correct Answer: 12 gm
12 ग्राम

Candidate Answer: 1.2 gm
1.2 ग्राम

QID : 487 - In which of the following solution the concentration of H⁺ ion is the maximum?

निम्नलिखित में से कौन से विलयन में H⁺ आयन की सांद्रता सबसे अधिक है?

Options:

- 1) pH 6
पीएच 6
- 2) pH 8
पीएच 8
- 3) pH 5
पीएच 5
- 4) pH 9
पीएच 9

Correct Answer: pH 5
पीएच 5

Candidate Answer: [NOT ANSWERED]

QID : 488 - How many members are nominated in Rajya Sabha and Lok Sabha respectively by the President of India?

भारत के राष्ट्रपति द्वारा राज्यसभा तथा लोकसभा में क्रमशः कितने सदस्य नामांकित होते हैं?

Options:

- 1) 2, 12
- 2) 12, 2
- 3) 10, 20
- 4) 20, 10

Correct Answer: 12, 2

Candidate Answer: [NOT ANSWERED]

QID : 489 - In case of equal voting, who among the following can cast only a casting vote in Lok Sabha?

लोकसभा में बराबर मत होने पर, निम्नलिखित में से कौन केवल निर्णायक मत कर सकता है?

Options:

- 1) President of India
भारत के राष्ट्रपति
- 2) Prime Minister of India
भारत के प्रधानमंत्री
- 3) Chief Justice of India
भारत के मुख्य न्यायाधीश
- 4) Speaker of Lok Sabha
लोकसभा के अध्यक्ष

Correct Answer: Speaker of Lok Sabha
लोकसभा के अध्यक्ष

Candidate Answer: President of India
भारत के राष्ट्रपति

QID : 490 - Salivary amylase breaks down _____.

लार एमिलेस _____ को खंडित करता है।

Options:

- 1) protein
प्रोटीन
- 2) water
जल
- 3) starch
स्टार्च
- 4) fats
वसा

Correct Answer: starch
स्टार्च

Candidate Answer: [NOT ANSWERED]

QID : 491 - Which of the following represents the pair of sex chromosomes in women?

निम्नलिखित में से कौन सा स्त्रियों में लिंग गुणसूत्रों के जोड़े को दर्शाता है?

Options:

- 1) XY
- 2) XX
- 3) YY
- 4) None of the above
इनमें से कोई नहीं

Correct Answer: XX

Candidate Answer: XX

QID : 492 - The Central Government has launched which of the following app to verify the GST (Goods and Services Tax) Rates under the GST regime?

केन्द्रीय सरकार ने जीएसटी शासन के अंतर्गत जीएसटी (वस्तु एवं सेवा कर) दरों को सत्यापित करने के लिए निम्नलिखित में से कौन सी ऐप लोकार्पित की है?

Options:

- 1) GST Rate Searcher
जीएसटी दर सर्चर
- 2) GST Rate Explorer
जीएसटी दर एक्सप्लोरर
- 3) GST Rate Finder
जीएसटी दर फाइंडर
- 4) GST Rate Google
जीएसटी दर गूगल

Correct Answer: GST Rate Finder
जीएसटी दर फाइंडर

Candidate Answer: GST Rate Finder
जीएसटी दर फाइंडर

QID : 493 - Indian Space Research Organisation (ISRO) and Jet Propulsion Laboratory (JPL) of NASA are working on world's most expensive earth-imaging satellite to use dual frequency. Its name is _____

भारतीय अंतरिक्ष अनुसंधान संगठन (इसरो) तथा नासा की जेट प्रोपलशन लैबोरेटरी (जेपिएल), द्विआवृत्ति इस्तेमाल करने वाली विश्व की सबसे महंगी पृथ्वी प्रतिबिंबन उपग्रह पर कार्य कर रहे हैं। इसका नाम _____ है।

Options:

- 1) Cartosat
कार्टोसैट
- 2) NISAR
निसार
- 3) APM
एपीएम
- 4) NIJAR
निजार

Correct Answer: NISAR
निसार

Candidate Answer: [NOT ANSWERED]

QID : 494 - In September 2017, NABARD sanctioned a loan of about Rs 119 crore for development projects in _____.

सितम्बर 2017 में, नाबार्ड ने _____ में विकास परियोजनाओं के लिए लगभग 119 करोड़ रु का ऋण मंजूर किया है।

Options:

- 1) Nagaland
नागालैंड
- 2) Haryana
हरियाणा
- 3) Karnataka
कर्नाटक
- 4) Kerala
केरल

Correct Answer: Haryana
हरियाणा

Candidate Answer: [NOT ANSWERED]

QID : 495 - On 2 January 2018, Parliament Passed Insolvency and Bankruptcy Code (IBC) amendment Bill, 2017. The Bill seeks to amend _____.

2 जनवरी 2018 को, संसद ने शोध-अक्षमता तथा दिवालियापन संहिता (आईबीसी) संशोधन विधेयक, 2017 पारित किया। यह विधेयक _____ में संशोधन करना चाहता है।

Options:

- 1) IBC, 2015
आईबीसी, 2015
- 2) IBC, 2016
आईबीसी, 2016
- 3) IBC, 2014
आईबीसी, 2014
- 4) IBC, 2013
आईबीसी, 2013

Correct Answer: IBC, 2016
आईबीसी, 2016

Candidate Answer: [NOT ANSWERED]

QID : 496 - Find the acceleration (in m/s^2) produced in a body of mass 4 kg when a force of 24 N is applied on it.

यदि 4 किलोग्राम द्रव्यमान वाली वस्तु पर 24N का बल लगाया जाता है तो उत्पन्न त्वरण (m/s^2 में) ज्ञात करें।

Options:

- 1) 96
- 2) 6
- 3) 12
- 4) 48

Correct Answer: 6

Candidate Answer: 6

QID : 497 - The sum of momentum is _____.

संवेग का SI मात्रक _____ है।

Options:

- 1) kilogram-metre per second
किलोग्राम-मीटर प्रति सेकण्ड
- 2) kilogram-metre per second squared
किलोग्राम-मीटर प्रति वर्ग सेकंड
- 3) kilogram-metre-second
किलोग्राम-मीटर-सेकण्ड
- 4) kilogram-metre-second squared
किलोग्राम-मीटर-वर्ग सेकण्ड

Correct Answer: kilogram-metre per second
किलोग्राम-मीटर प्रति सेकण्ड

Candidate Answer: kilogram-metre per second
किलोग्राम-मीटर प्रति सेकण्ड

QID : 498 - The _____ monsoon winds carry lots of water from the Indian Ocean.

_____ मानसून हिन्द महासागर से काफी जलवाष्प लेकर आती है।

Options:

- 1) northwest
उत्तर-पश्चिम
- 2) southwest
दक्षिण-पश्चिम
- 3) southeast
दक्षिण-पूर्व
- 4) northeast
उत्तर-पूर्व

Correct Answer: southwest
दक्षिण-पश्चिम

Candidate Answer: southeast
दक्षिण-पूर्व

QID : 499 - Which of the statements given below are correct?

- A) Australia won the 2016–17 Men's FIH Hockey World League Final.
- B) Garbiñe Muguruza won the Tennis 2017 Cincinnati Masters Women's Singles.
- C) In 2017 Pro Kabaddi League, Sandeep Narwal played for Puneri Paltan.

निम्नलिखित में से कौन सा कथन सत्य है?

- A) ऑस्ट्रेलिया ने 2016-17 का मेन्स एफआईएच हॉकी वर्ल्ड लीग फाइनल जीता।
- B) गार्बिने मुगुरुजा ने टेनिस 2017 सिनसिनाटी मास्टर्स वूमैस सिंगल्स जीता।
- C) 2017 प्रो कबड्डी लीग में संदीप नरवाल पुणेरी पलटन के लिए खेले।

Options:

- 1) Only C
केवल C
- 2) Both A and C
A और C दोनों
- 3) Both B and C
B और C दोनों
- 4) None of these
इनमें से कोई नहीं

Correct Answer: None of these
इनमें से कोई नहीं

Candidate Answer: [NOT ANSWERED]

QID : 500 - _____ is also known as spreadsheet.

_____ को भी स्प्रेडशीट कहा जाता है।

Options:

- 1) Cells
सेल
- 2) Notepad
नोटपैड
- 3) MS - Office
एमएस - ऑफिस
- 4) Workbook
वर्क बुक

Correct Answer: Workbook
वर्क बुक

Candidate Answer: MS - Office
एमएस - ऑफिस

www.kvclasses.com